

学 力 検 査
社 会

注 意

- 1 指示があるまでは、この冊子を開いてはいけません。
- 2 解答用紙は、この冊子の中に、はさんであります。
- 3 答えは、全て解答用紙に記入しなさい。ただし、の欄には、何も書いてはいけません。
- 4 検査問題は6ページで、問題は 1 から 3 まであります。

令和8年度

検 査 問 題
社 会

1 すみえさんは、歴史の授業で学習したことの中から、世界と日本の歴史に影響を与えたものについて調べ、まとめを書いた。1～12の問いに答えなさい。

[すみえさんのまとめ]

<p>政治や文化を発展させた文字 各地の古代文明では、それぞれ独自の文字が発明された。例えば <input type="text" value="I"/> 文明では、ハンムラビ法典がくさび形文字によって刻まれた。また、文字の発明によって①<u>歴史書</u>が編さんされるようになり、様々な出来事が記録された。 日本では、9世紀頃に、漢字を変形させて、②<u>仮名文字</u>が作られた。</p>	<p>遠洋航海を可能にした羅針盤 ③<u>マルコ・ポーロ</u>によって、ヨーロッパにアジアが紹介された。その後、中国で発明された羅針盤が実用化されたことなどにより、④<u>15世紀から17世紀</u>にかけて、ヨーロッパ人は世界各地へ進出した。 ⑤<u>日本では、海外との貿易が積極的に行われていたが</u>、⑥<u>徳川家光の時代に</u>、鎖国と呼ばれる体制が築かれ、江戸幕府による貿易の統制が行われた。</p>
<p>産業革命の原動力となった蒸気機関 蒸気機関で動く機械などによる生産技術の向上は、イギリスに産業革命をもたらした。⑦<u>19世紀</u>になると、産業革命は他の欧米諸国でも起こり、欧米の国々は、⑧<u>アジア</u>などへの進出を本格化させた。 日本では、明治政府が欧米諸国に対抗するために⑨<u>殖産興業政策</u>を進め、1880年代後半には軽工業を中心に産業革命が進んだ。</p>	<p>文化の大衆化に貢献したラジオ ラジオは、1920年にアメリカで民間放送局が初めて開局して以降、多くの人々に同質性の高い情報をもたらした。 日本では、1925年にラジオ放送が始まると、新聞と並ぶ情報源となり、⑩<u>満州事変</u>などで速報力を発揮した。⑪<u>戦後</u>、日本でも民間放送が始まり、1950年代中ごろには最盛期を迎えた。</p>

1 に当てはまる言葉を、ア～エから一つ選び、符号で書きなさい。

ア エジプト イ メソポタミア ウ インダス エ ギリシャ

2 下線①について、資料1は、魏志倭人伝の一部を要約したものである。 に当てはまる人物の名を書きなさい。

3 下線②について、次の 、 に当てはまる言葉の正しい組み合わせを、ア～エから一つ選び、符号で書きなさい。

9世紀の末ごろから、「竹取物語」や紀貫之らがまとめた「」など、仮名文字による文学作品が盛んに作られるようになった。また、 から出た天皇のきさきたちの周りには、教養や才能のある女性が集められ、紫式部の「源氏物語」や清少納言の「枕草子」などが生み出された。

ア b = 古今和歌集 c = 細川氏 イ b = 古今和歌集 c = 藤原氏
ウ b = 万葉集 c = 細川氏 エ b = 万葉集 c = 藤原氏

4 下線③について、次の に当てはまる言葉を書きなさい。

マルコ・ポーロが仕えたフビライ・ハンは、13世紀半ばにモンゴルから中国にかけての地域に という中国風の国名をつけた。その後、 は二度にわたり日本を襲った。

5 下線④の時期に起きた次のア～ウの出来事を、年代の古い順に並べ、符号で書きなさい。

ア 天正遣欧使節が派遣された。 イ ザビエルが鹿児島に上陸した。
ウ ルターが宗教改革を始めた。

6 下線⑤について、次の に当てはまる言葉を書きなさい。

16世紀頃から始まった、ポルトガル人やスペイン人との貿易は、当時のポルトガル人やスペイン人に対する呼び方にちなみ、 貿易という。この貿易によって、ヨーロッパから鉄砲や時計など様々なものがもたらされた。

7 下線⑥について、(1)、(2)に答えなさい。

(1) 資料2は、「寛文長崎図屏風」である。 に当てはまる、長崎に造られた人工の島の名を、漢字2字で書きなさい。

[資料1]

…南に進むと邪馬台国に着く。ここは女王が都を置いている所である。…倭にはもともと男の王がいたが、その後国内が乱れたので一人の女子を王とした。名を といい…

[資料2]

寛文長崎図屏風の写真

- (2) 次の に当てはまる文を、資料3を参考にして、「年貢」、「田畑」という二つの言葉を用いて、簡潔に書きなさい。

幕府は様々な法令や制度で人々の生活を統制した。資料3もその一つであり、幕府は、百姓から安定的に ことが読み取れる。

[資料3]

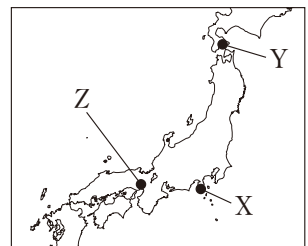
豊かな百姓は田畑を買い集めてますます豊かになり、貧しい百姓は田畑を売却してますます貧しくなるので、今後田畑の売買を禁止する。

(「御触書寛保集成」より作成)

- 8 下線⑦について、次のア～エは19世紀のフランス、イギリス、ロシア、ドイツのいずれかを説明した文である。フランスに当たるものを、ア～エから一つ選び、符号で書きなさい。

- ア 不凍港を求めて南下政策を進めた。
- イ 世界初の万国博覧会が開かれた。
- ウ 「鉄血宰相」と呼ばれた人物の指導の下、国が統一された。
- エ 世界で初めて男子普通選挙が確立された。

[略地図]



- 9 下線⑧について、次の 、 に当てはまる文と言葉の正しい組み合わせを、ア～エから一つ選び、符号で書きなさい。

19世紀半ば、アメリカは 、その後、1853年にペリーを派遣して江戸幕府に開国を求めた。翌年、幕府は日米和親条約を結び、略地図に示されたXと の2港を開いた。

- ア h = 領土が太平洋岸に達し i = Y イ h = 領土が太平洋岸に達し i = Z
 - ウ h = 南北戦争が終結し i = Y エ h = 南北戦争が終結し i = Z
- 10 下線⑨について、次の 、 に当てはまる言葉と文の正しい組み合わせを、ア～エから一つ選び、符号で書きなさい。

群馬県では、1872年に官営模範工場が建てられるなど、 の生産が盛んに行われていた。同年に開通した鉄道は、1885年には前橋から当時最大の貿易港があった横浜まで整備された。この鉄道は、 ための重要な輸送路となり、群馬県の 産業の発展に貢献した。

- ア j = 鉄鋼 k = 製品を港から輸出する
 - イ j = 鉄鋼 k = 輸入した原材料を港から運ぶ
 - ウ j = 生糸 k = 製品を港から輸出する
 - エ j = 生糸 k = 輸入した原材料を港から運ぶ
- 11 下線⑩のきっかけとなった柳条湖事件は、略年表のア～エのどの期間の出来事か。一つ選び、符号で書きなさい。
- 12 下線⑪について、次の 、 に当てはまる文と言葉の正しい組み合わせを、ア～エから一つ選び、符号で書きなさい。

[略年表]

1925年	治安維持法が制定される	……ア
	↓	
1929年	世界恐慌が発生する	……イ
	↓	
1933年	日本が国際連盟を脱退する	……ウ
	↓	
1937年	日中戦争が始まる	……エ
	↓	
1941年	太平洋戦争が始まる	

1951年、吉田茂内閣が 、翌年、日本は独立を回復した。その後、1956年に鳩山一郎内閣が に調印し、同年に日本は国際連合への加盟が実現した。

- ア l = ポツダム宣言を受け入れ m = 日中共同声明
- イ l = ポツダム宣言を受け入れ m = 日ソ共同宣言
- ウ l = サンフランシスコ平和条約を結び m = 日中共同声明
- エ l = サンフランシスコ平和条約を結び m = 日ソ共同宣言

2

ひかりさんは、職場体験で貿易会社と農業機械メーカーを訪れ、その際に聞いた話をきっかけに、日本の工業や農業、水産業についてまとめを書いた。1～12の問いに答えなさい。

[貿易会社のMさんの話]

私の会社では、アジア州の国や地域との取引が増えています。

アジア州は、六大陸のうち面積が最大の **I** 大陸の大半を占めており、その広大な地域を相手に私たちは取引を行っています。

アジア州には、経済成長が著しい国や地域が多く、韓国、シンガポール、台湾、ホンコンは、アジアNIESと呼ばれています。また、中国は、1980年代からシェンチェンやアモイなどに、**II** と呼ばれる、海外の資本や技術を導入するために開放した地域を設け、工業化を進めました。さらに、**①** 西アジアには、鉱産資源の輸出により、経済が成長している国も見られます。

1 **I** に当てはまる言葉を書きなさい。

2 **II** に当てはまる言葉を、漢字4字で書きなさい。

3 略地図1について、**—** で示されたア～ウの緯線の長さを地球儀上で比較したとき、その長さが短い順に、符号で書きなさい。

4 下線①について、次の **a**、**b** に当てはまる言葉の正しい組み合わせを、ア～エから一つ選び、符号で書きなさい。

西アジアの多くの国では、人口の大部分が **a** を信仰している。また、西アジアでは、**b** などの鉱産資源がパイプラインで周辺の国へ運ばれている。

- ア a = イスラム教 b = 石油 イ a = イスラム教 b = 石炭
ウ a = キリスト教 b = 石油 エ a = キリスト教 b = 石炭

[農業機械メーカーのKさんの話]

私の会社では、農業が盛んな国々に農業機械を輸出しています。

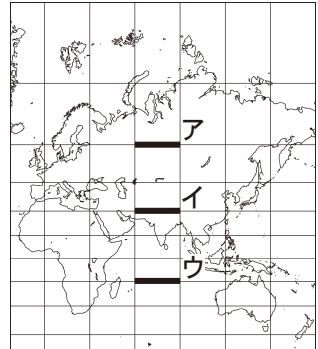
世界有数の農業国の **②** アメリカでは、様々な気候が見られ、その気候に合わせた農業が盛んです。

また、**③** 農作物はアメリカの重要な輸出品で、その生産において、海外から移り住んだ人々が、農業労働者として重要な役割を果たしています。

5 下線②について、グラフ1は、ニューヨーク、アンカレジ、ロサンゼルスそれぞれについて、年降水量、8月の平均気温から1月の平均気温を引いた値を示している。略地図2を参考にして、ロサンゼルスに当たるものを、ア～ウから一つ選び、符号で書きなさい。

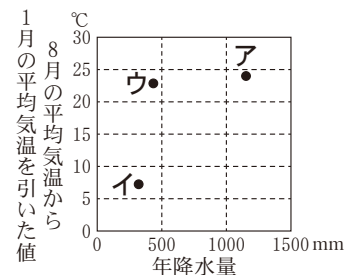
6 下線③について、グラフ2のA、Bは生産量、輸出量、グラフ3のC、Dは南北アメリカ州、ヨーロッパ州のいずれかである。輸出量と南北アメリカ州の正しい組み合わせを、ア～エから一つ選び、符号で書きなさい。

[略地図1]



注：赤道及び15度ごとの緯線と、本初子午線及び30度ごとの経線が示しており、緯線と経線は直角に交わっている。

[グラフ1]

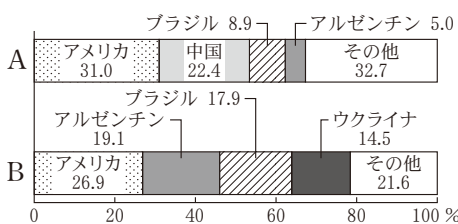


(「理科年表2024」より作成)

[略地図2]

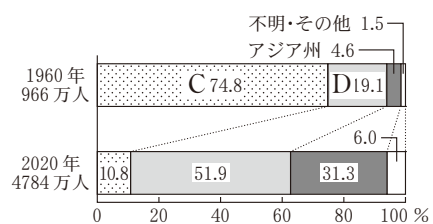


[グラフ2] とうもろこしの生産量と輸出量の国別割合(2020年)



(「FAOSTAT」より作成)

[グラフ3] アメリカ合衆国への移民の出身州別人口の変化



(「アメリカ国勢調査局資料」より作成)

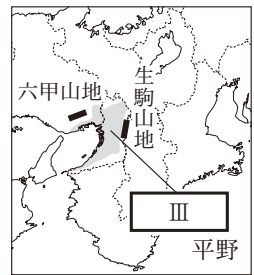
- ア 輸出量 = A 南北アメリカ州 = C イ 輸出量 = A 南北アメリカ州 = D
ウ 輸出量 = B 南北アメリカ州 = C エ 輸出量 = B 南北アメリカ州 = D

[まとめ1] 時代の変化に対応する日本の工業

④ 第二次産業に分類される製造業は、高度経済成長期に比重が高まり、産業の主軸となったが、1980年代後半から⑤ 産業の空洞化が問題となった。例えば、近畿地方では、略地図3の六甲山地や生駒山地に囲まれた、この地方最大の **Ⅲ** 平野が工業の中心であったが、工場の移転や閉鎖が相次いだ。

その後、この地方の中小企業の中には、優れた技術を用いて高品質な部品を生産することに力を入れる企業などが現れ、その製品は国内外から高い評価を受け、世界中に輸出されている。

[略地図3]



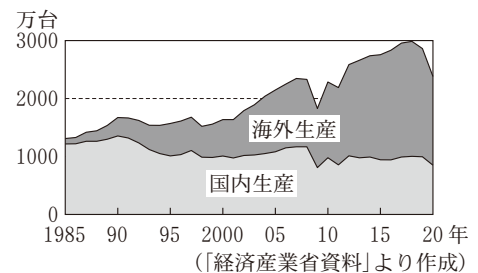
7 下線④に当てはまるものを、ア～エから一つ選び、符号で書きなさい。

- ア 運輸業 イ 金融業 ウ 建設業 エ 林業

8 下線⑤について、次の **Ⅲ** に当てはまる文を、「人件費」、「商品の価格」という二つの言葉を用いて、簡潔に書きなさい。

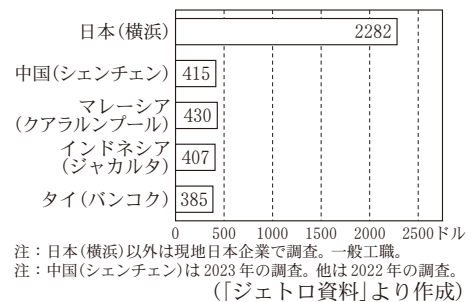
グラフ4から、日本の自動車メーカーは、自動車の生産拠点を変化させていったことが分かる。その理由の一つとして、グラフ5から分かるように、アジア諸国で生産する方が、日本で生産するよりも **Ⅲ** ことができるということが考えられる。このような変化は、国内の産業に影響を及ぼしている。

[グラフ4] 日本の自動車メーカーの生産台数の推移



9 **Ⅲ** に当てはまる地名を、略地図3を参考にして書きなさい。

[グラフ5] 日本企業(製造業)の月額賃金の比較



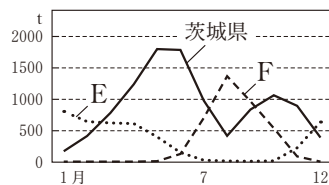
[まとめ2] 活性化を図る日本の農業と水産業

日本では、⑥ 地域の特徴に応じた農業や水産業が行われ、高品質な農水産物を生産する努力が行われている。例えば、⑦ 鹿児島県では畜産が行われ、質の良い肉を生産してブランド化を行っている。また、岩手県では、こんぶやわかめ、かきを食べられる大きくなるまで育てて収穫する **Ⅳ** 漁業が盛んに行われており、高品質な水産物が生産されている。

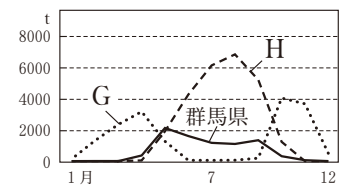
10 下線⑥について、グラフ6のE、Fは岩手県、宮崎県、グラフ7のG、Hは茨城県、長野県のいずれかである。宮崎県と長野県の正しい組み合わせを、ア～エから一つ選び、符号で書きなさい。

- ア 宮崎県=E 長野県=G
イ 宮崎県=E 長野県=H
ウ 宮崎県=F 長野県=G
エ 宮崎県=F 長野県=H

[グラフ6] 東京都中央卸売市場のピーマン入荷量(2024年)



[グラフ7] 東京都中央卸売市場のレタス入荷量(2024年)

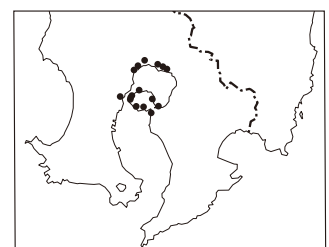


11 下線⑦について、国土地理院では自然災害の被害を教訓として伝える碑(自然災害伝承碑)の登録を、

申請に基づいて進めている。略地図4は、鹿児島県に建てられたある自然災害の碑の位置を●で示している。この碑の分布が示す災害の種類として最も適切なものを、ア～エから一つ選び、符号で書きなさい。

- ア 液状化 イ 雪崩 ウ 洪水 エ 火山災害







[略地図4]



12 **Ⅳ** に当てはまる言葉を書きなさい。

(「地理院地図」より作成)

3 かずきさんのクラスでは、公民の授業で学習したSDGsの17の目標の中から、各班で選んだものについてまとめを書いた。1～11の問いに答えなさい。

<p>A 班 世界では、誰もが健康な生活を送ることができるように、国連の専門機関の一つである①<u>世界保健機関</u>が活動している。 日本では、②<u>自助・共助・公助を組み合わせた社会保障制度</u>によって、国民生活を支えている。</p>	<p>3 すべての人に健康と福祉を</p> 	<p>B 班 各国は、持続可能な③<u>経済成長</u>と、労働者がやりがいをもって働くことができる環境を作ることの両立を目指している。 日本では、ワーク・ライフ・バランスの実現を目指し、④<u>働き方に様々な変化が生じている</u>。</p>	<p>8 働きがいも経済成長も</p> 
<p>C 班 各国は、様々な不平等をなくすため、法律や制度などを見直すことに取り組んでいる。 日本では、⑤<u>基本的人権</u>を保障し不平等をなくすことを目指して、⑥<u>女性への差別を禁止するなど</u>、様々な動きや変化が見られる。</p>	<p>10 人や国の不平等をなくそう</p> 	<p>D 班 各国は、⑦<u>誰もが安心して暮らすことができる社会</u>を目指し、まちづくりを推進している。 日本では、⑧<u>住民が地方の政治に直接参加することができる仕組み</u>などが設けられ、誰もが参加できる形で、よりよいまちづくりに取り組んでいる。</p>	<p>11 住み続けられるまちづくりを</p> 
<p>E 班 各国は、⑨<u>気候変動などの環境問題</u>から地球を守るために協力して、具体的な対策や目標を定めている。 日本では、環境に配慮して、5Rを推進するなどの取り組みが行われている。</p>	<p>13 気候変動に具体的な対策を</p> 	<p>F 班 国連では、⑩<u>安全保障理事会</u>で議論するなど、世界の平和と安全についての話し合いを行っている。 日本は、世界の平和や⑪<u>公正な社会</u>の実現のために、政府開発援助などで国際貢献をしている。</p>	<p>16 平和と公正をすべての人に</p> 

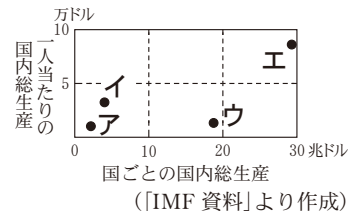
- 下線①の略称を、大文字のアルファベット3字で書きなさい。
- 下線②について、次の文は日本の社会保障制度の四つの基本的な柱のうちの一つについて述べたものである。これに当てはまるものを、ア～オから全て選び、符号で書きなさい。

この考え方は、産業革命を成しとげた19世紀のイギリスで、大気汚染や感染症などが大きな社会問題となり、国が国民の生活環境を守るべきであるとして生まれたものである。日本では、公的扶助、社会福祉とならび「公助」の観点から、感染症対策などの様々な役割を担っている。

ア 公害対策 イ 生活保護 ウ 上下水道の整備 エ 廃棄物処理 オ 労災保険

- 下線③について、グラフ1は、日本、アメリカ、中国、ブラジルのそれぞれについて、2024年の国ごとの国内総生産、一人当たりの国内総生産を示している。日本に当たるものを、ア～エから一つ選び、符号で書きなさい。

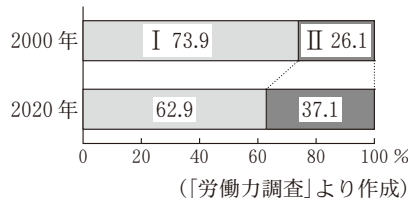
[グラフ1]



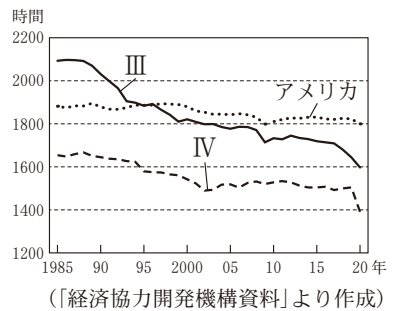
- 下線④について、グラフ2のI、IIは、正規労働者、非正規労働者、グラフ3のIII、IVは、日本、フランスのいずれかである。

非正規労働者と日本の正しい組み合わせを、ア～エから一つ選び、符号で書きなさい。

[グラフ2] 日本の雇用形態別労働者割合の推移



[グラフ3] 日本、アメリカ、フランスの年間労働時間の推移



- ア 非正規労働者＝I 日本＝III
 イ 非正規労働者＝I 日本＝IV
 ウ 非正規労働者＝II 日本＝III
 エ 非正規労働者＝II 日本＝IV
- 下線⑤について、日本国憲法が保障する自由権のうち、経済活動の自由に当たるものを、ア～エから一つ選び、符号で書きなさい。
 ア お金や土地などの財産を持つ権利 イ 裁判官が出す令状がなければ逮捕されない権利
 ウ 選挙に立候補する権利 エ 労働者が団結して行動するために労働組合を作る権利
 - 下線⑥について、女子差別撤廃条約の批准を受けて、労働者の募集などにおける性別を理由とする差別の解消に関して、1985年に制定された法律の名を書きなさい。

7 下線⑦について、次の **a**、**b** に当てはまる言葉の正しい組み合わせを、ア～エから一つ選び、符号で書きなさい。

言語や障がいの有無などにかかわらず、誰もが利用しやすいように工夫した **a** の考え方を取り入れたまちづくりや、災害に強いまちづくりが広がるなど、各地で様々な取り組みが行われている。
 例えば、2000年に有珠山噴火の被害を受けた洞爺湖や有珠山周辺では、地域住民が主体となって防災・減災教育を行っている。この活動は世界的にも評価され、洞爺湖や有珠山周辺は、**b** に認定された。

- ア a = ユニバーサルデザイン b = ユネスコ世界ジオパーク
 イ a = ユニバーサルデザイン b = 世界遺産
 ウ a = インフォームド・コンセント b = ユネスコ世界ジオパーク
 エ a = インフォームド・コンセント b = 世界遺産

8 下線⑧について、次の **c**、**d** に当てはまる言葉の正しい組み合わせを、ア～エから一つ選び、符号で書きなさい。

住民には、直接民主制の考え方を取り入れた直接請求権が認められている。例えば、条例の制定や改廃を求める場合、住民は少なくとも有権者の **c** の署名を集めることで、**d** に請求することができる。

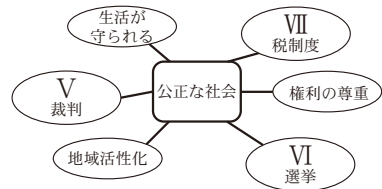
- ア c = 1/3 以上 d = 選挙管理委員会 イ c = 1/3 以上 d = 首長
 ウ c = 1/50 以上 d = 選挙管理委員会 エ c = 1/50 以上 d = 首長

9 下線⑨について、次の **e**、**f** に当てはまる言葉の正しい組み合わせを、ア～エから一つ選び、符号で書きなさい。

持続可能な社会のために、各国は2015年に採択された **e** を基に、温室効果ガスの削減目標の達成に取り組み、地球の気温上昇を抑えることを目指している。また、経済分野では、収益ばかりを求めるのではなく、環境、社会的公正、企業統治の三つの要素を重視する **f** という新しい動きが生まれている。

- ア e = 京都議定書 f = ESG 投資 イ e = 京都議定書 f = マイクロクレジット
 ウ e = パリ協定 f = ESG 投資 エ e = パリ協定 f = マイクロクレジット

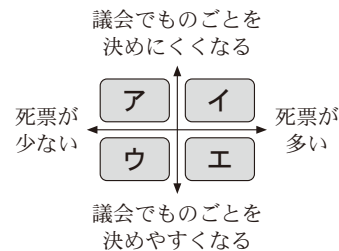
10 下線⑩では、常任理事国のうち1か国でも反対すると、手続きに [図1] に関する問題以外についての決定ができないことになっている。常任理事国がもつこの権利の名を何というか、書きなさい。



11 下線⑪について、かずきさんは公正な社会からイメージされるものについて図1を作成した。図1のV～VIIについて(1)～(3)に答えなさい。

- (1) Vについて、2009年から始まった、国民が裁判官とともに刑事裁判に参加する制度の名を書きなさい。
 (2) VIについて、日本では、小選挙区制と比例代表制の二つの仕組みを採用し、それぞれの長所と短所を組み合わせた選挙制度を採っている。図2のように選挙制度を分類したとき、比例代表制はどこに位置付くか。ア～エから一つ選び、符号で書きなさい。
 (3) VIIについて、次の **g** に当てはまる文を、

[図2] 選挙制度の分類



「所得」、「税率」という二つの言葉を用いて、簡潔に書きなさい。[表] 所得税の税率

日本では、所得税や法人税などの直接税と、消費税や酒税などの間接税を組み合わせ採用している。表は、所得税の税率を示したものであり、所得税は、**g** という累進課税の方法が採られている。

課税される所得金額	税率
195万円未満	5%
195万円以上 330万円未満	10%
330万円以上 695万円未満	20%
695万円以上 900万円未満	23%
900万円以上 1800万円未満	33%
1800万円以上 4000万円未満	40%
4000万円以上	45%

(「国税庁資料」より作成。2025年4月現在)