

# クイズに挑戦

全問正解 → ぎふっこ博士！

7問以下 → ぎふっこ博士まであと少し！

この本をいっしょに読んでみよう！



こたえは次のページから →

## Q1



岐阜県の人口は、  
全国47都道府県の中で、  
多い方から何位？

- ① 7位    ② 17位  
③ 27位   ④ 37位

## Q2



現在の岐阜県では、1年間で  
生まれた人の数と、死亡した人  
の数のどちらが多い？

- ① 生まれた人    ② 死亡した人

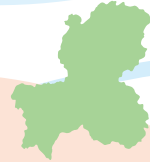
## Q3

岐阜県、愛知県、三重県、  
静岡県の中で、一番面積が  
広いのはどこ？



- ① 岐阜県    ② 愛知県  
③ 三重県   ④ 静岡県

## Q4



岐阜県の土地の使われ方のうち、  
一番面積が広いのは、どんな土地？

- ① 宅地    ② 森林    ③ 農地

## Q5

岐阜県では、ある果物の収穫量が  
全国4位、岐阜市の家庭では、その果物の  
購入量が全国1位だけど、その果物とは？

- ① りんご    ② もも    ③ かき



## Q6

岐阜県で、働いている人の数が  
一番多い産業は？

- ① 農林水産業    ② 工業    ③ 商業



## Q7



岐阜県で製造している  
給排水用バルブ・コック※の  
出荷額は、全国で何位？

- ① 1位    ② 2位    ③ 3位

## Q8

1年間に岐阜県で宿泊した外国人  
観光客数は、平成23年から令和元年  
の9年間で、約何倍に増えた？

- ① 約3倍    ② 約7倍    ③ 約13倍



※ 給排水用バルブ・コックとは、主に台所や洗面所、お風呂の混合水栓(水やお湯を出す蛇口)のこと。

# こたえと解説

表やグラフで比べると、  
答えがはっきり見えるね。



## Q1

岐阜県の人口は、全国47都道府県の中で、多い方から何位？（令和2年）

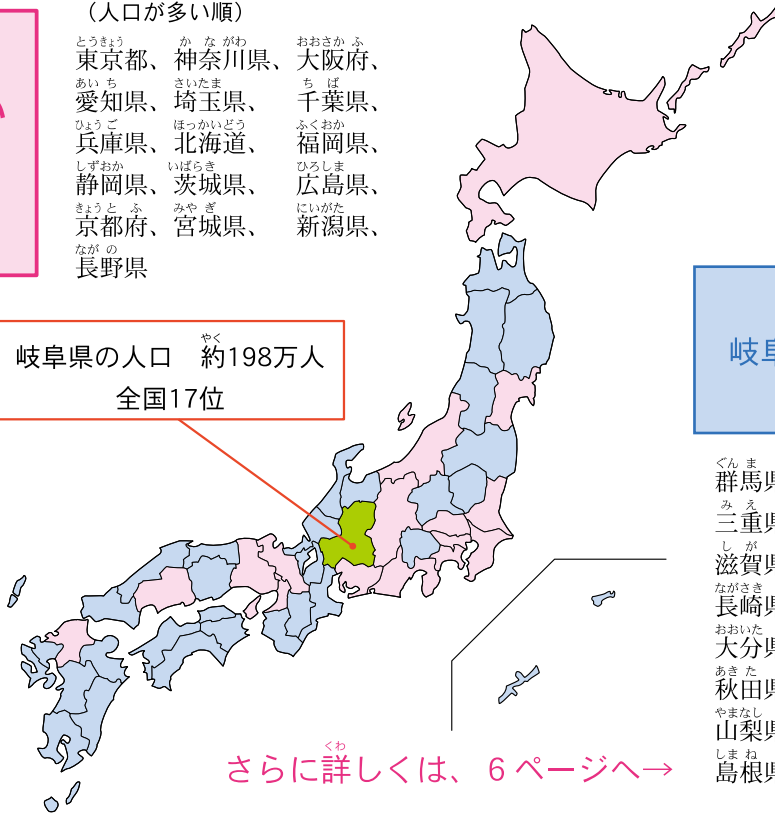
人口が  
岐阜県より多い  
都道府県  
【16都道府県】

（人口が多い順）

東京都、	神奈川県、	大阪府、
愛知県、	埼玉県、	千葉県、
兵庫県、	北海道、	福岡県、
静岡県、	茨城県、	広島県、
京都府、	宮城県、	新潟県、
長野県		

A1  
②17位

岐阜県の人口 約198万人  
全国17位



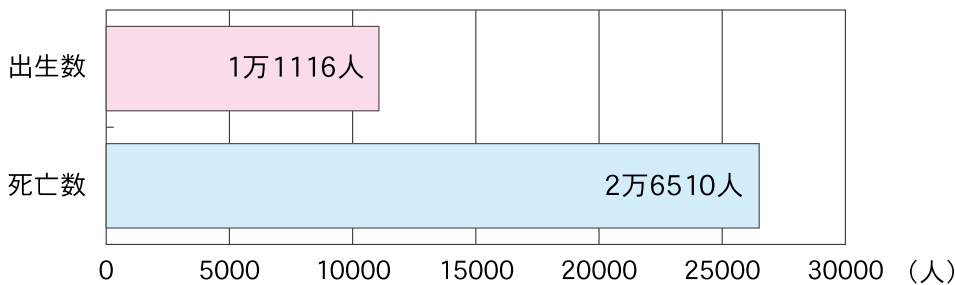
さらに詳しくは、6ページへ→

人口が  
岐阜県より少ない  
都道府県  
【30都道府県】

群馬県、	栃木県、	岡山県、	福島県、
三重県、	熊本県、	鹿児島県、	沖縄県、
滋賀県、	山口県、	愛媛県、	奈良県、
長崎県、	青森県、	岩手県、	石川県、
大分県、	宮崎県、	山形県、	富山県、
秋田県、	香川県、	和歌山県、	佐賀県、
山梨県、	福井県、	徳島県、	高知県、
島根県、	鳥取県		

## Q2

現在の岐阜県では、1年間で生まれた人の数と、死亡した人の数の  
どちらが多い？（令和5年）

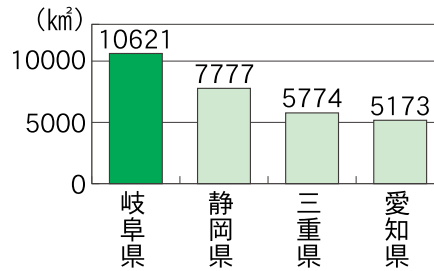
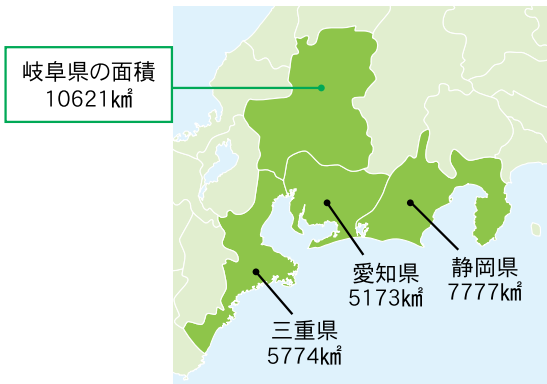


A2  
②死亡した人

さらに詳しくは、8ページへ→

# Q3

岐阜県、愛知県、三重県、静岡県の中で、一番面積が広いのはどこ？（令和5年）

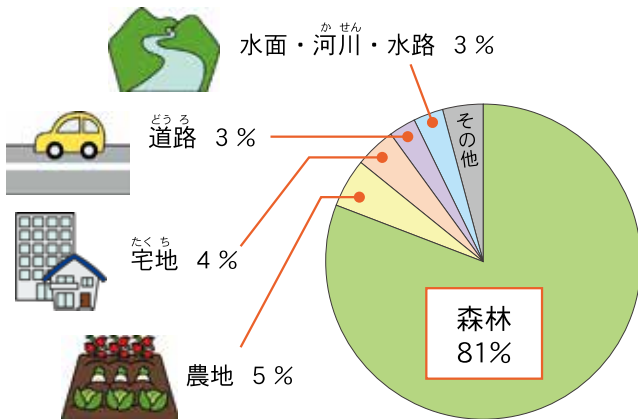


A3  
①岐阜県

さらに詳しくは、12ページへ→

# Q4

岐阜県の土地の使われ方のうち、一番面積が広いのは、どんな土地？（令和4年）

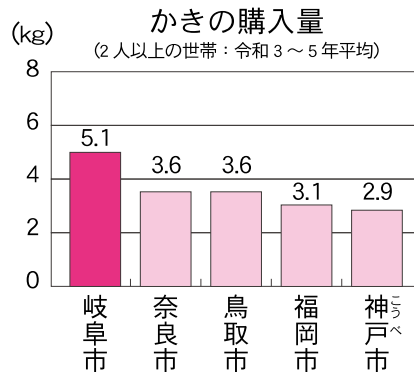
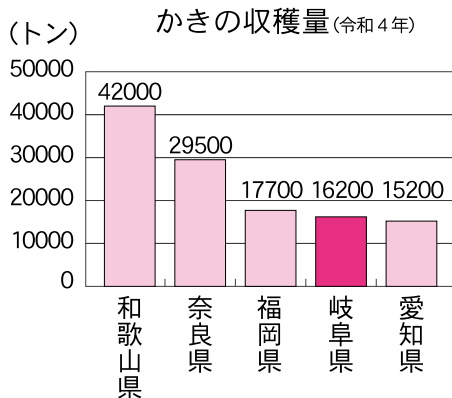


A4  
②森林

さらに詳しくは、12ページへ→

# Q5

岐阜県では、ある果物の収穫量が全国4位、岐阜市の家庭では、その果物の購入量が全国1位だけど、その果物とは？



A5  
③かき

さらに詳しくは、14ページへ→

# Q6

岐阜県で、働いている人の数が一番多い産業は？

(令和2年)



農林水産業

3万人

工業

25万人

商業

16万人

0 10 20 30 (万人)



A6

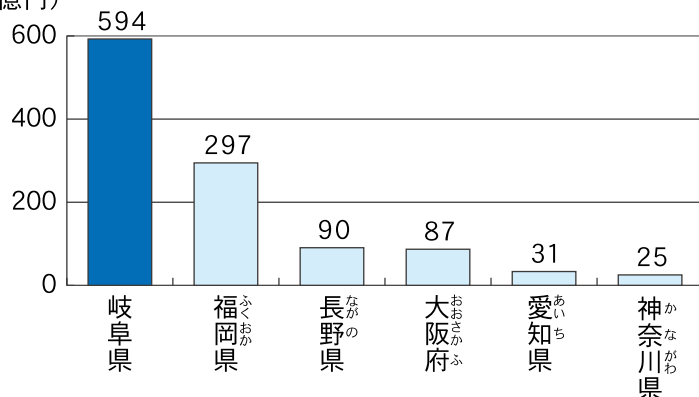
②工業

# Q7

岐阜県で製造している給排水用バルブ・コックの出荷額は、全国で何位？

(令和3年)

(億円)



A7

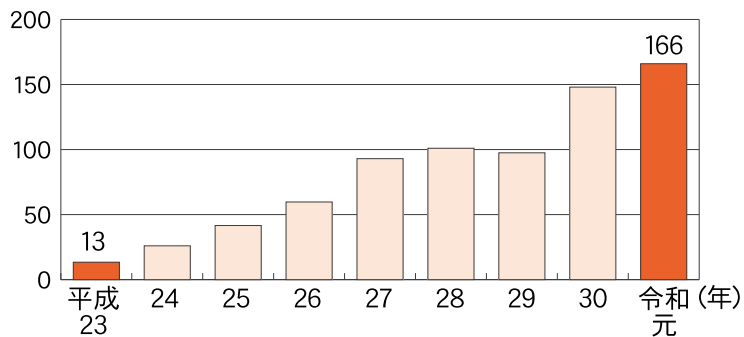
①1位

さらに詳しくは、16ページへ→

# Q8

1年間に岐阜県で宿泊した外国人観光客数は、平成23年から令和元年の9年間で、約何倍に増えた？

(万人)



A8

③約13倍

さらに詳しくは、19ページへ→