

学 力 検 査
社 会

注 意

- 1 指示があるまでは、この冊子を開いてはいけません。
- 2 解答用紙は、この冊子の中に、はさんであります。
- 3 答えは、全て解答用紙に記入しなさい。ただし、の欄には、何も書いてはいけません。
- 4 検査問題は6ページで、問題は 1 から 3 まであります。

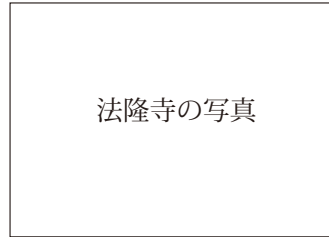
検 査 問 題
社 会

1 かおりさんのクラスでは、歴史の授業で学習したことの中から、班ごとにテーマを設定して、まとめを書いた。1～13の問いに答えなさい。

A班 現代に伝わる奈良・京都の文化

[資料1]

奈良には、日本で最初の仏教文化である飛鳥文化を代表する資料1の や、①平城京に都が置かれていた時代の文化財が多くあり、世界遺産に認定されているものもある。また、京都では、桓武天皇が平安京に都を移してから、②天皇や貴族を中心とした政治が行われ、様々な文化が発展した。承久の乱後には、鎌倉幕府によって朝廷を監視するための が置かれ、南北朝時代には、③足利氏の将軍を中心とする幕府が開かれた。そして、④室町時代から安土桃山時代にかけて、現代にも伝わる文化がいくつも現れた。



1 に当てはまる、現存する世界最古の木造建築といわれている寺を、ア～エから一つ選び、符号で書きなさい。 [資料2]

ア 延暦寺 イ 興福寺 ウ 法隆寺 エ 東大寺

2 下線①について、次の , に当てはまる言葉の正しい組み合わせを、ア～エから一つ選び、符号で書きなさい。

710年に の都の長安にならって造られた平城京の都の跡からは、当時 として使われた資料2のような木簡が出土している。

ア a = 隋 b = 調や庸を都に運ぶときの荷札 イ a = 隋 b = 正式な貿易船の証明
ウ a = 唐 b = 調や庸を都に運ぶときの荷札 エ a = 唐 b = 正式な貿易船の証明

3 下線②について、次の に当てはまる言葉を書きなさい。

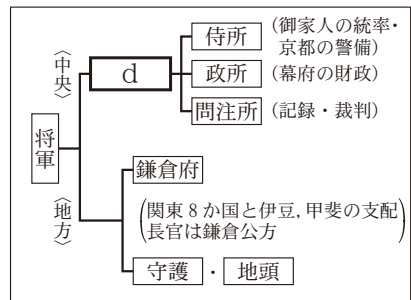
白河天皇は、自分の子孫を確実に天皇の位につけるため、位を譲って上皇になり、その後も政治を動かした。このように上皇が中心となっていく政治を という。

4 に当てはまる機関の名を書きなさい。

5 下線③について、次の , に当てはまる言葉と文の正しい組み合わせを、ア～エから一つ選び、符号で書きなさい。

資料3は、室町幕府の仕組みを示したものであり、将軍の補佐役である には、細川氏などの有力な守護大名が任命された。14世紀後半に将軍になった足利義満は、 , その後、太政大臣となって権力を握った。

[資料3] 室町幕府の仕組み



ア d = 管領 e = 南北朝の統一を実現し イ d = 管領 e = 建武の新政を始め
ウ d = 老中 e = 南北朝の統一を実現し エ d = 老中 e = 建武の新政を始め

6 下線④について、次のア～ウの出来事を、年代の古い順に並べ、符号で書きなさい。

ア 千利休は、妙喜庵待庵という茶室を造り、わび茶と呼ばれる芸能を完成させた。
イ 観阿弥・世阿弥の親子は、幕府の保護を受け、能を大成した。
ウ 足利義政は、銀閣と同じ敷地にある書院造の東求堂同仁齋を、書齋として用いた。

B班 江戸時代の防災と災害への対応

住宅の密集する江戸では火事が多く、1657年の明暦の大火では10万人もの死者が出た。その後、幕府は、火の燃え広がりを防ぐために、広小路や火除け地を設けたり、⑤町火消しを作らせたりするなど、火災に強いまちづくりを進め、⑥江戸は目覚ましく発展した。また、江戸時代には、たびたび、災害などによってききんが起ることがあった。特に、大きなききんが起こったときには、物価が大きく上がり、百姓一揆や打ちこわしが増加することもあったので、幕府は、こうした状況に対応するために様々な改革を行った。

7 下線⑤を組織させ、目安箱を設置した、江戸幕府の将軍の名を書きなさい。

8 下線⑥について、次の , に当てはまる言葉の正しい組み合わせを、ア～エから一つ選び、符号で書きなさい。

江戸は「 」といわれ、18世紀の初めには、人口が約100万人を数える世界最大級の大都市となった。江戸が大消費地になると、京都や大阪を中心とする上方で作られた上質の品物が、略地図1の **一** で示した で大阪から大量に運ばれた。 では、酒などを運ぶ樽廻船や、その他の品物を運ぶ菱垣廻船が運航した。

- ア f = 将軍のおひざもと g = 南海路
- イ f = 将軍のおひざもと g = 西廻り航路
- ウ f = 天下の台所 g = 南海路
- エ f = 天下の台所 g = 西廻り航路

[略地図1]



[略年表1]

年	主な出来事
1657	明暦の大火が起こる
	↓
	……ア
1716	享保の改革が始まる
1732	享保のききんが起こる
	↓
	……イ
1782	天明のききんが起こる
1787	寛政の改革が始まる
	↓
	……ウ
1833	天保のききんが起こる
	↓
	……エ
1841	天保の改革が始まる

9 B班は、まとめを補うために、略年表1を作成した。次の出来事は、略年表1のア～エのどの期間の出来事か。一つ選び、符号で書きなさい。

大阪町奉行所の元役人の大塩平八郎が、奉行所の対応に不満をもち、弟子など300人ほどで大商人を襲い、米や金を生活に苦しむ人々に分けようとした。

C班 エネルギーと産業の発展

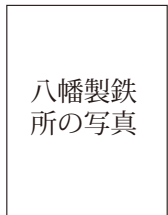
1872年に、新橋と幕末最大の貿易港であった との間に、日本で初めての鉄道が開通してから、鉄道などの輸送機関では石炭が利用された。また、石炭は、産業革命期に造られた大工場の動力源として、さらには、⑦その後発展した重化学工業の分野でも利用された。日本は、⑧アメリカから始まった世界恐慌の影響で深刻な打撃を受けたときに、重化学工業の発展によって経済を回復させたが、この時期にも石炭が主要なエネルギー源となった。第二次世界大戦後には、石炭の増産が最優先で進められ、経済復興を支えたが、1960年代には、石油が石炭にかわってエネルギーの中心となり、臨海型の工業地域が形成された。しかし、工業が発展した一方で、⑨公害が社会問題となり、その対策も進められてきた。

10 に当てはまる都市の名を、漢字2字で書きなさい。

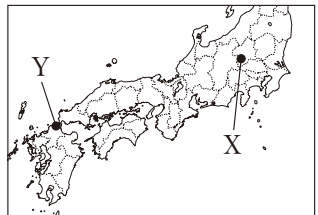
11 下線⑦について、次の , に当てはまる言葉の正しい組み合わせを、ア～エから一つ選び、符号で書きなさい。

資料4の官営の八幡製鉄所は、 で得た賠償金を基に、略地図2の の場所に建設された。初めは生産量の低い状況が続いたが、後に国内の鉄の大半をまかなうようになり、後の重化学工業発展の基礎になった。

[資料4]



[略地図2]

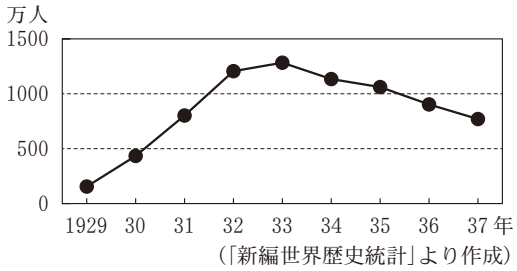


- ア h = 日清戦争 i = X イ h = 日清戦争 i = Y
- ウ h = 日露戦争 i = X エ h = 日露戦争 i = Y

12 下線⑧について、次の に当てはまる文を、グラフを参考にして、「公共事業」、「失業者」という二つの言葉を用いて、簡潔に書きなさい。

アメリカは、大不況に対応するため、ローズベルト大統領の下、1933年からニューディール(新規巻き直し)という政策を始めた。この政策では、農業や工業の生産を調整する一方で、 などして、景気の回復を図った。

[グラフ] アメリカの失業者数の推移



[略年表2]

年	主な出来事
1950	特需景気が起こる
1960	所得倍増計画が出される
	↓
	……Z
1973	石油危機が起こる

- 13 下線⑨について、略年表2のZの期間に、日本で起きた出来事を、ア～エから一つ選び、符号で書きなさい。
- ア 足尾銅山鉱毒事件が社会問題となる イ 京都議定書が採択される
 - ウ 環境基本法が制定される エ 環境庁が設置される

2

りょうさんとゆうなさんは、世界や日本の様々な地域の産業の変化に関心をもち、まとめを書いた。

1～12の問いに答えなさい。

[りょうさんのまとめ]

《南アメリカの産業の変化》

アンデス山脈は、プレートの境界付近の、①火山や地震の震源が帯のように分布する場所に位置している。山脈の中央部には、標高4000m付近でも暖かいところがあり、人々は日干しれんがや石で造られた家に住んでいる。また、住居より標高の低い場所で主食となる を栽培するなど、伝統的な暮らしも見られる。近年は、交通網の整備や資源の開発などにより、都市に移り住む人、鉱山で働く人、観光産業に従事する人もいる。

《南太平洋の産業の変化》

②日付変更線の西側に位置する島国のサモアでは、河口や入り江の周辺に と呼ばれる森林が広がり、漁業などを中心とした生活が見られる。近年は、外国の生活様式が広まり、生活の中に増えてきた輸入製品を購入するお金を得るため、ニュージーランドなどへ出稼ぎに行く人もいる。

《アフリカの産業の変化》

焼畑農業や牧畜などの伝統的な生活が見られる一方で、植民地時代以後、少ない種類の農作物や鉱産資源の輸出に頼るモノカルチャー経済も広まった。③ナイジェリアをはじめ多くの国では、現在でもモノカルチャー経済の状態にあるため様々な課題が生じており、解決するための取り組みが進められている。また、共通の問題を協力して解決するために④アフリカ連合を結成し、発展に向けた努力をしている。

1 下線①は、略地図1の で示された場所である。この場所を何というか、書きなさい。

2 に当てはまる言葉を、ア～エから一つ選び、符号で書きなさい。

ア タロイも イ じゃがいも ウ 米 エ 小麦

3 下線②について、次の , に当てはまる言葉の正しい組み合わせを、略地図2を参考にして、ア～エから一つ選び、符号で書きなさい。

標準時子午線の異なる国や地域の間では、その経度の差が15度につき1時間の時差が生じる。地球を一周すると 時間の時差になるため、経度180度を基準に日付変更線を設けて日付を調整している。そのため、略地図2の矢印の方向に日付変更線をまたいで移動するときは、日付を1日 ことになる。

ア a = 12 b = 進める イ a = 12 b = 遅らせる

ウ a = 24 b = 進める エ a = 24 b = 遅らせる

4 に当てはまる言葉を、ア～エから一つ選び、符号で書きなさい。

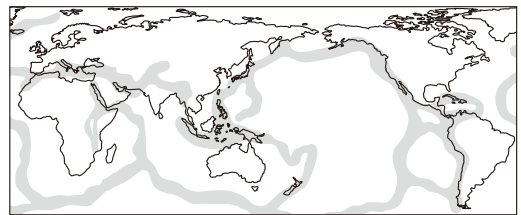
ア マングローブ イ タイガ ウ サバナ エ ステップ

5 下線③について、次の に当てはまる文を、「原油の価格」、「国の収入」という二つの言葉を用いて、簡潔に書きなさい。

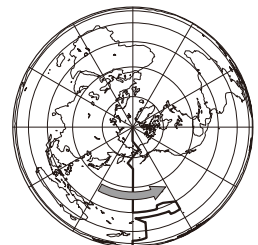
輸出品の内訳がグラフ1のようにになっているナイジェリアでは、グラフ2のように、世界的な経済の状況などによって ことが難しいということが課題になっている。

6 下線④の略称を、大文字のアルファベット2字で書きなさい。

[略地図1]

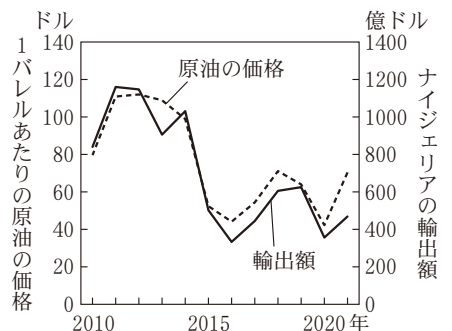


[略地図2] 北極を中心に描いた地図



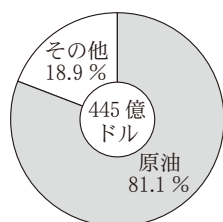
注：経線、緯線は30度ごとに示してある。また、——は日付変更線を示している。

[グラフ2] 国際市場での1バレルあたりの原油の価格とナイジェリアの輸出額の推移



注：1バレル＝約159リットル。
〔THE WORLD BANK Commodity Markets〕などより作成

[グラフ1] ナイジェリアの主な輸出品の内訳(2017年)



(「国連資料」より作成)

[ゆうなさんのまとめ]

《中国・四国地方の産業の変化》

⑤中国・四国地方は、四国山地より南の南四国、中国山地より北の **Ⅲ**，その間の瀬戸内の三つの地域からなり、それぞれの地域の特徴を生かした農業や漁業、石油化学などの工業が盛んである。近年は、
⑥交通網が発達したことで、近畿地方や関東地方への農産物などの出荷や、瀬戸内海を渡って通勤や通学をする人々も増えてきた。

《関東地方の産業の変化》

⑦都心に企業などが集中し、周辺の地域から通勤・通学する者も多い。臨海部には工業地帯が形成され、都市周辺では都市に向けた畜産や野菜の栽培が、内陸では火山灰が堆積した赤土の **Ⅳ** におおわれた台地で畑作が行われている。近年は、
⑧交通網の発達により、関東地方だけでなく、その他の地方からも農産物が都市に届けられている。

7 下線⑤について、グラフ3の**ア**～**ウ**は、略地図3に示された都市の1月と8月の平均降水量を示している。高松市に当たるものを、**ア**～**ウ**から一つ選び、符号で書きなさい。

8 **Ⅲ** に当てはまる地域の名を書きなさい。
9 下線⑥について、表1のA, Bは徳島県、愛媛県、グラフ4のC, Dは自動車、船舶のいずれかである。徳島県と自動車の正しい組み合わせを、**ア**～**エ**から一つ選び、符号で書きなさい。

[表1] 四国発の高速バス利用者の割合(2019年)

行き先 出発地	大阪府・京都府・兵庫県	広島県 岡山県	その他	利用者の 合計(人)
A	57.2%	33.8%	9.0%	9,002
B	90.2%	2.8%	7.0%	19,590
香川県	86.4%	5.0%	8.6%	12,688
高知県	67.8%	22.7%	9.5%	5,522

注：「その他」の行き先は、関東地方、北陸地方、愛知県、福岡県。

ア 徳島県=A 自動車=C **イ** 徳島県=A 自動車=D
ウ 徳島県=B 自動車=C **エ** 徳島県=B 自動車=D

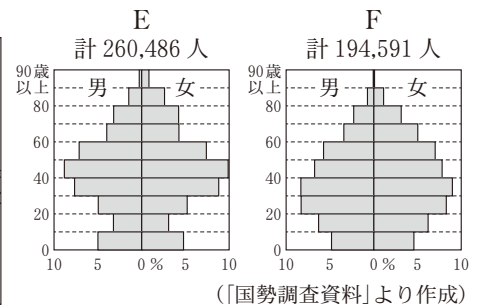
10 下線⑦について、略地図4は東京都の港区の位置を示し、グラフ5のE, Fは1985年、2020年のいずれかである。次の **d**，**e** に当てはまる言葉の正しい組み合わせを、**ア**～**エ**から一つ選び、符号で書きなさい。

略地図4の港区では、1990年代に地価が下がりはじめ、再開発が進み、高層マンションや商業施設が建設され、人口が流入する **d** が起こった。2020年には、グラフ5のように人口や年齢別の人口割合も変化し、**e** 歳代の割合が増加した。

[略地図4]



[グラフ5] 港区の年齢別人口割合

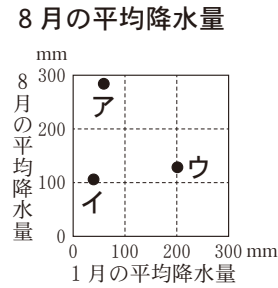


ア d=都心回帰の現象 e=40 **イ** d=都心回帰の現象 e=20
ウ d=ドーナツ化現象 e=40 **エ** d=ドーナツ化現象 e=20

11 **Ⅳ** に当てはまる言葉を書きなさい。

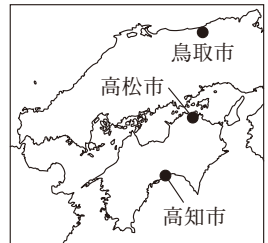
12 下線⑧について、表2の**ア**～**エ**は、キャベツ、なす、じゃがいも、もののいずれかである。キャベツに当たるものを、**ア**～**エ**から一つ選び、符号で書きなさい。

[グラフ3] 1月と8月の平均降水量

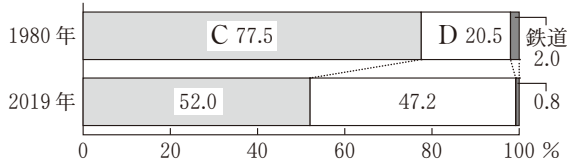


([理科年表2022]より作成)

[略地図3]



[グラフ4] 四国発国内貨物輸送量の、輸送手段別割合の変化



(表1, グラフ4とも「四国運輸局資料」より作成)

[表2] 東京都中央卸売市場の入荷量の割合(2021年)

ア		イ		ウ		エ	
産地	%	産地	%	産地	%	産地	%
北海道	56.2	高知県	44.9	群馬県	25.9	山梨県	51.8
鹿児島県	16.2	群馬県	21.7	愛知県	23.7	福島県	28.3
長崎県	15.9	栃木県	13.8	千葉県	21.4	山形県	8.9
その他	11.7	その他	19.6	その他	29.0	その他	11.0

([東京都中央卸売市場資料]より作成)

3 りこさんとゆうまさんは、職業講話を聞いて学んだことについてまとめを書いた。1～11の問いに答えなさい。

〔りこさんのまとめ〕 講師：裁判官のSさん

《仕事の内容》

刑事裁判や において、当事者の話をよく聞いて、法律に基づいて判決を下す。

《インタビューの記録(一部)》

質問：「どのようなところにやりがいを感じますか。」

答え：「裁判所は、公正な裁判が行われるように、①三権分立の原則に基づいて、②国会や③内閣から独立しています。したがって、他の権力からの圧力や干渉を受けることなく、自らが最終的に判断を下すことができるという点に、誇りとやりがいを感じます。」

《分かったこと、考えたこと》

裁判官の仕事は、④人権を守る責任感と公平さが重要だと分かった。今後⑤裁判員として裁判に参加することも考えられるので、主権者としてしっかりと制度について理解しておきたい。

1 に当てはまる言葉を、次の文を参考にして書きなさい。

は、個人と企業の間、個人と個人の間など、私人の間の争いについての裁判である。審理では、訴えた人が原告、訴えられた人が被告となって、意見を述べ合う。

〔資料1〕

モンテスキューの画像

2 下線①について、18世紀に著書「法の本質」で三権分立を説いた、資料1のフランスの思想家の名を書きなさい。

3 下線②について、(1)、(2)に答えなさい。

〔表1〕 2021年の国会の動き

(1) 表1の ～ に当てはまる言葉の正しい組み合わせを、ア～エから一つ選び、符号で書きなさい。

- ア A=常会 B=特別会 C=臨時会
 イ A=常会 B=臨時会 C=特別会
 ウ A=臨時会 B=特別会 C=常会
 エ A=臨時会 B=常会 C=特別会

日にち	主な出来事	
1月18日	<input type="text" value="A"/>	が召集される
10月4日	<input type="text" value="B"/>	が召集される
10月14日	衆議院が解散される	
10月31日	衆議院議員総選挙が行われる	
11月10日	<input type="text" value="C"/>	が召集される
12月6日	<input type="text" value="B"/>	が召集される

(2) 衆議院で可決された法律案が参議院で否決された場合でも、衆議院で再可決されれば法律となる。総議員数465人の衆議院で450人の議員が出席した場合、再可決のためには最低何人の賛成が必要となるか。ア～エから一つ選び、符号で書きなさい。

- ア 226人 イ 233人 ウ 300人 エ 310人

4 下線③について、次の に当てはまる文を、「過半数」という言葉を用いて、簡潔に書きなさい。

内閣は、内閣総理大臣とその他の国務大臣で組織される。日本国憲法では、内閣総理大臣が国務大臣を任命することや、国務大臣のうち ことが定められている。

〔資料2〕

第1条 すべての人間は、生れながらにして自由であり、かつ、尊厳と権利とについて平等である。人間は、理性と良心とを授けられており、互いに同胞の精神をもって行動しなければならない。

5 下線④について、資料2は、1948年に国際連合の総会において採択された宣言の一部を示したものである。この宣言の名を書きなさい。

6 下線⑤について、裁判員が行うこととして適切なものを、ア～オから全て選び、符号で書きなさい。

- ア 被疑者を取り調べ、必要があれば起訴する。 イ 公判で必要があれば被告人や証人に質問する。
 ウ 被告人が有罪か無罪かを評議・評決する。 エ 被告人が有罪の場合の刑罰を評議・評決する。
 オ 被告人に判決を言い渡す。

【ゆうまさんのまとめ】 講師：スーパーマーケットの店長の T さん

《仕事の内容》

⑥商品 の仕入れ・販売の計画を立てたり、⑦従業員 の募集などの人事や会計事務の管理を行ったりする。

《インタビューの記録(一部)》

質問：「スーパーマーケットの経営で、工夫しているところは何か。」

答え：「⑧少子高齢化が進み、家族の形が多様化する中で、小分けのお総菜を増やすなどの工夫をしています。

また、国産の食品に加えて、⑨様々な国や地域から輸入された食品を豊富に取りそろえています。さらに、支払いが簡単にできるように、⑩クレジットカードや電子マネーの利用ができるようにしています。」

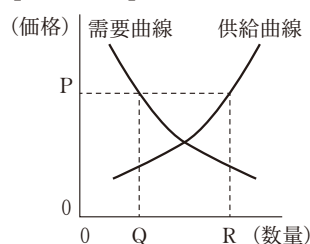
《分かったこと、考えたこと》

スーパーマーケットでは、社会の変化や消費者の要望を、経営に生かしていることが分かった。私たち消費者は、お店や商品に関する多くの情報を集め、自分の意思と判断で適切な買い物ができるようにしていきたい。

7 下線⑥について、次の , に当てはまる言葉の正しい組み合わせを、ア～エから一つ選び、符号で書きなさい。

グラフ1は、ある商品の需要量、供給量、価格の関係を示している。価格がP円であるとき、供給量が需要量を おり、 が売れ残りの量となるので、一般に、この商品の価格は下落する。

【グラフ1】



- ア c = 下回って d = R と Q の和 イ c = 下回って d = R と Q の差
- ウ c = 上回って d = R と Q の和 エ c = 上回って d = R と Q の差

8 下線⑦について、資料3はTさんが作成した求人広告の一部である。この内容は、労働三法の一つである、労働時間や賃金などの最低限の労働条件を定めた法律に基づいて作成された。この法律の名を書きなさい。

【資料3】

業務：レジ、商品管理
 給与：固定給 18万円～
 時間：9:00～18:00 の間で
 実働 8 時間
 休日：週休 2 日制

9 下線⑧について、表2のI、IIは1990年、2015年、グラフ2のIII、IVは核家族世帯、単独世帯のいずれかである。2015年と単独世帯の正しい組み合わせを、ア～エから一つ選び、符号で書きなさい。

- ア 2015年 = I 単独世帯 = III
- イ 2015年 = I 単独世帯 = IV
- ウ 2015年 = II 単独世帯 = III
- エ 2015年 = II 単独世帯 = IV

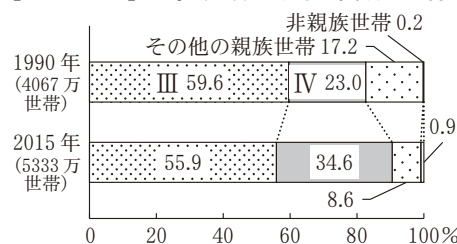
【表2】 高齢者一人に対する現役世代の人数

年	人
I	2.1
II	5.1

注：高齢者とは65歳以上、現役世代とは20～64歳の世代をさす。

(「国立社会保障・人口問題研究所資料」より作成)

【グラフ2】 家族類型別世帯数の変化



(「国勢調査報告」などより作成)

10 下線⑨について、(1)、(2)に答えなさい。

(1) 次の , に当てはまる言葉の正しい組み合わせを、ア～エから一つ選び、符号で書きなさい。

表3を見ると、2023年5月は、2022年10月よりも1ドルあたりの円の価値が10円高かったので、1ドルは 円である。日本の企業がアメリカの企業から50ドルの食品を輸入するときの金額を比べると、2023年5月は、2022年10月よりも、500円 なる。

【表3】 為替相場

年月	1ドル
2022年10月	147円
2023年5月	<input type="text" value="e"/> 円

(「日本銀行資料」より作成)

- ア e = 137 f = 安く イ e = 137 f = 高く ウ e = 157 f = 安く エ e = 157 f = 高く

(2) 途上国の原料や製品を適正な価格で継続的に購入することを通じて、途上国の生産者の経済的な自立を目指す運動のことを何というか、ア～エから一つ選び、符号で書きなさい。

- ア マイクロクレジット イ クーリング・オフ ウ フェアトレード エ セーフティーネット

11 下線⑩について、次の に当てはまる数字を書きなさい。

現在、クレジットカードは、原則として 歳から、本人の意思のみで申し込むことができる。