
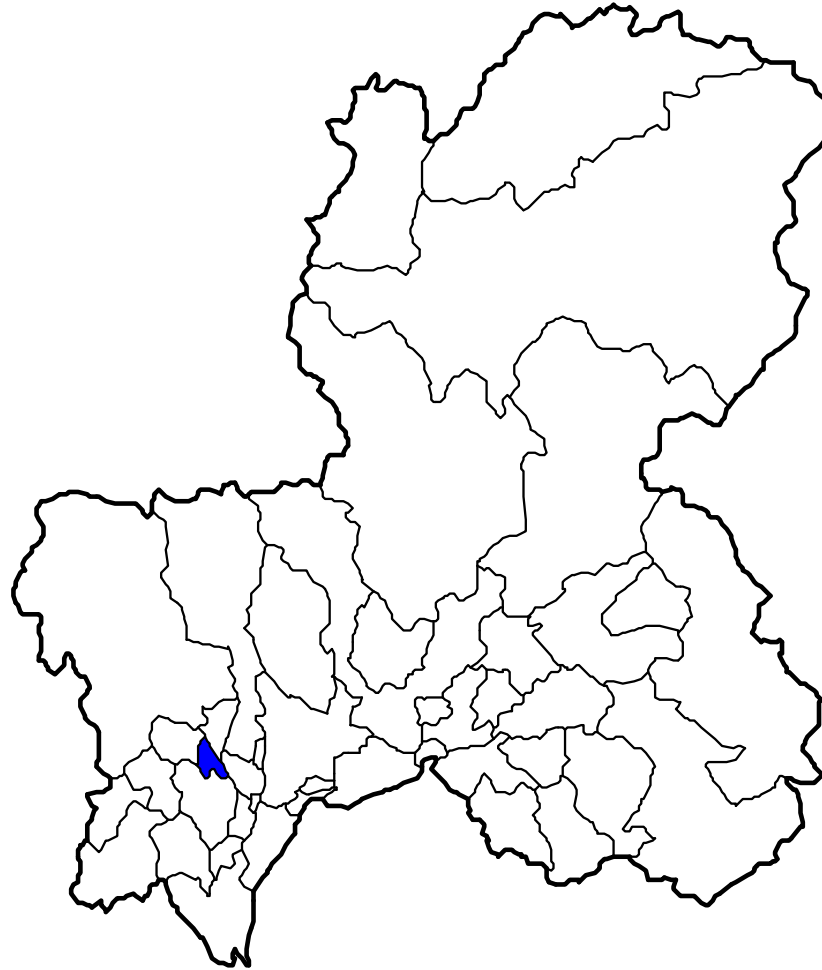


統計データからみた岐阜県・神戸町



ミナモ
清流の国ぎふ
マスコットキャラクター



テルミー
岐阜県統計課
マスコットキャラクター

とうけい

● 統計って知ってるかな？

統計とは・・・

統べる

すべる
まとめる

+

計る

はかる

- ・観察(かんさつ)
 - ・調査(ちょうさ)
 - ・実験(じっけん)
- ⇒ データの
収集・整理(しゅうしゅう・せいり)

- ・加工(かこう)
- ・計算(けいさん)
- ・グラフ化

岐阜県や**神戸町**の
「**特ちょう**」や「**じまん**」
を学習していきます。



楽しみだね！





岐阜県のシンボル



問題 1

岐阜県の花は「れんげ」、木は「イチイ」、
鳥は「ライチョウ」です。
では、魚はなんでしょう？


- ① こい ② あゆ ③ さけ



岐阜県の特ちょうを表して
いるものばかりだよ。




岐阜県の「花」「木」「魚」「鳥」 ～シンボルは県の特徴を示しています～




県民からの公募により、「郷土の花」として選ばれました。春のやさしい風景によく似合う花として知られています。

県の花：れんげ




あゆは、美しい姿と良い香りで大切にされており、岐阜県のアユは長良川の鵜飼とともに全国的に有名です。

県の魚：あゆ



昔、この木で笏(しゃく)を作って天皇にさしあげたところ正一位という位を受けました。それ以来、イチイと呼ばれていると伝えられています。

県の木：イチイ



ライチョウは、日本アルプスのうちでも、2,400メートル以上の高い山に住み、羽毛は、夏は褐色、冬は白に変わります。国の特別天然記念物に指定されています。

県の鳥：ライチョウ



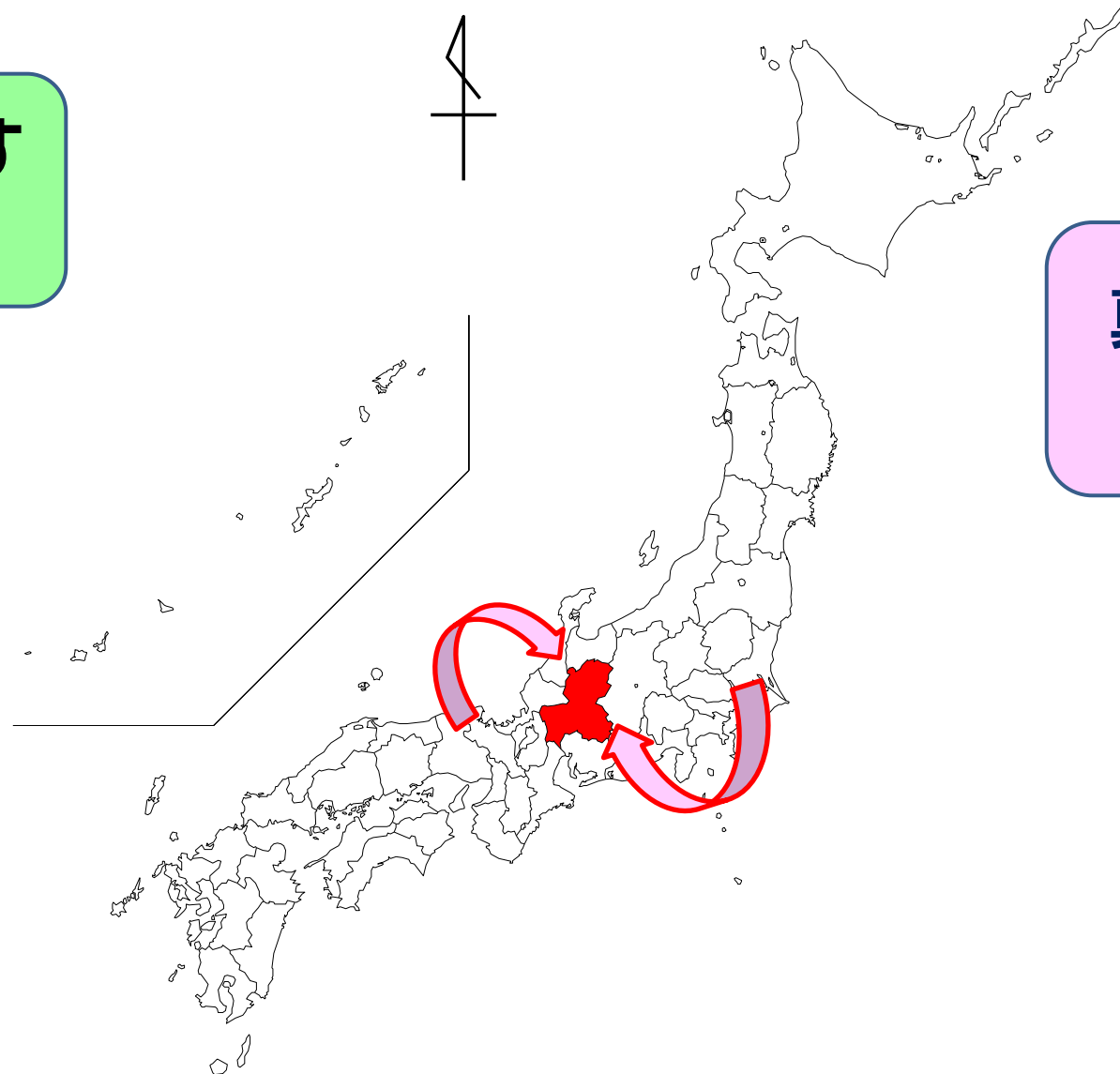
し ぜん き こう

自然と気候



岐阜県は日本の真ん中にある。
東京、大阪、名古屋に近く便利なところ。

日本の真ん中を表す
統計があるよ。



真ん中だから
便利だね。

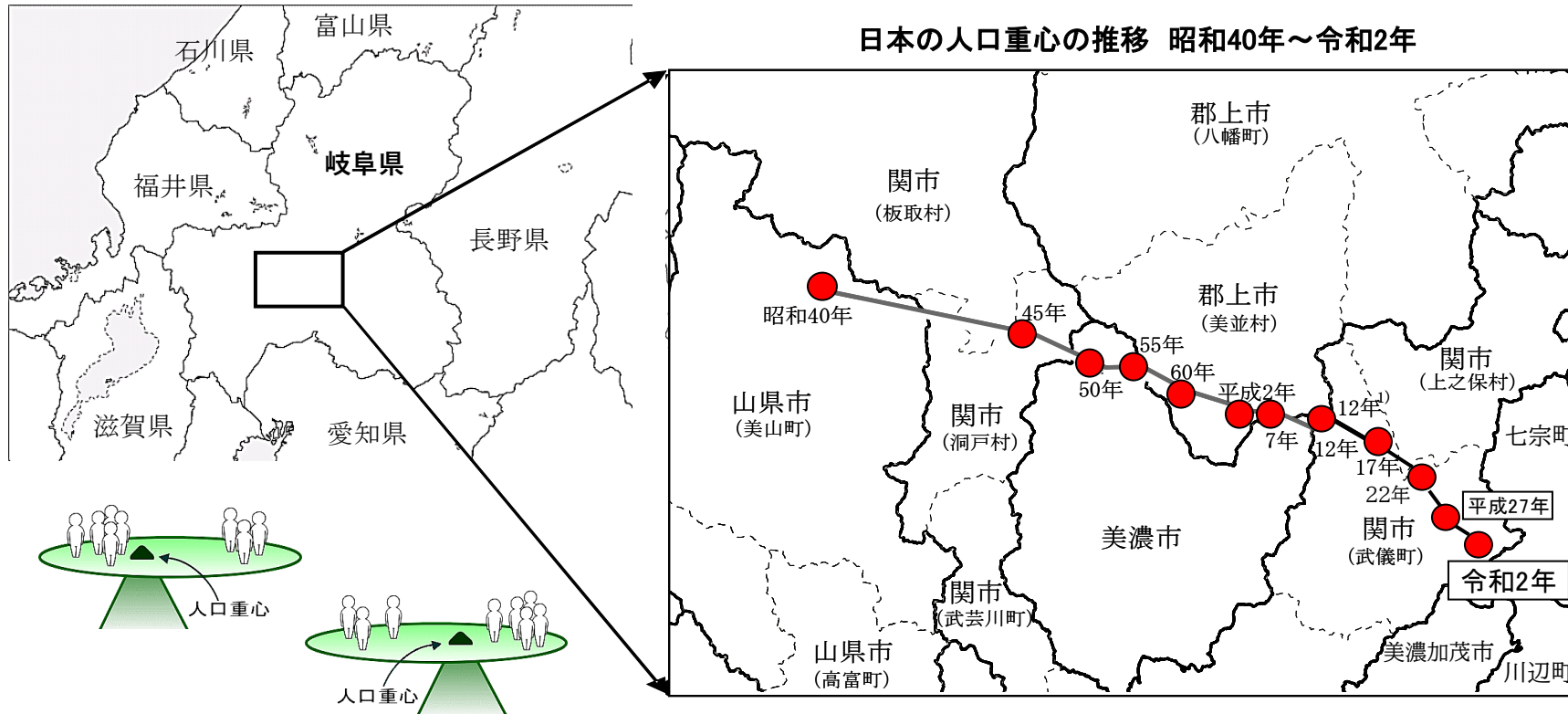


日本の真ん中ぎふ ～日本のヘソ「人口重心」がある～

じんこうじゅうしん

かてい

人間の体で言えば「へそ」に当たる「人口重心」とは、人口の1人1人が同じ体重と仮定して、日本の人口が、全体としてつりあうことのできる点をいいます。



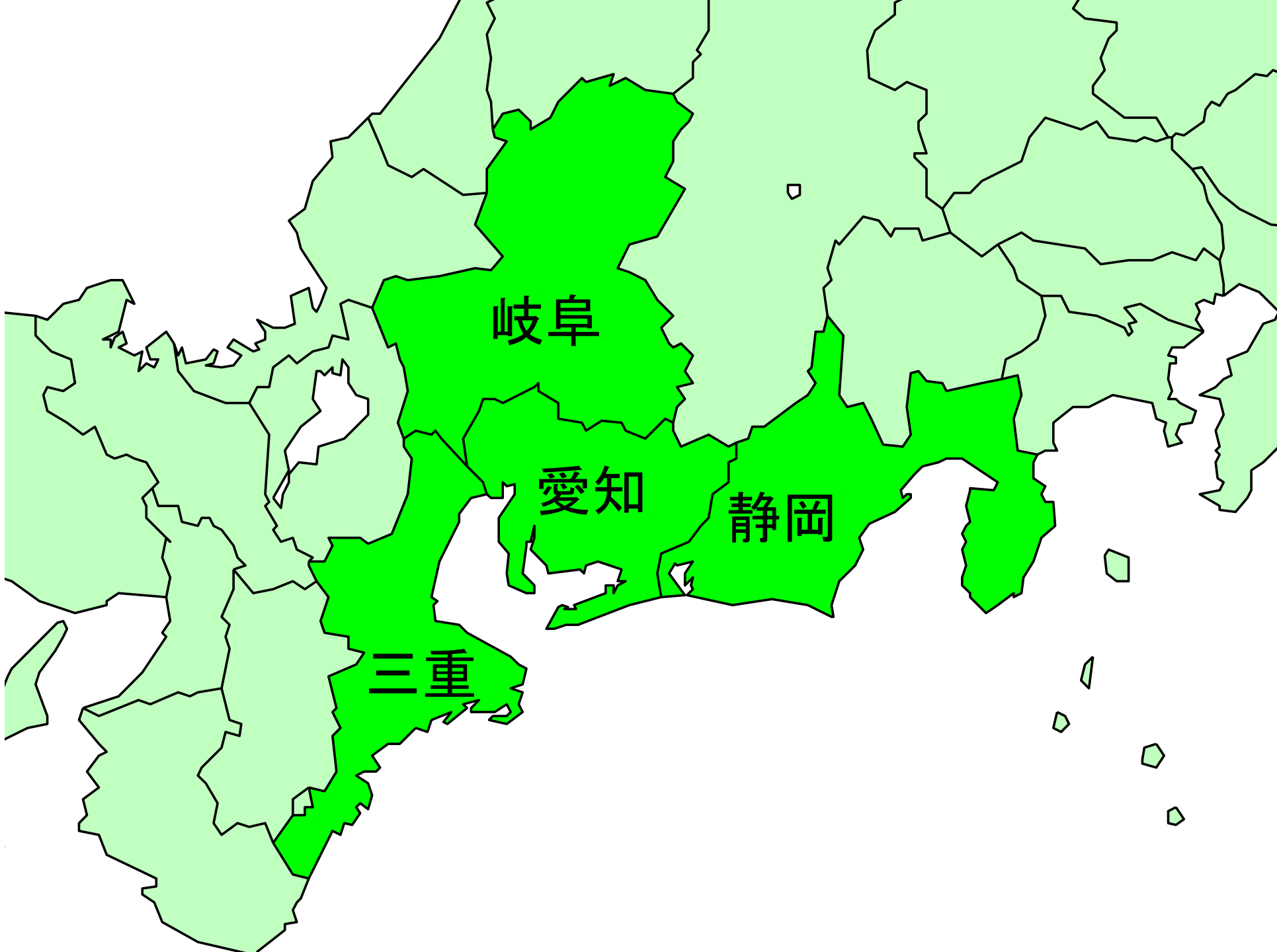
問題 2

**岐阜県、愛知県、三重県、
静岡県**の中で、一番面積
が広いのはどこ？



岐阜県の面積は、
約10621km²だよ！





岐阜

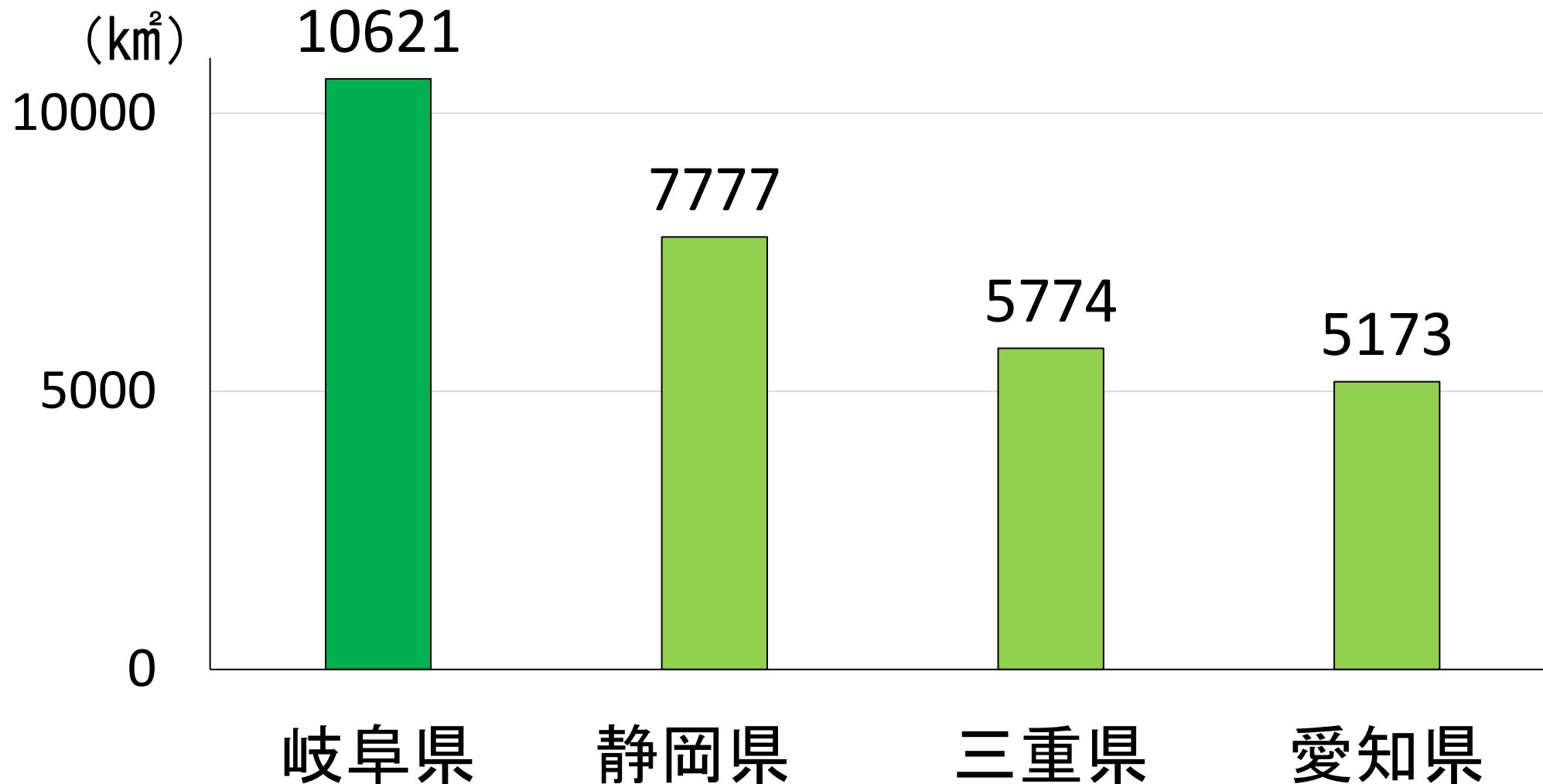
愛知

静岡

三重

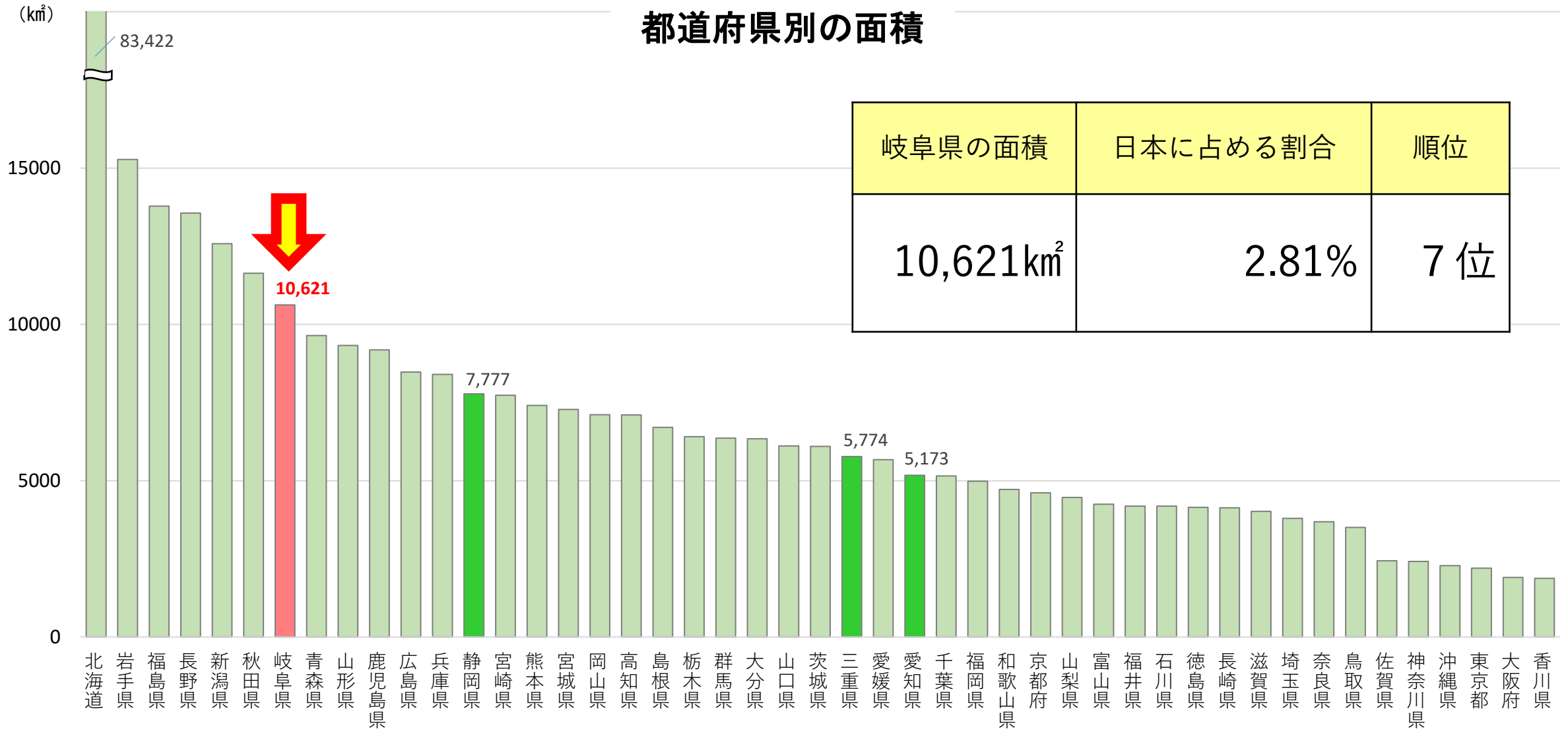
東海4県の中では、岐阜県が一番面積が広い！

東海4県の面積



岐阜県の面積は、全国でも7番目に広い！

都道府県別の面積



岐阜県の面積	日本に占める割合	順位
10,621km ²	2.81%	7位


問題 3

岐阜県の土地の使われ方のうち、
一番面積が広いのは、どんな土地？

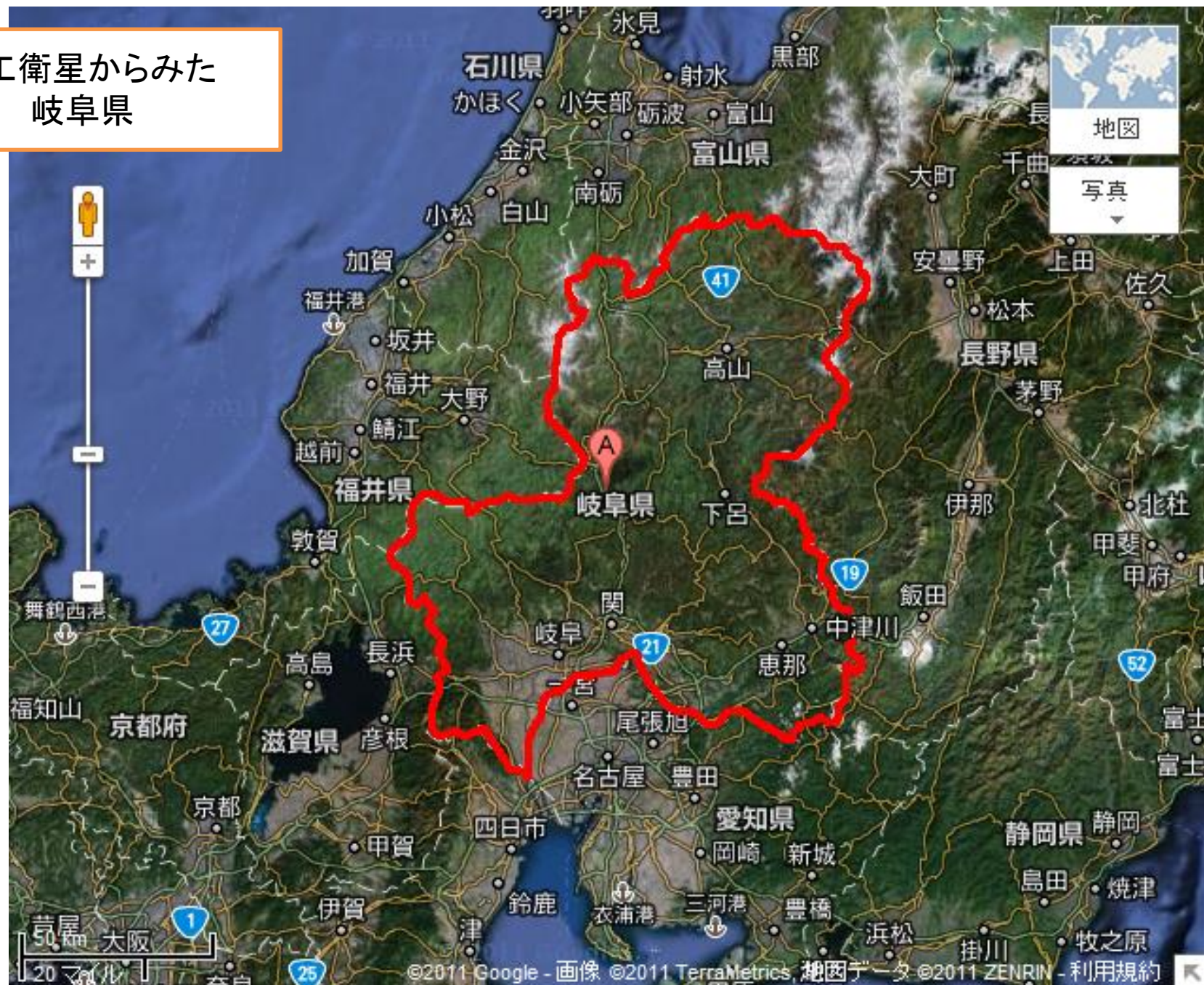
- ① 宅地 ② 森林 ③ 農地



その土地の面積は、
約8,571km²だよ！



人工衛星からみた
岐阜県



岐阜県の中で一番面積が広いのは森林！

水面・河川・水路 3%

道路 3%


宅地 4%

農地 5%

その他

森林
81%

森林率は
全国2位！



出典：岐阜県都市政策課「市町村別、地目別面積」(2022年10月1日現在)


問題 4

神戸町の土地の使われ方のうち、
一番面積が広いのは、どんな土地？

- ① **宅地** ② **森林** ③ **農地**



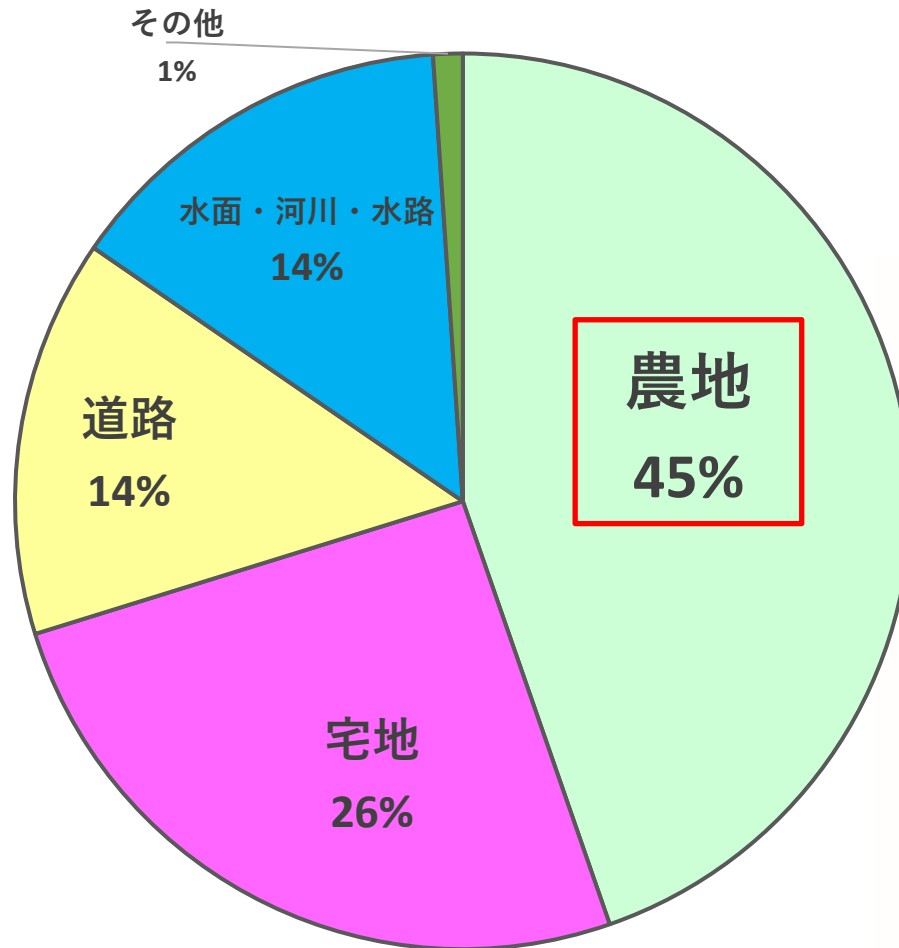
その土地の面積は、
約8.4km²だよ！



神戸町は農地が多い

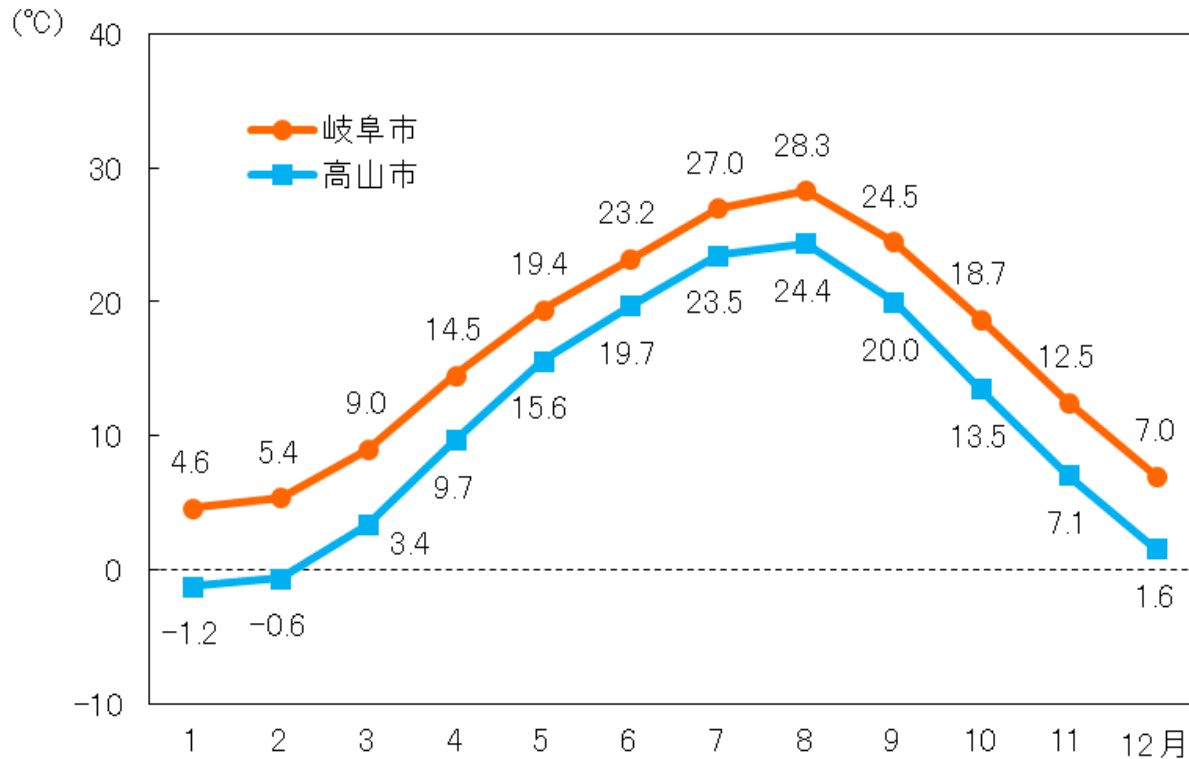
土地の使われ方(神戸町)

18.8km² = 100%

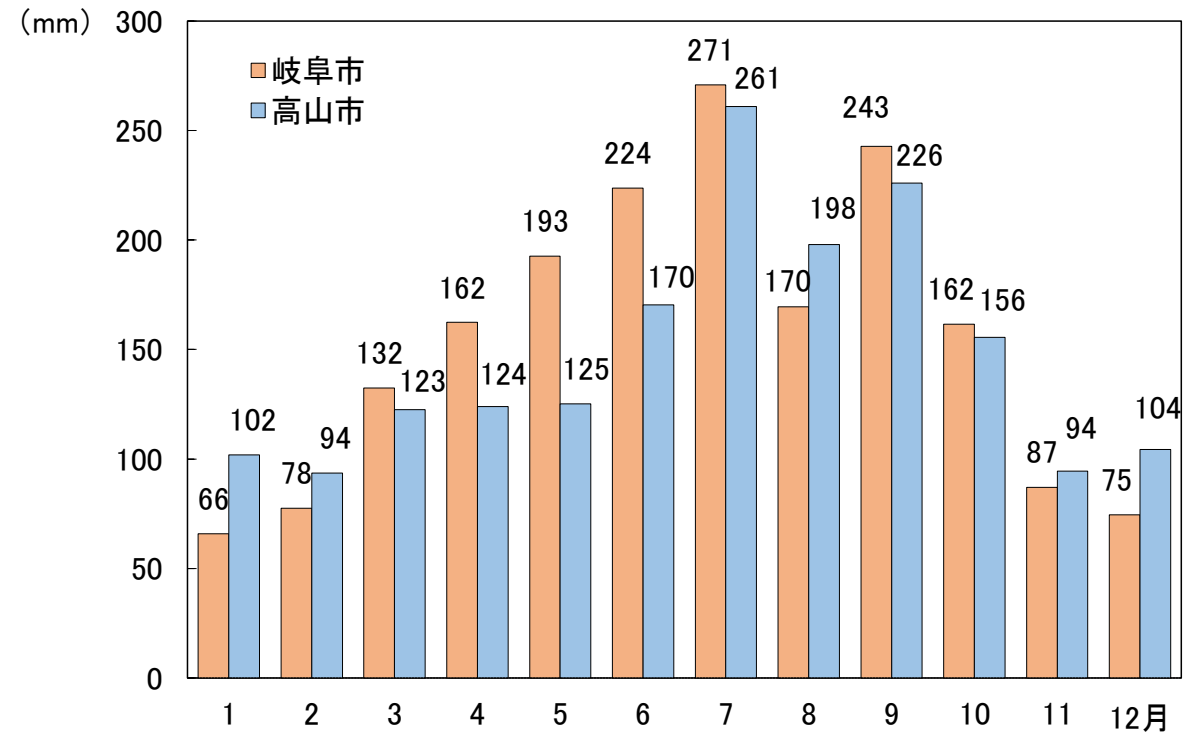


岐阜県は南北で気温が大きく異なる

月別平均気温(平年値)



月別降水量(平年値)



出典: 気象庁(平年値とは、1991~2020年の累年平均値をいう)


北部には山々がそびえ、南部には平野が広がる



新穂高ロープウェイ



岐阜城から見た長良川



じん

こう

人

口



問題 5

岐阜県の人口は、
全国 47 都道府県の中で、
「多い方」か**「少ない方」**か
どちらでしょうか？

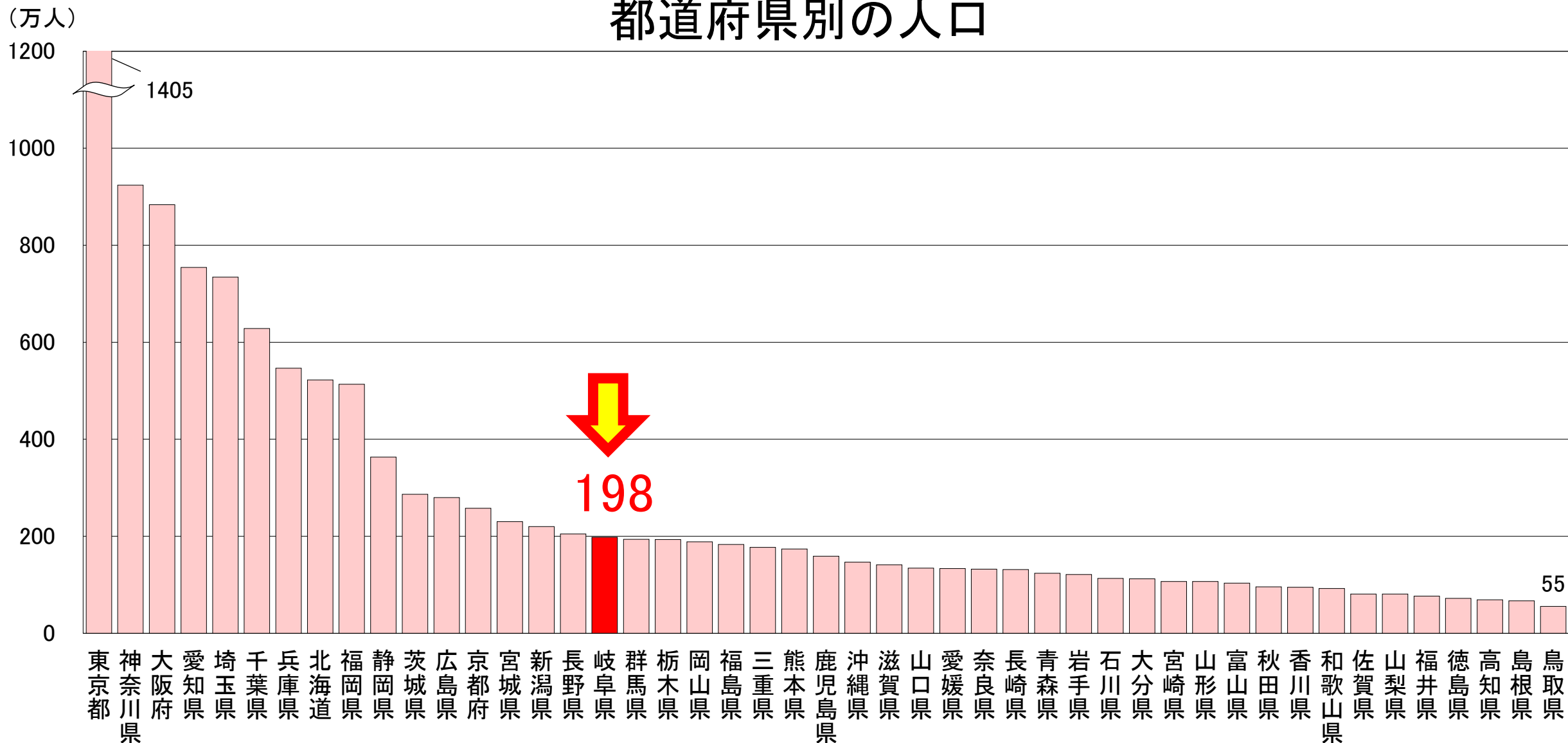


岐阜県の人口は、
約198万人だよ！



岐阜県の人口は、約198万人（多い方から17番目）

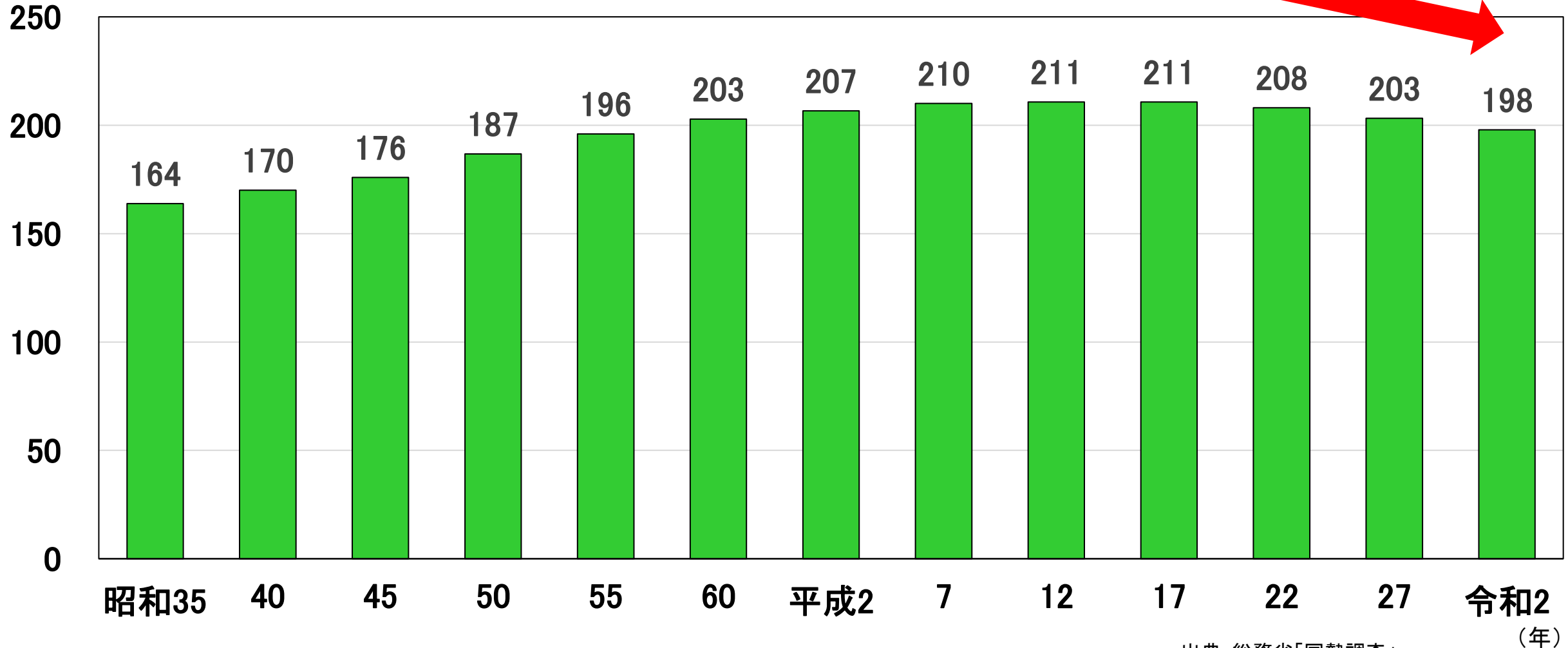
都道府県別の人口



平成27年から令和2年までの5年間で、約5万人の人口が減少

(万人)

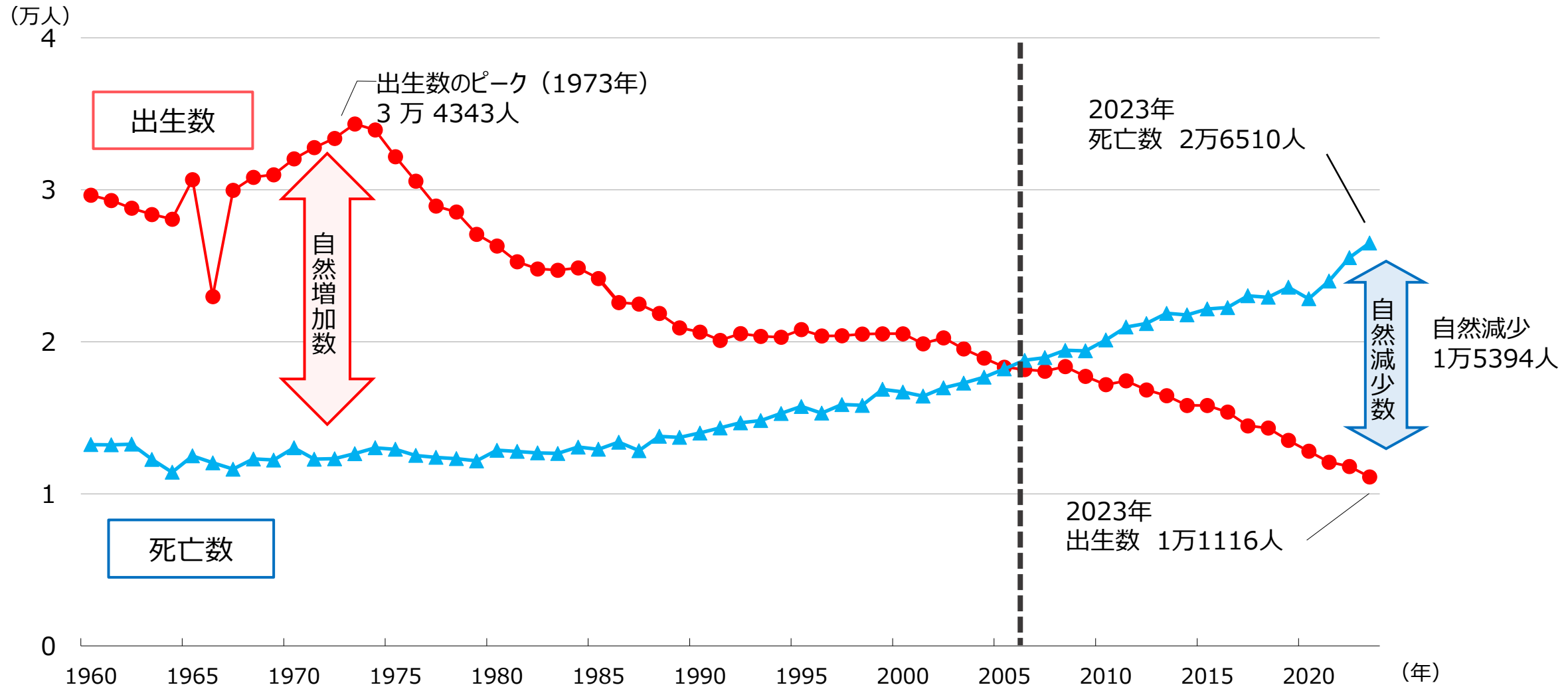
岐阜県の人口のうつり変わり



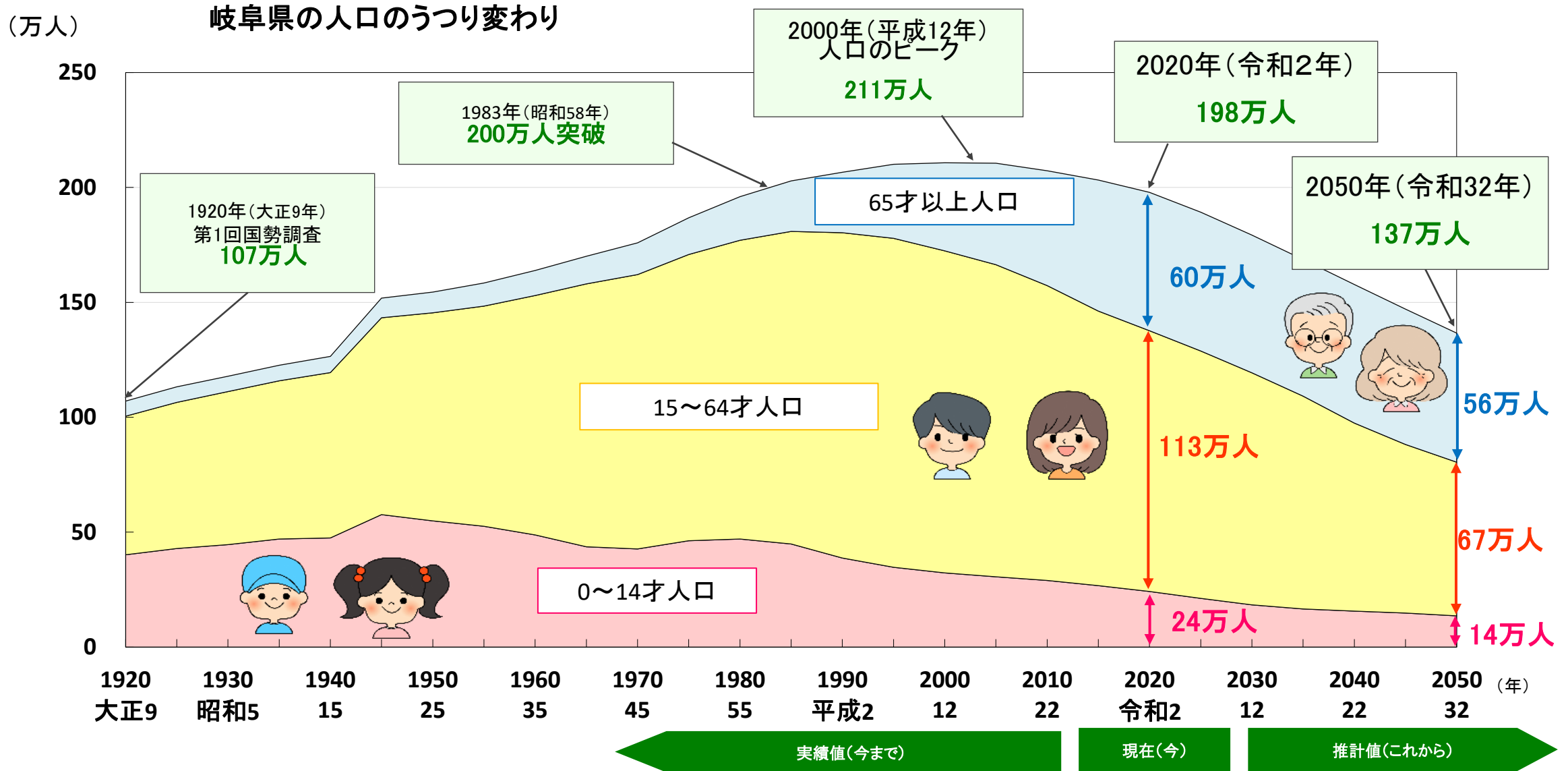
出典:総務省「国勢調査」

2006年以降、自然減少の状態が続いている

出生数と死亡数のうつり変わり(岐阜県)



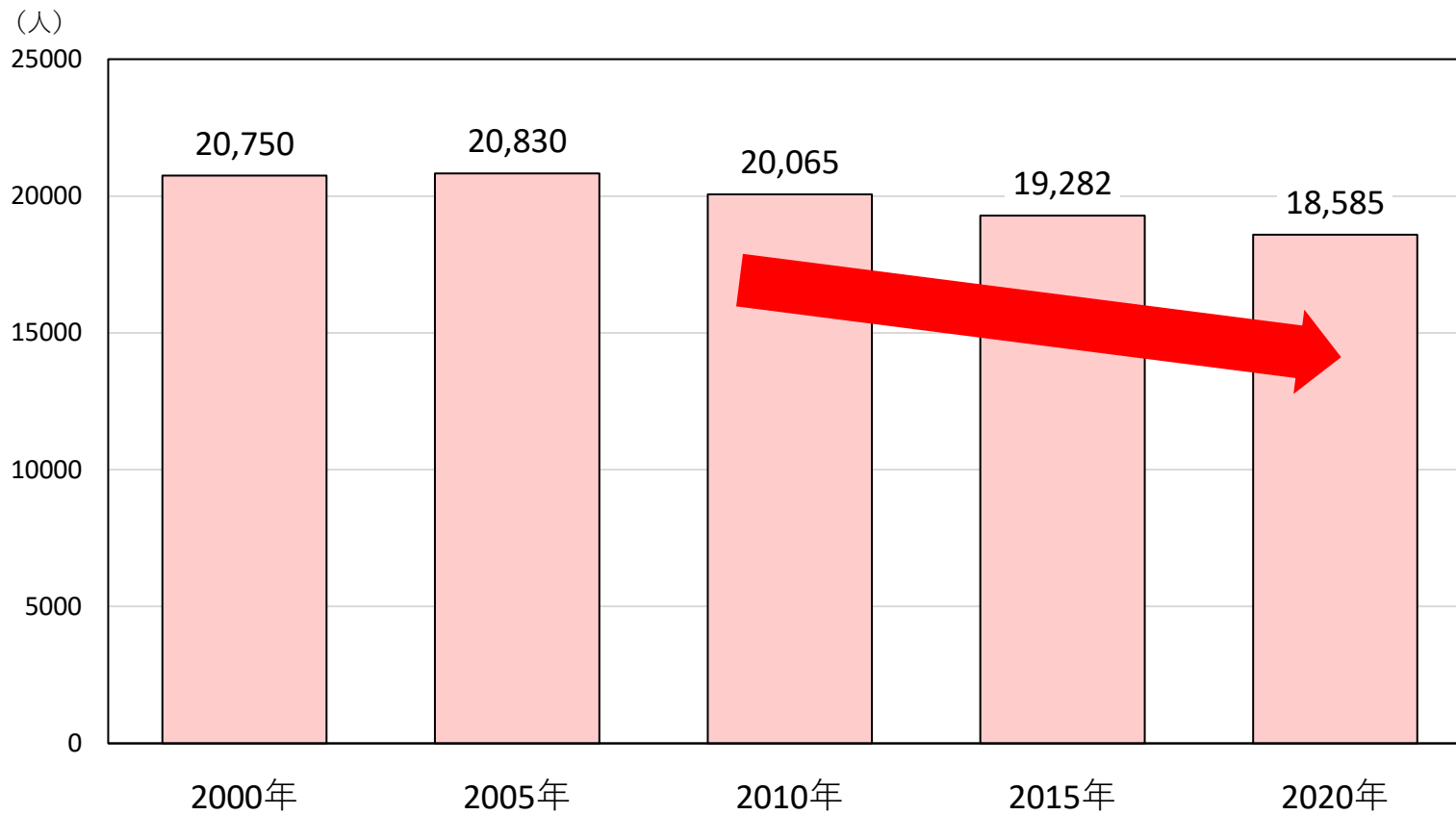
岐阜県の人口は、今後も減っていくと予想されている




(出典)実績値(令和2年まで):総務省「国勢調査」 推計値(令和3年以降)は、岐阜県政策研究会人口動向研究部会「岐阜県の将来人口推計」

神戸町も人口が減少している

神戸町の人口のうつり変わり




出典:総務省「国勢調査」



さん ぎょう

産 業



問題6

岐阜県で、働いている人が一番多い産業は？

の う りん すい さん ぎょう

① **農林水産業**

こう ぎょう


② **工業**

しょう ぎょう

③ **商業**

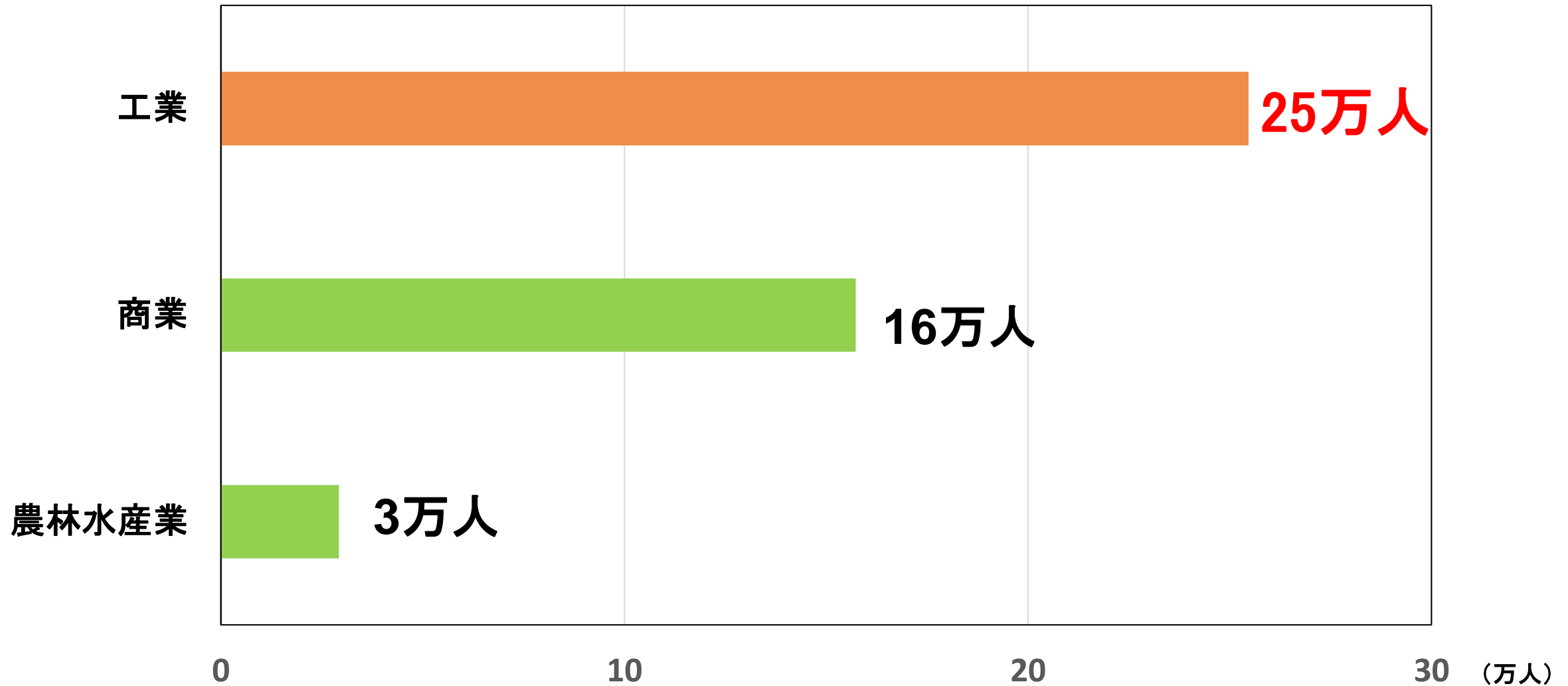


岐阜県は、どんな産業が
さかんかな？




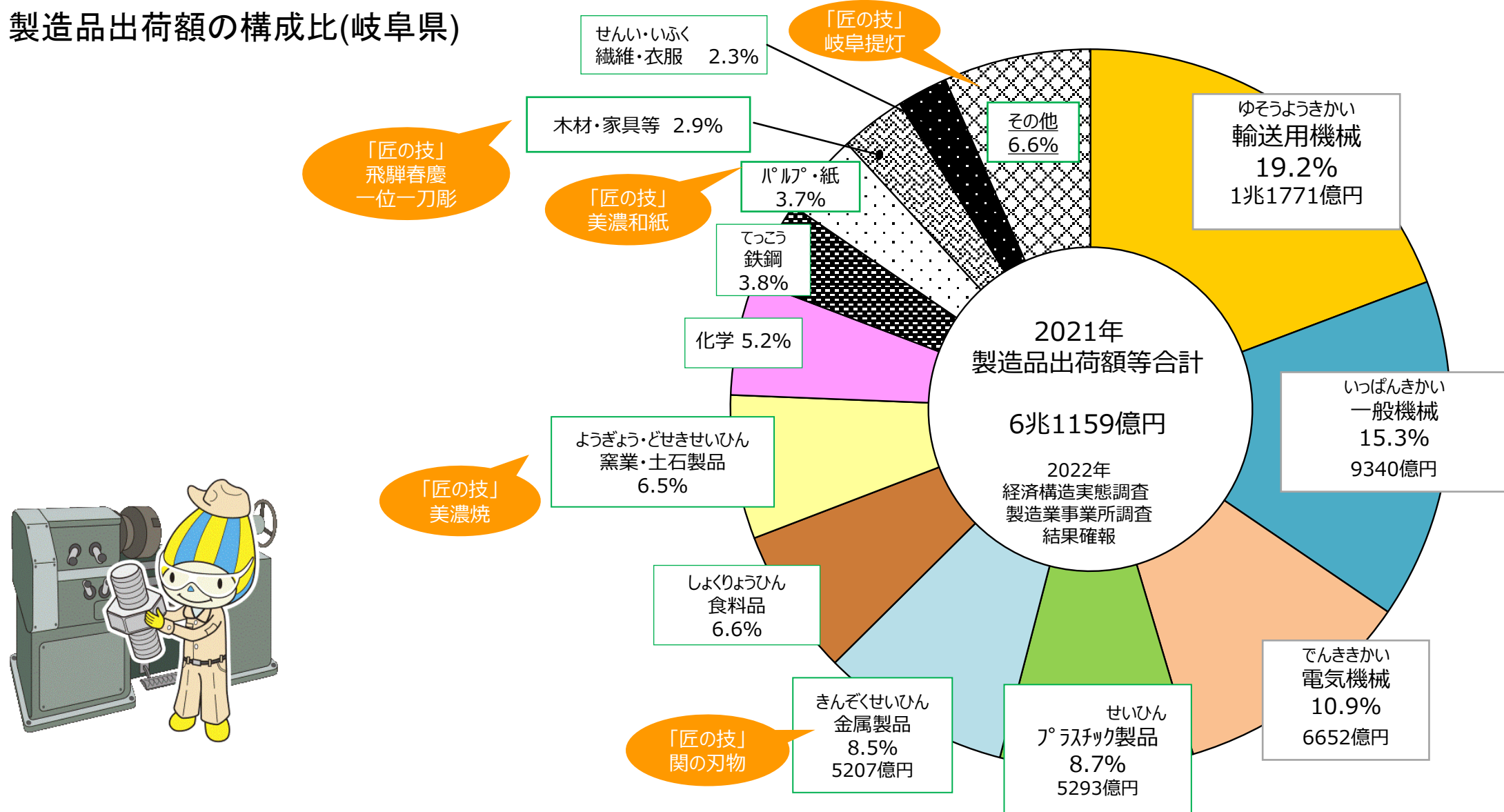
岐阜県では工業がさかんであり、強みです

岐阜県で働いている人（1,031,928人）



岐阜県では、機械を中心にさまざまなものが作られている

製造品出荷額の構成比(岐阜県)

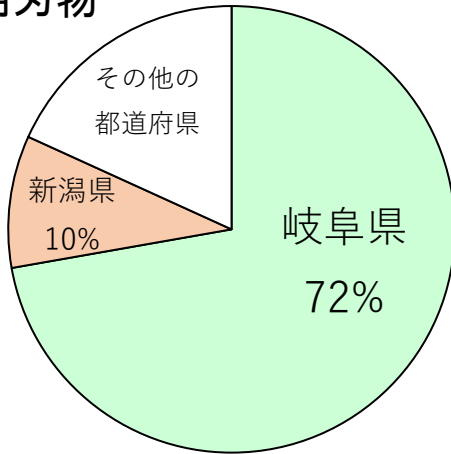


出典：総務省・経済産業省「令和4年(2022年)経済構造実態調査 製造業事業所調査」(個人経営を含まない)

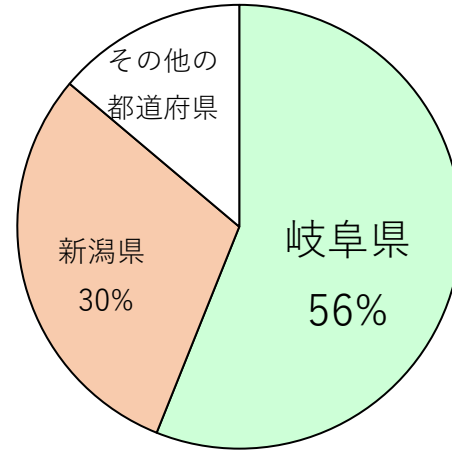
注：各項目の金額は単位未満を四捨五入しているため、内訳の計と合計は一致しない。

岐阜県がじまんでできる出荷額全国 1 位の主な製品

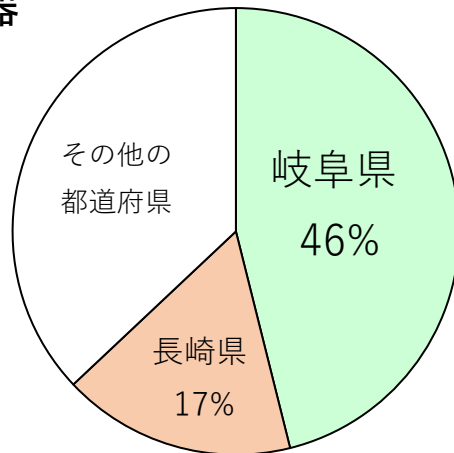
りはつようはもの
理髪用刃物



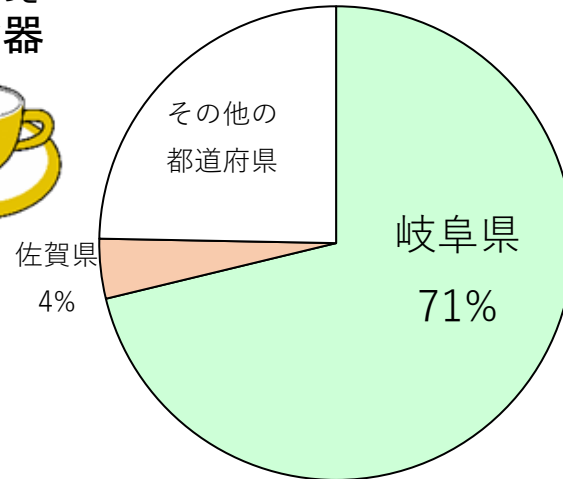
ほうちょう
包丁



わしょつき
和食器

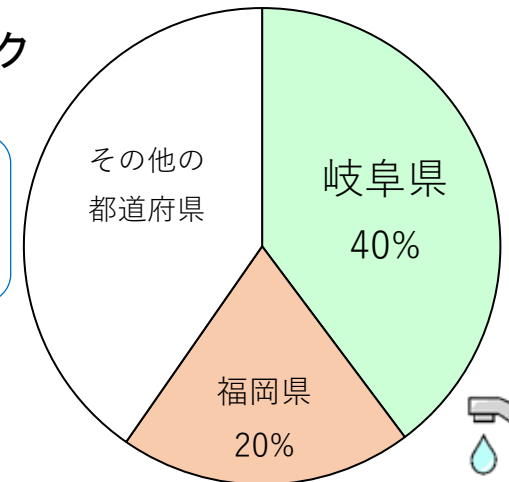


ようしょつき
洋食器



きゅうはいすいよう
給排水用バルブ・コック

給排水用
バルブ・コックは
岐阜県が発祥の地



出典：総務省・経済産業省
「令和4年(2022年)経済構造実態調査 製造業事業所調査」(個人経営を含まない)
なお、秘匿となっているものは除いたランキング。

大都市へ食料供給

名古屋市場

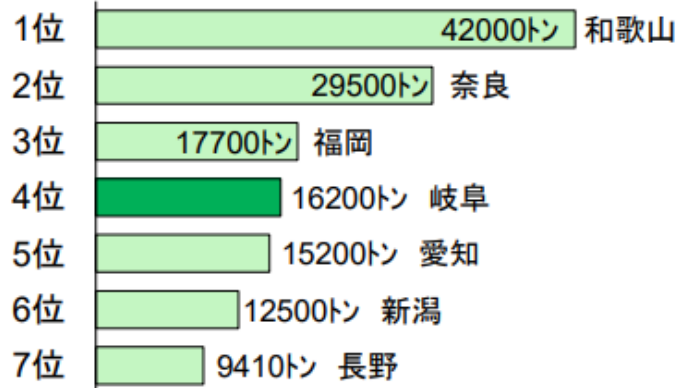
大阪市場





かき

全国収穫量 21万6100トン



ほうれんそう

全国収穫量 20万9800トン




鉢ものの類

全国出荷量 1億8130万鉢



あゆ養しよく

全国収穫量 3662トン




ひのき

全国素材生産量 297.1万m³



岐阜県は林業が

とってもさかんな県

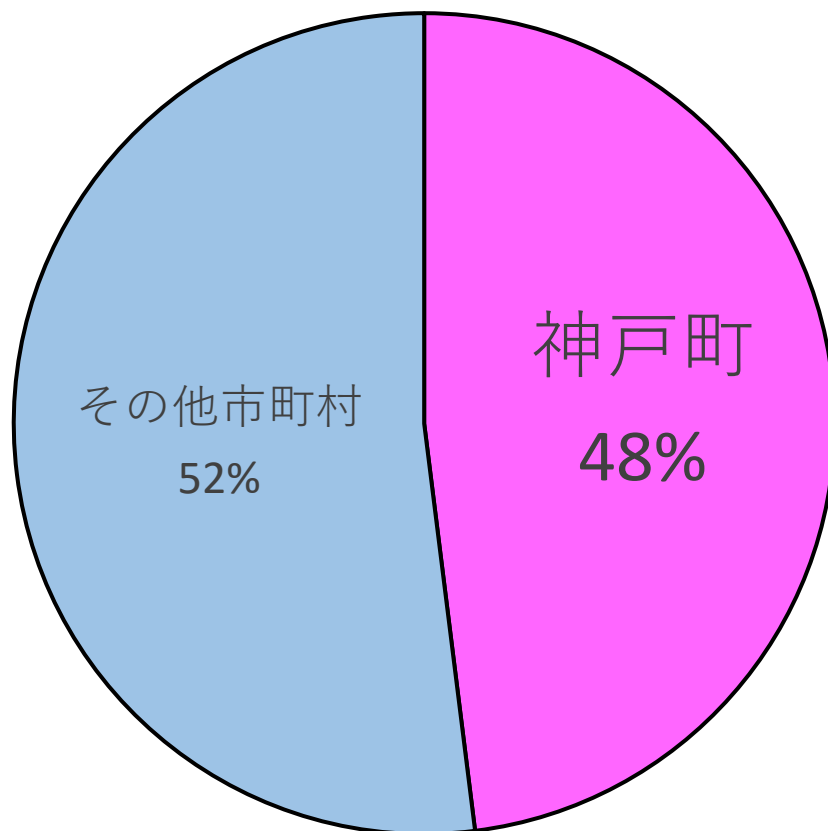


- ひのき人工林面積 ^{めんげき} 全国2位
- 林業経営体数 ^{けいぎたいすう} 全国4位
- 製材工場数 ^{せいざい} 全国2位

ばらのまち神戸は、岐阜県下最大のバラ生産地

切りバラの生産額の割合

(岐阜県全体=100)



バラ苗やガーデンローズ苗、
ヤナギ類の生産も
さかんだね！



岐阜県には年間約4300万人の人々が観光で来訪

かんこういりこみきやくすう
◆ 県の観光入込客数 (実人数)
4262万6千人

かんこうしょうひがく
◆ 観光消費額 2702億円

観光地点別の集客数

出典：令和4年(2022年)
岐阜県観光入込客統計調査



世界遺産白川郷
(せかいいさんしらかわごう)
61万人

奥飛騨温泉郷
(おくひだおんせんごう)
32万人

高山地域
(たかやまちいき)
229万人

下呂温泉
(げろおんせん)
91万人

馬籠宿
(まごめじゆく)
39万人

伊奈波神社
(いなばじんじゃ)
130万人

岐阜公園
(ぎふこうえん)
98万人

土岐プレミアムアウトレット
(と き)
493万人

長良川鵜飼
(ながらがわうかい)
5万人

千代保稲荷神社
(ちよほいなりじんじゃ)
110万人

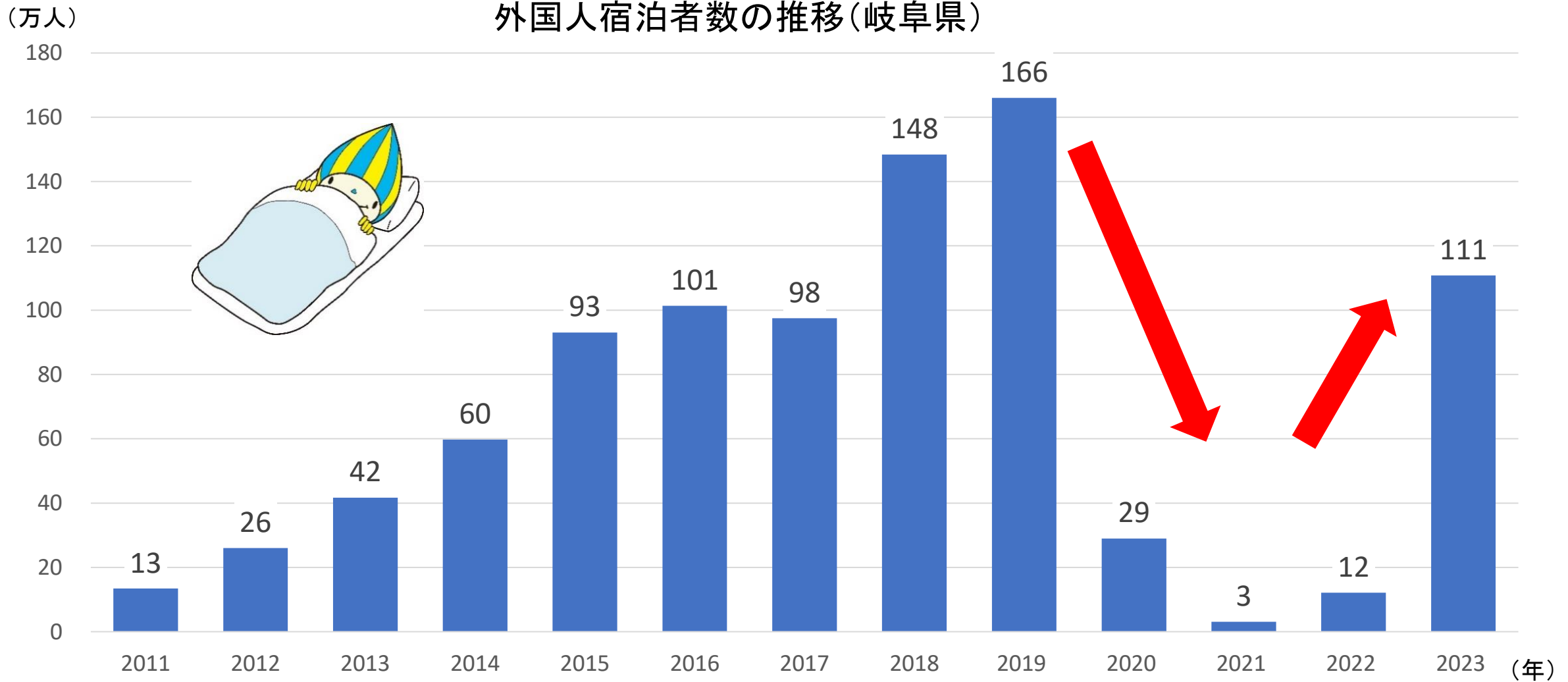
河川環境楽園
(かせんかんきょうらくえん)
454万人


千本松原・国営木曽三川公園
(せんぼんまつばら・こくえいきそさんせんこうえん)
113万人



岐阜県内に宿泊する外国人は大幅に減ったが、回復傾向

けいこう






暮らし



岐阜市の人、こんなものが大好き


★柿とスナック菓子が大好き



柿（かき）

こうにゅうりょう

購入量 : 全国1位
購入金額 : 全国1位



スナック菓子

購入金額 : 全国1位

その他の購入金額上位の食品

全国 2位

・和生菓子
（ようかん、まんじゅう以外）

全国 3位

・キャンデー
・コーヒー飲料

全国 4位

・もち
・魚介のつくだ煮
・生しいたけ
にゅうさんきんいんりょう
・乳酸菌飲料

出典：総務省「家計調査（二人以上の世帯）品目別都道府県庁所在市及び政令指定都市ランキング(2021年～2023年平均)」
（1世帯あたり品目別年間支出金額・購入数量）

岐阜市人は外食も好き 家計調査では上位

★外食が大好き



和食（外食）

- ・年間 40,232円
- ・全国 1位



洋食（外食）

- ・年間 17,470円
- ・全国 1位



中華食（外食）

- ・年間 8,220円
- ・全国 1位

★喫茶店も大好き



- ・1年間の喫茶代 14,400円
- ・全国 1位

今回紹介したデータのうち、人口などは、
統計調査の結果でわかったことです。

大人になったら
調査に協力してね！



統計グラフコンクールに参加しよう！！

身のまわりの出来事や社会の中で気になることを調べて、
グラフを使ってあらわした作品を募集！！

例えば・・・

学校で

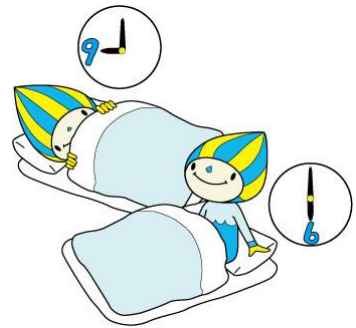
○クラスや学校のみんなにアンケートをとって、グラフにしてみる
好きな給食、寝ている時間 など

家や近所で

○身の回りにあることを観察して、グラフや表にしてみる
毎日の天気や気温、道の交通量 など

学習で

○社会などの授業で習ったことを調べて、グラフにしてみる
ゴミの量、水の使用量、岐阜県や地元の特ちょう など



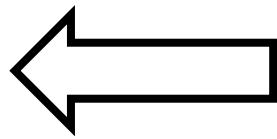
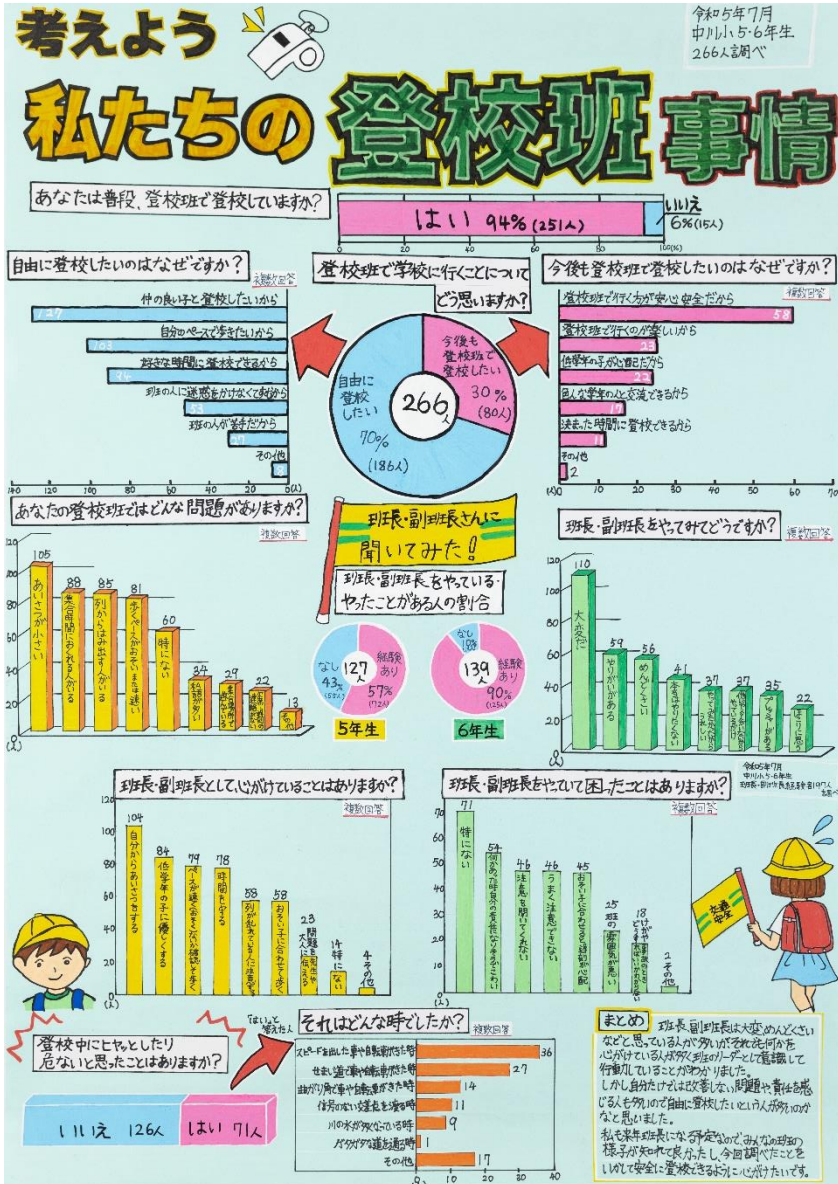
作品の大きさ：B 2判（72.8cm×51.5cm）

提出先：学校
応募の締切：8月（学校ごとに違うので先生に
聞いてね）

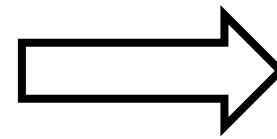
応募してくれたみんな
に参加賞もあるよ！
ぜひ応募してね！



優秀作品は全国コンクールへ出品！



大垣市立中川小学校
5年生 青木 里乃羽さんの作品
第71回全国統計グラフコンクール 佳作
令和5年度岐阜県統計グラフコンクール 入選



大垣市立安井小学校
5年生 粟野 菜さんの作品
令和5年度岐阜県統計グラフコンクール
岐阜県知事賞



統計学習副読本 「グラフでみる かく ふるさと岐阜県」も便利



2024年の最新版は、もう見てくれたかな？

夏休みの研究に使えるかも？



ちょうせん

クイズに挑戦!!

「ある食品」はなにかな？

「家計調査」のデータだよ。



「ある食品」はなにかな？

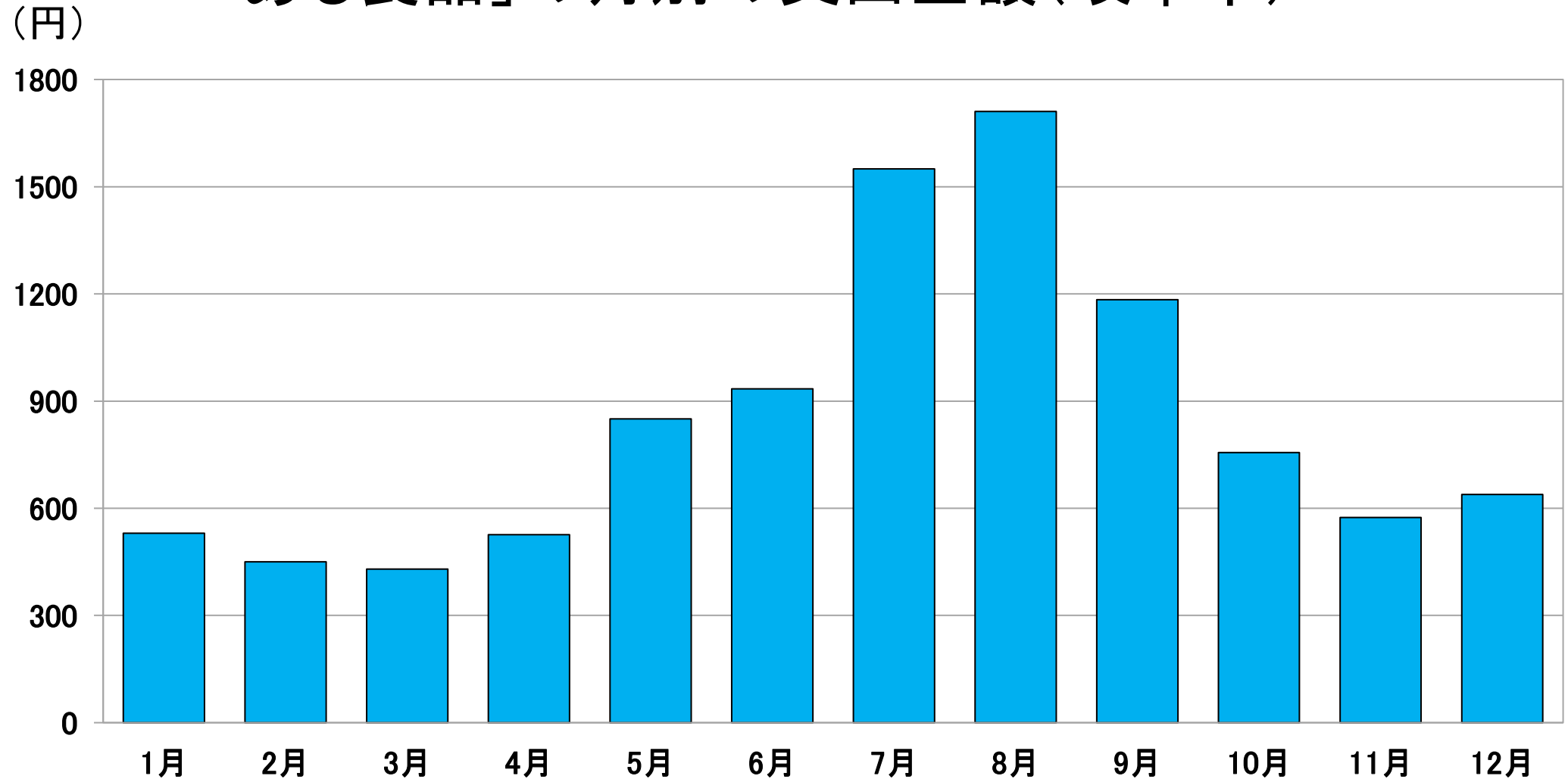
「ある食品」の月別の支出金額(岐阜市)

1月	5 3 0 円	7月	1 5 5 0 円
2月	4 5 0 円	8月	1 7 1 1 円
3月	4 3 0 円	9月	1 1 8 4 円
4月	5 2 6 円	10月	7 5 6 円
5月	8 5 0 円	11月	5 7 4 円
6月	9 3 4 円	12月	6 3 9 円

資料:総務省「令和5年 家計調査」家計収支編二人以上の世帯 ※岐阜市

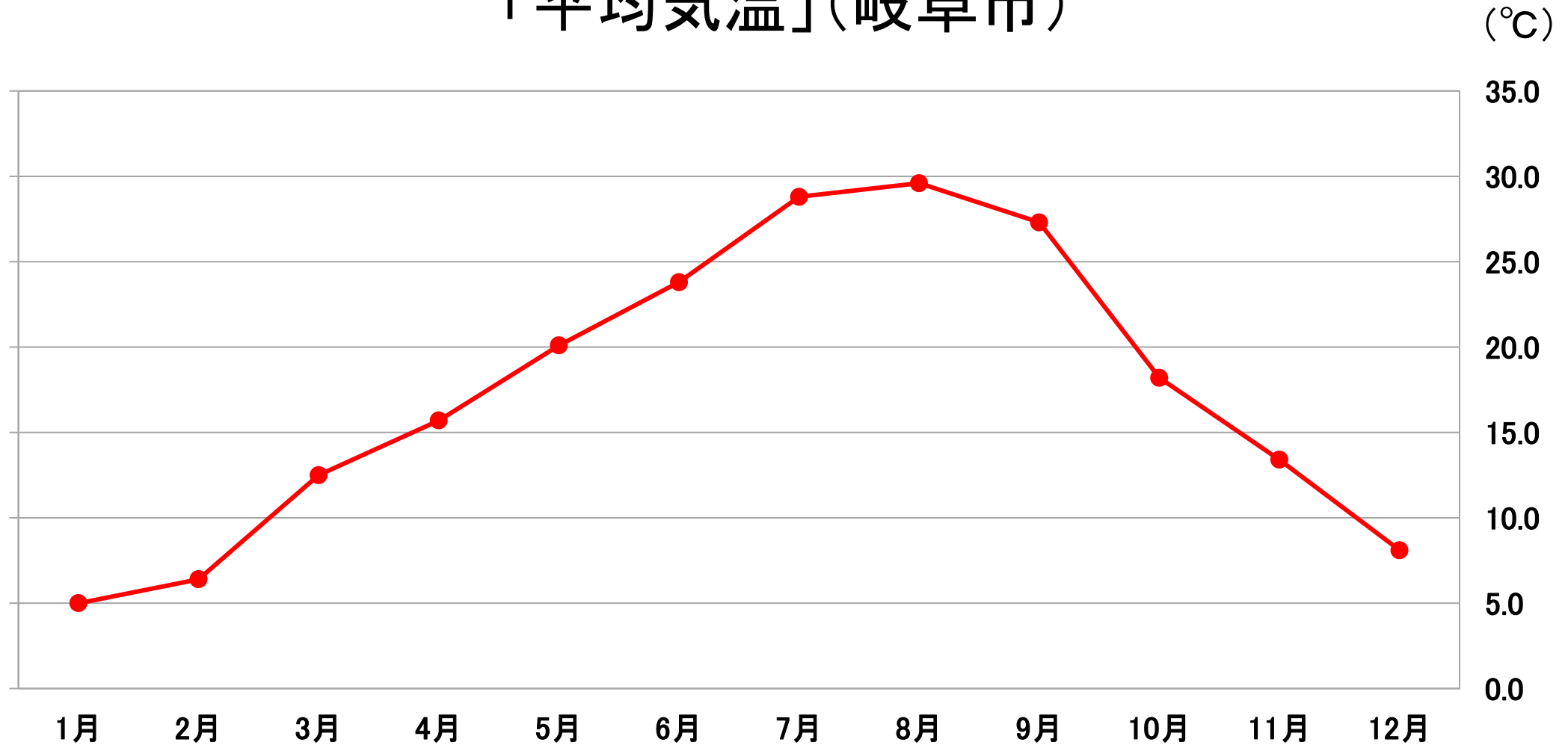
「ある食品」はなにかな？

「ある食品」の月別の支出金額(岐阜市)



ヒント:平均気温

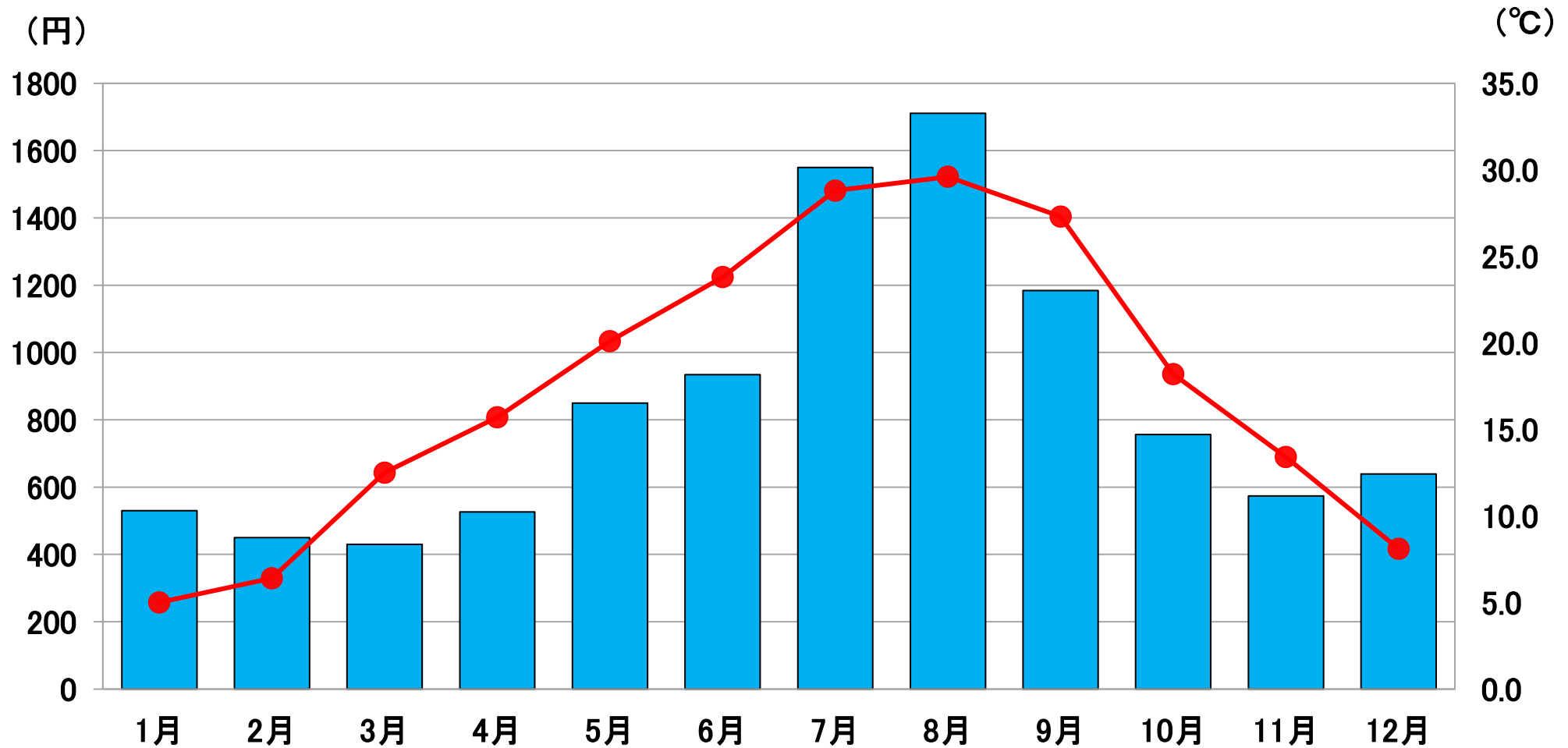
「平均気温」(岐阜市)



資料: 気象庁「令和5年 気象データ」 ※岐阜市の月ごとの平均気温

ヒント：平均気温

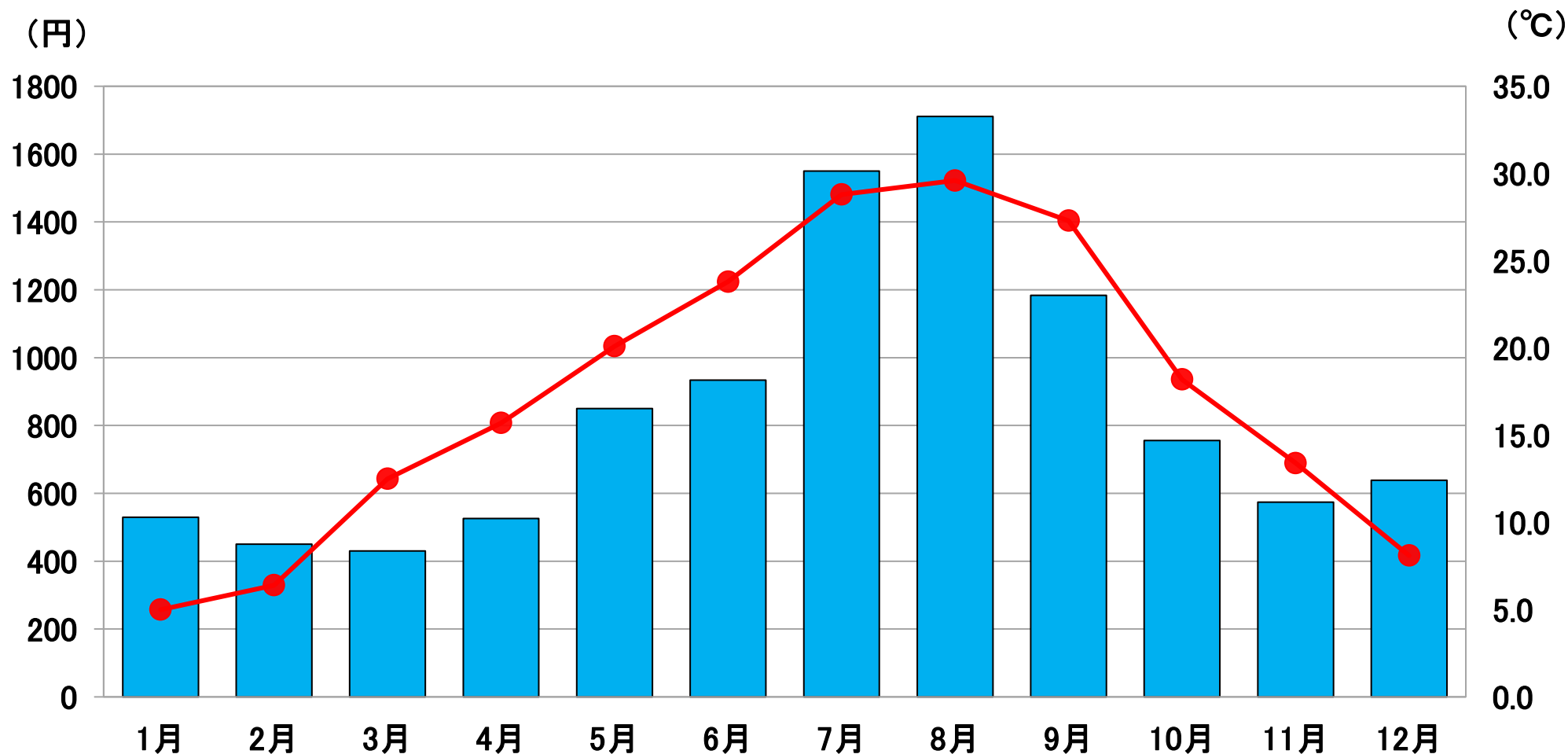
「ある食品」の月別の支出金額と平均気温（岐阜市）



資料：総務省「令和5年 家計調査」家計収支編二人以上の世帯 ※岐阜市
資料：気象庁「令和5年 気象データ」※岐阜市の月ごとの平均気温

正解は「アイスクリーム・シャーベット」

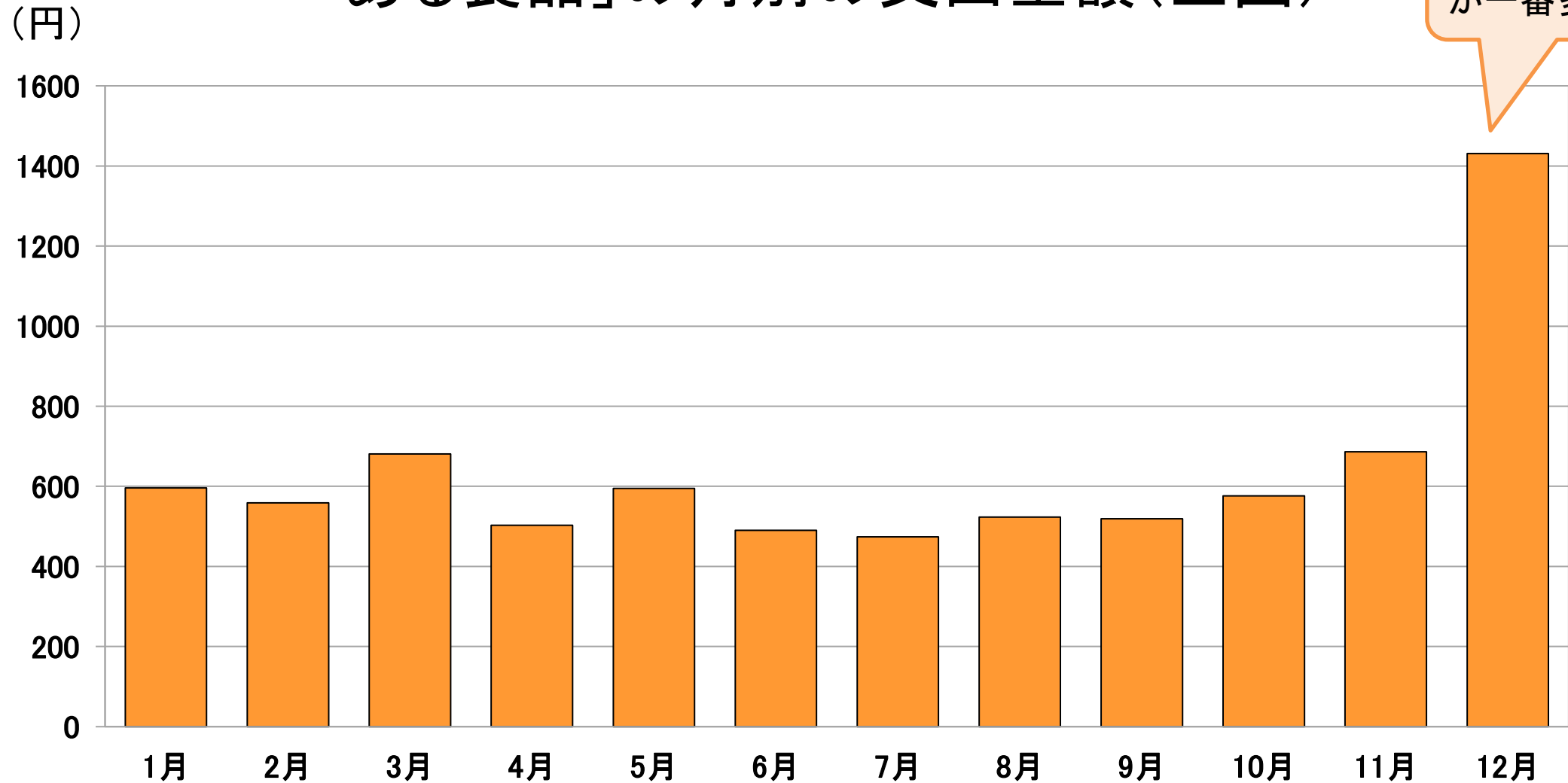
「アイスクリーム・シャーベット」の月別の支出金額と平均気温（岐阜市）



資料: 総務省「令和5年 家計調査」家計収支編二人以上の世帯 ※岐阜市
資料: 気象庁「令和5年 気象データ」※岐阜市の月ごとの平均気温

「ある食品」はなにかな？

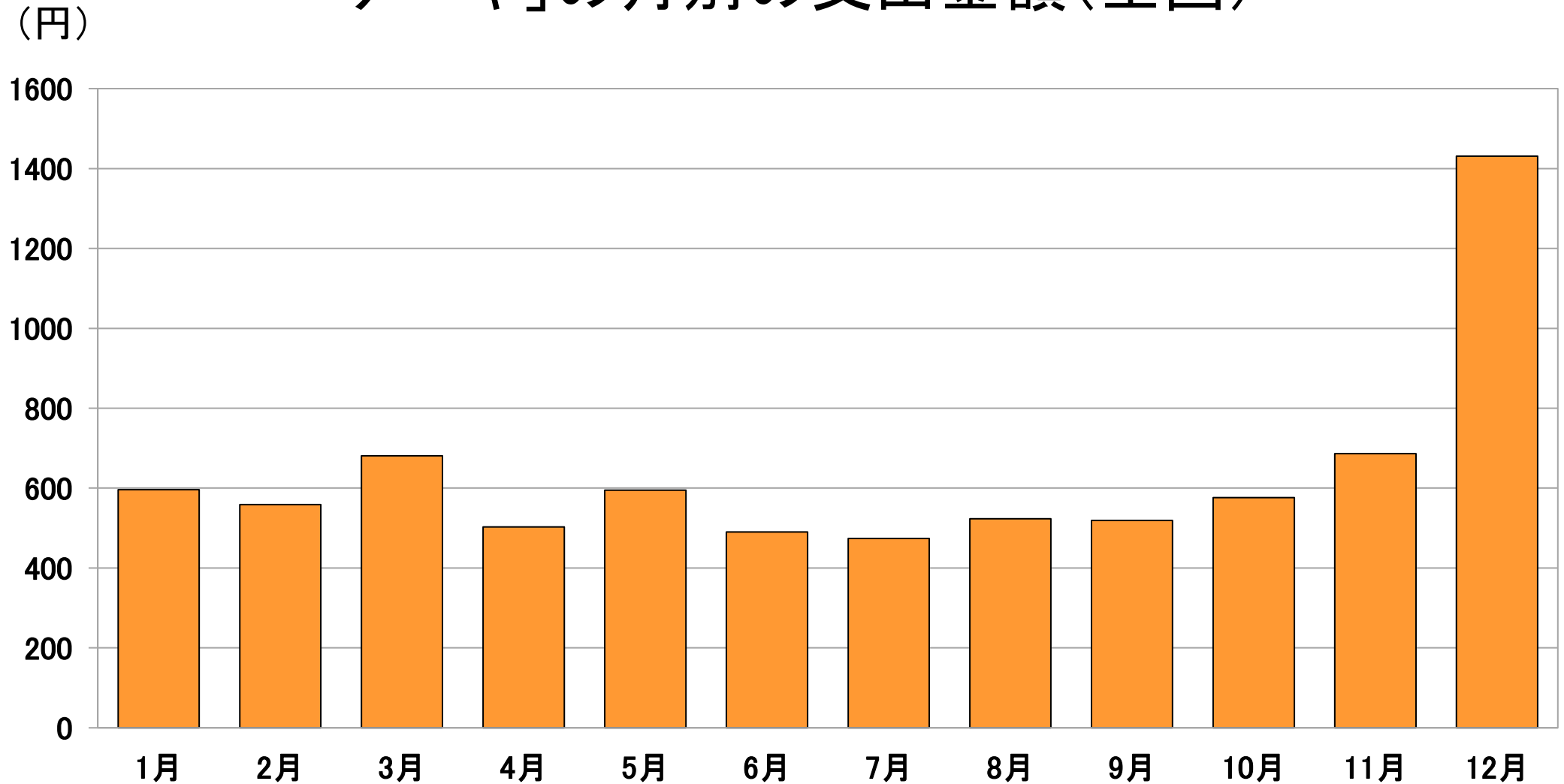
「ある食品」の月別の支出金額(全国)



12月の支出金額
が一番多いね。

正解は「ケーキ」!

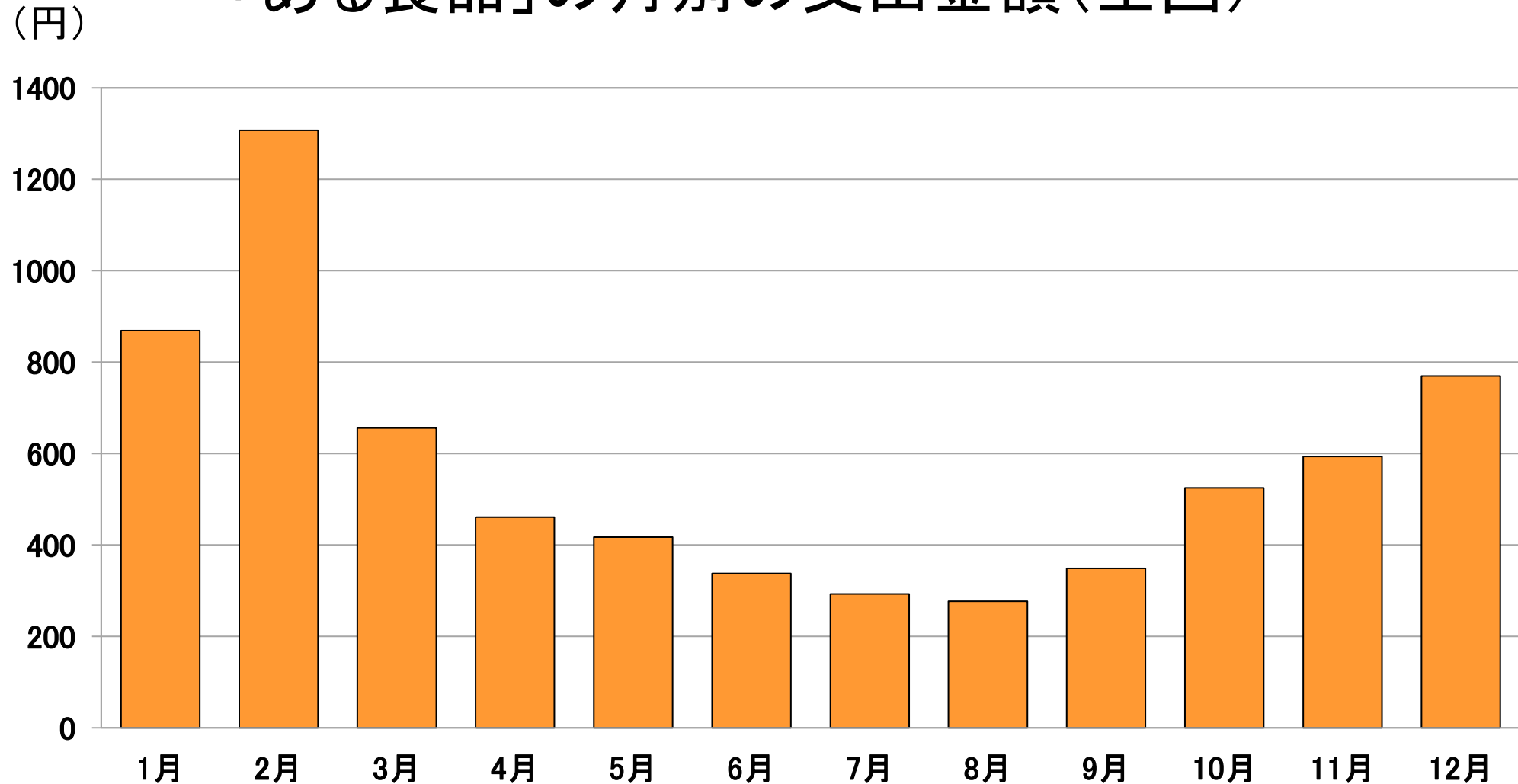
「ケーキ」の月別の支出金額(全国)



資料:総務省「令和5年 家計調査」家計収支編二人以上の世帯

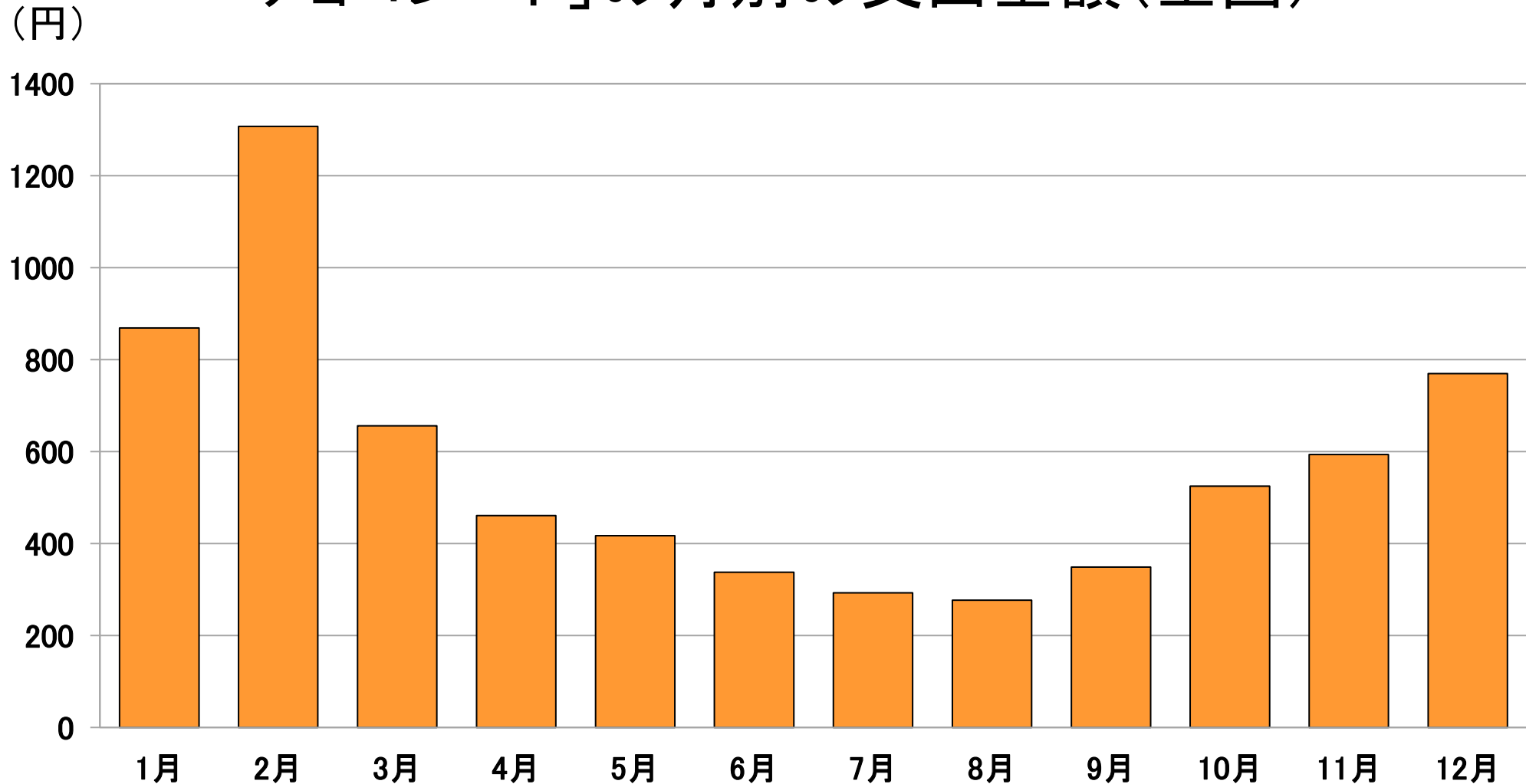
「ある食品」はなにかな？

「ある食品」の月別の支出金額(全国)



正解は「チョコレート」!

「チョコレート」の月別の支出金額(全国)



資料:総務省「令和5年 家計調査」家計収支編二人以上の世帯