

神戸町の様子をグラフで表そう！ 名前 _____

ステップ1 神戸町の年れい構造を分析しよう

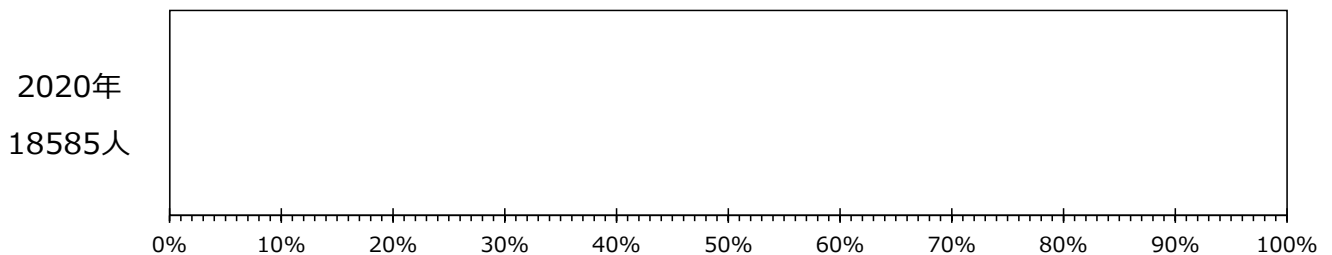
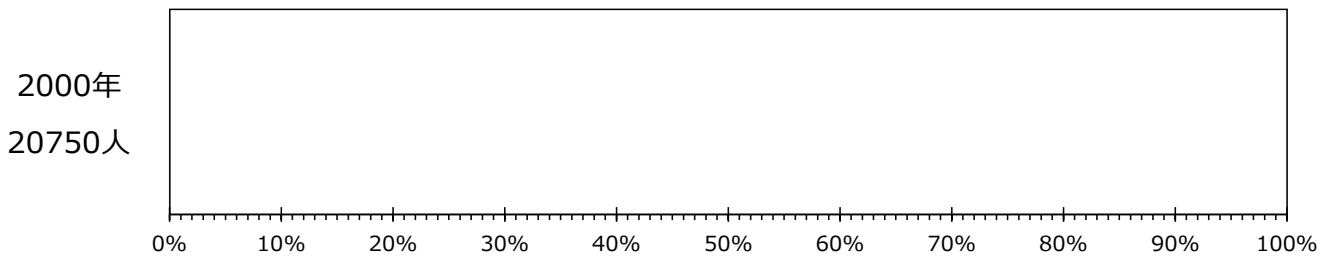
	15才未満	15～64才	65才以上	合計
2000年	3028 人	14504 人	3218 人	20750 人
2020年	2184 人	10368 人	6033 人	18585 人

① それぞれの区分の割合を求めよう。

神戸町の年れい3区分別人口の割合

	15才未満	15～64才	65才以上	合計
2000年	%	%	%	100 %
2020年	%	%	%	100 %

② 帯グラフで表そう。



③ グラフから分かったことを書こう。

ステップ2 神戸町の土地の使い方を円グラフで表そう

神戸町の土地の使い方

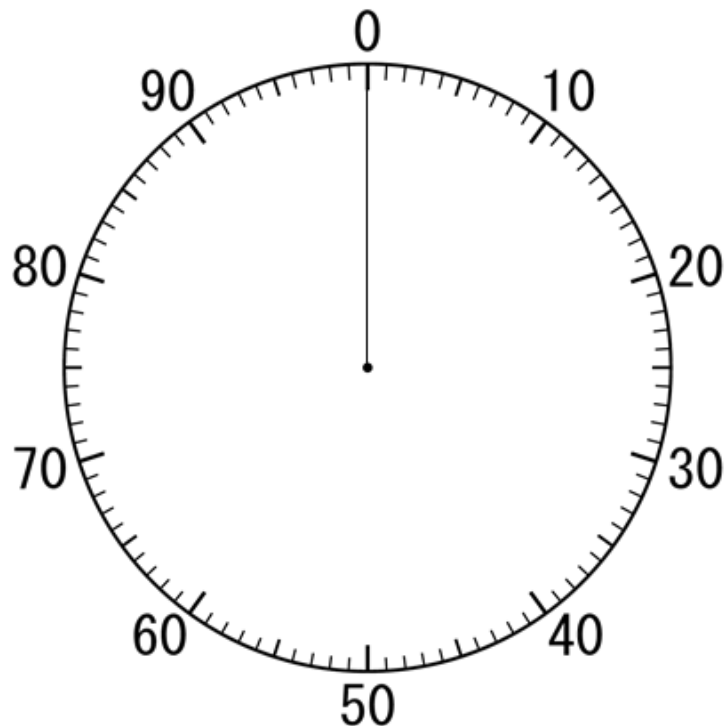
森林	農地	水面・河川・水路	宅地	道路	その他	合計
0.0 km ²	8.4 km ²	2.7 km ²	4.8 km ²	2.7 km ²	0.2 km ²	18.8 km ²

① それぞれの区分の割合を求めよう。

神戸町の土地の使い方

森林	農地	水面・河川・水路	宅地	道路	その他	合計
%	%	%	%	%	%	100 %

② 円グラフで表そう。



③ グラフから分かったことを書こう。