
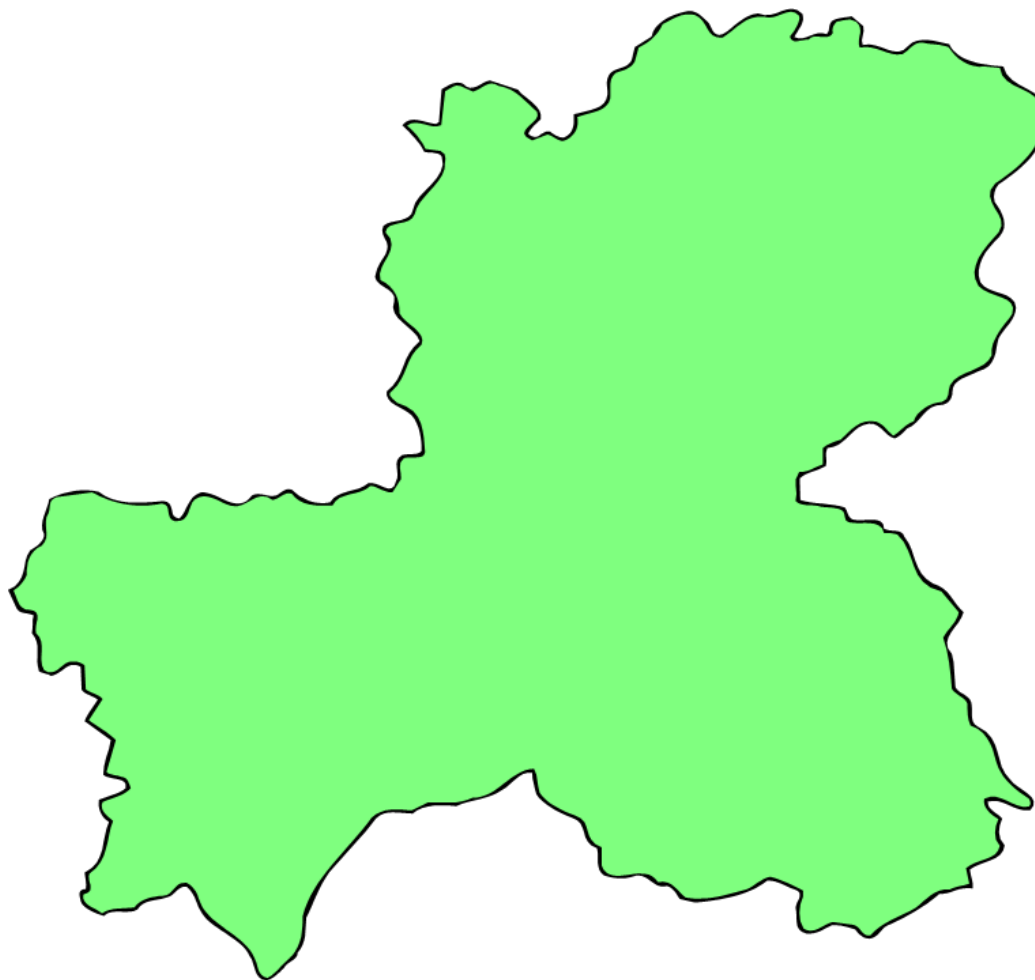


統計データからみた岐阜県



ミナモ

清流の国ぎふ
マスコットキャラクター



テルミー

岐阜県統計課
マスコットキャラクター

とうけい

統計って知ってるかな？

統計とは・・・

統べる

すべる
まとめる

+

計る

はかる

- ・観察(かんさつ)
- ・調査(ちょうさ)
- ・実験(じっけん)

⇒

データの
収集・整理(しゅうしゅう・せいり)

- ・加工(かこう)
- ・計算(けいさん)
- ・グラフ化

今日お話しすること

① グラフの読みとりのコツを知ろう

→ グラフの正しい読みとり方法を学びます。

② 岐阜県の「特ちょう」や「じまん」を知ろう

→ 統計データやグラフから岐阜県について学びます。

ちょうせん
クイズに挑戦しよう

→ 統計データやグラフを見て、何の食べ物か当ててもらいます。



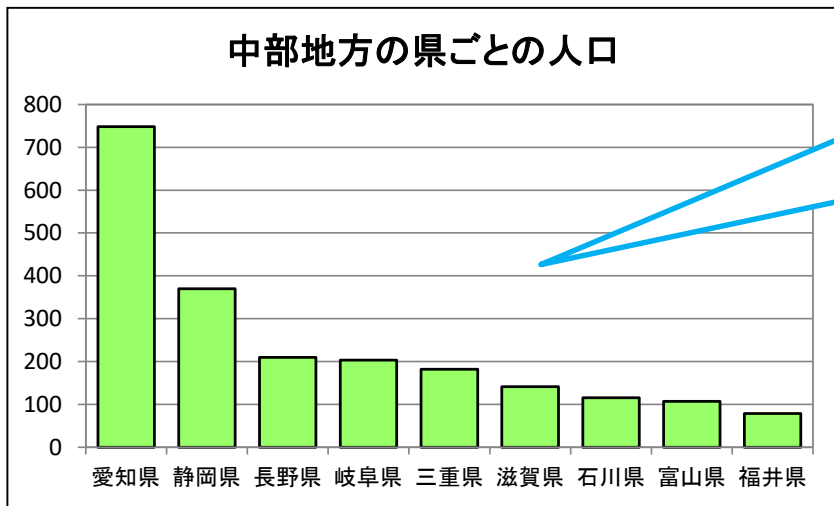
① グラフの読みとりの コツを知ろう



これまでどんなグラフを
学んできたかな？



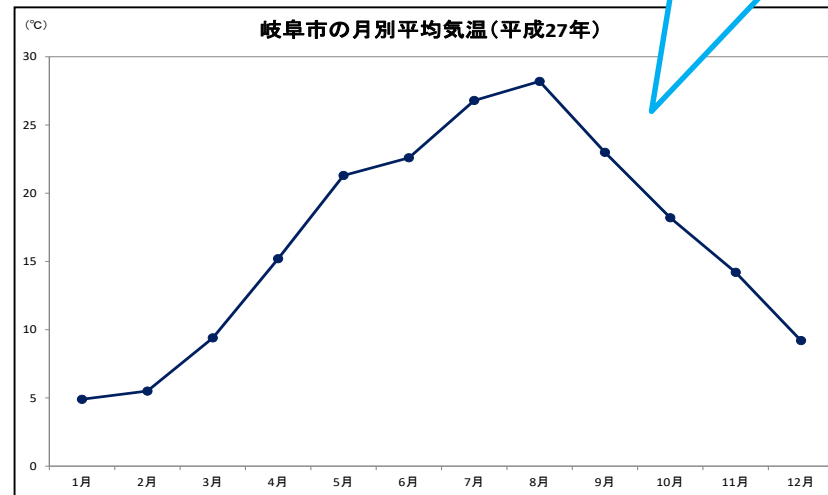
グラフの中のビッグ3



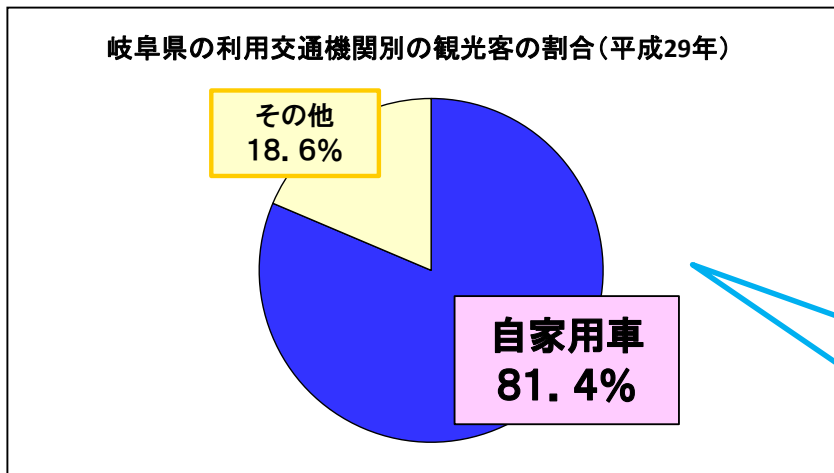
総務省「国勢調査」(平成27年)

大小を比べる
棒グラフ

変化を見る
折れ線グラフ



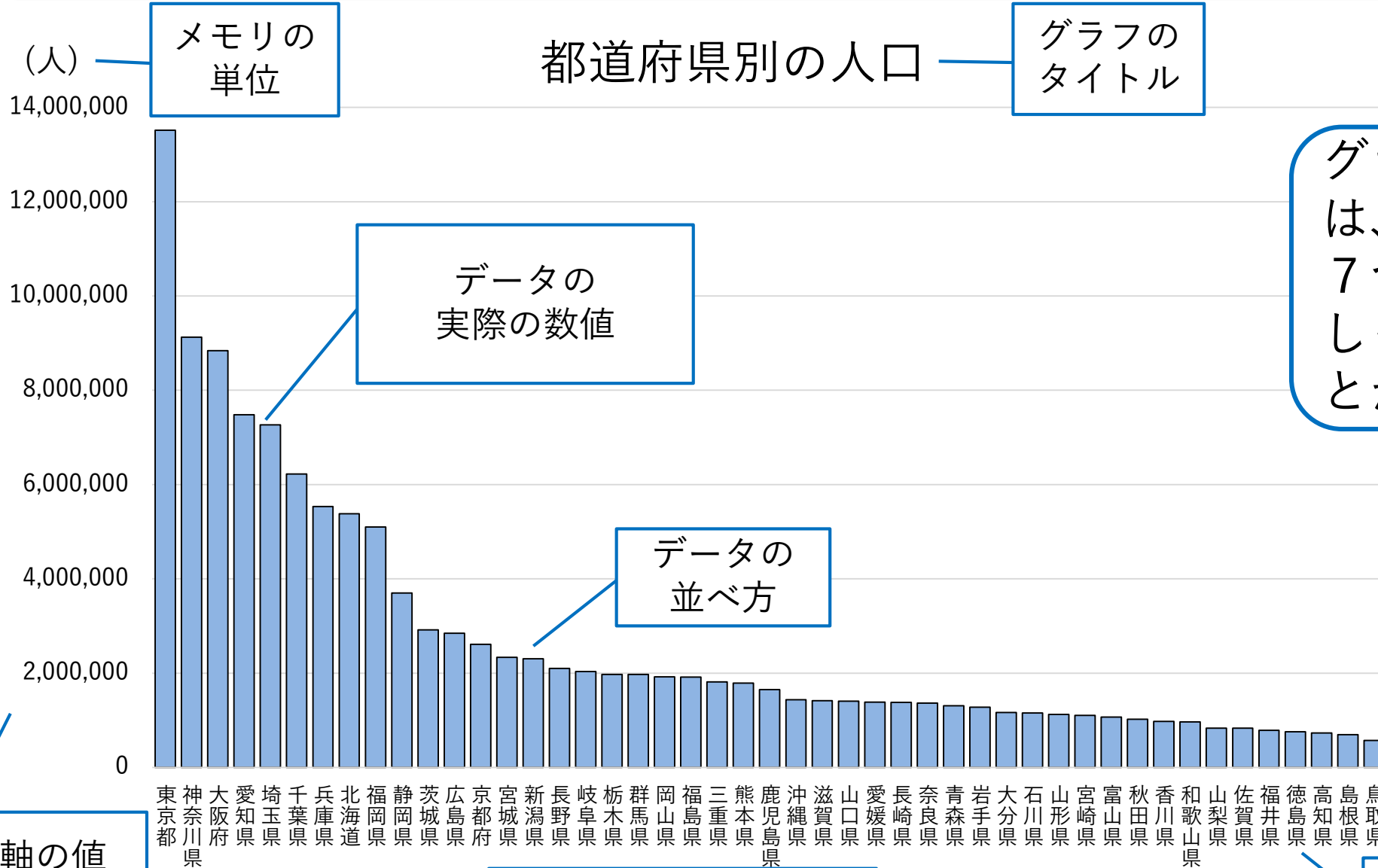
気象庁「過去の気象データ」



岐阜県「平成29年岐阜県観光入込客統計調査」

割合を見る
円グラフ

グラフを見る7つのポイント



グラフを見るときは、
7つのポイントを
しっかり確認するこ
とが大切だね



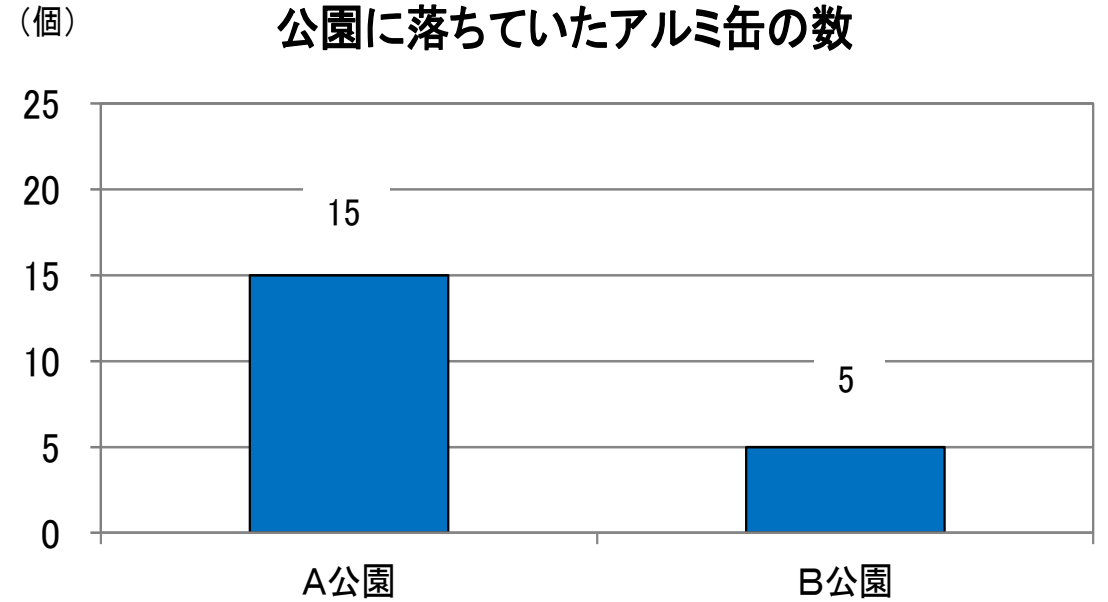
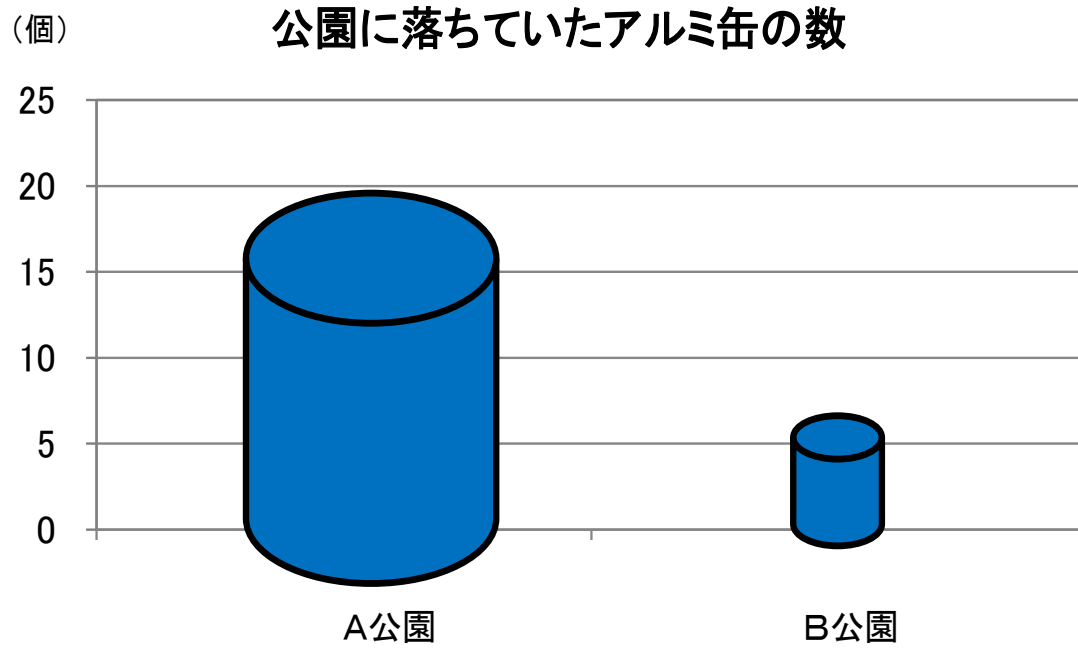
縦軸の値
(たてじく)

出典 (しゅってん)

出典：総務省「国勢調査 2015」

横軸の値
(よこじく)

グラフに気をつけよう①



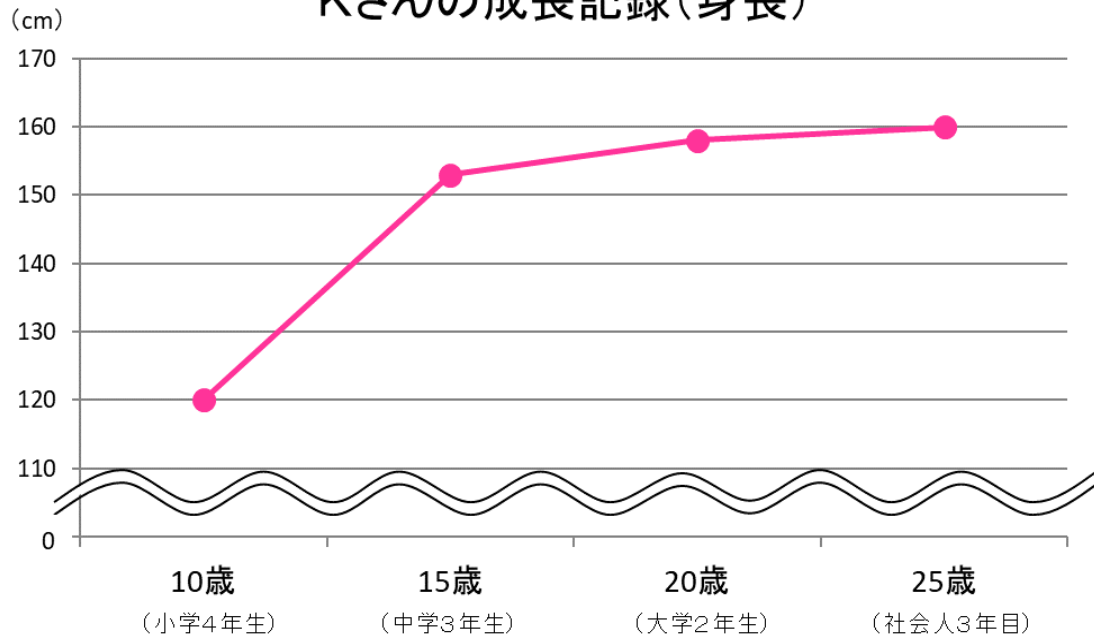
りったいてき

棒グラフが立体的になっているとき、本当の値より大きく見えることがあるので、注意しよう。

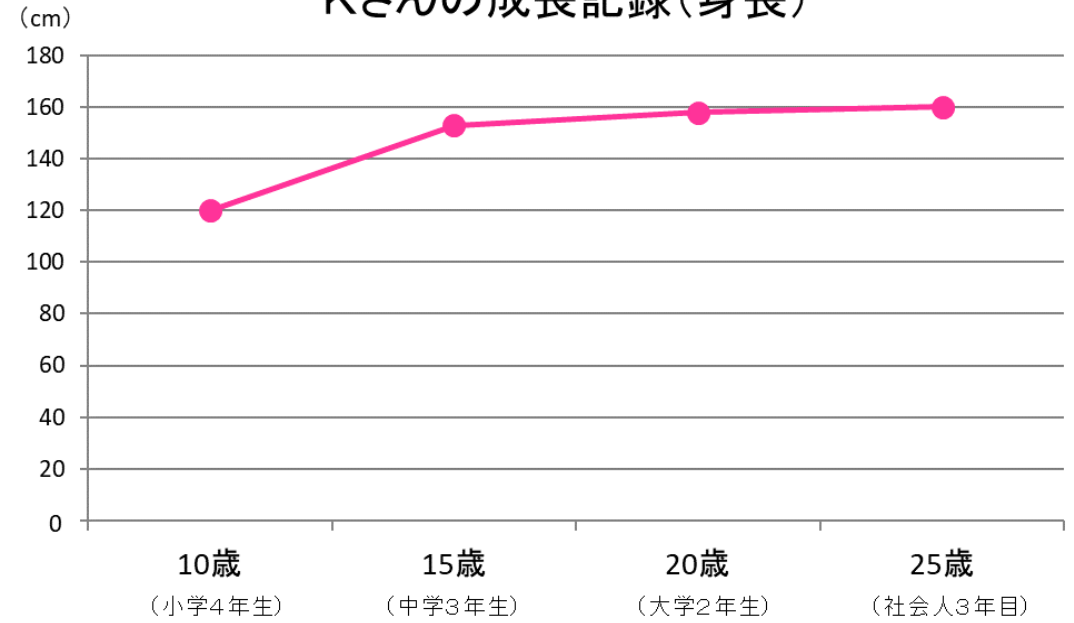


グラフに気をつけよう②

Kさんの成長記録(身長)



Kさんの成長記録(身長)

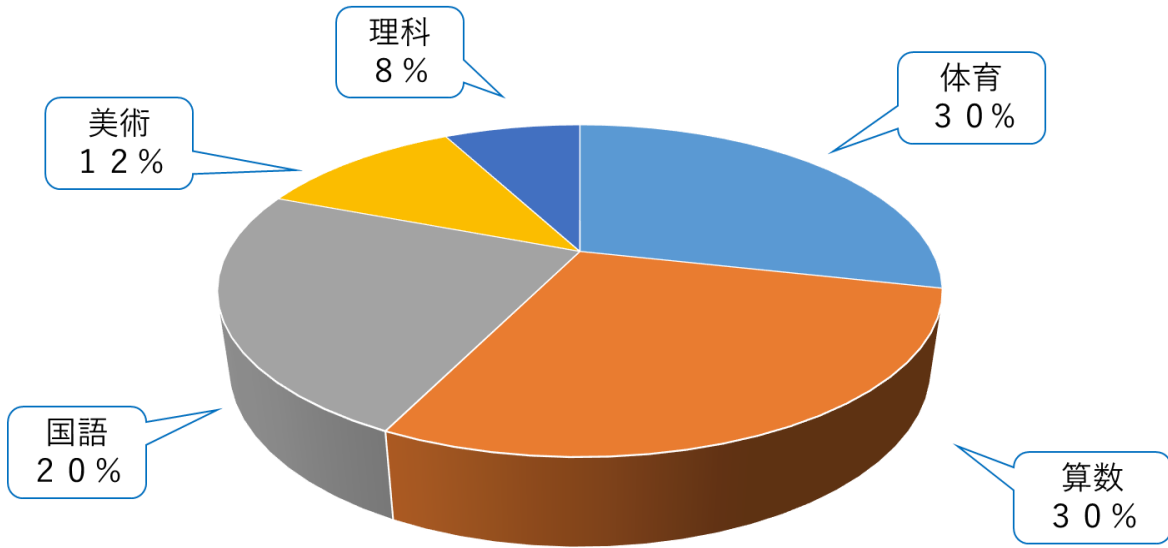


しょうりゃく記号 (\approx) を使うと、変化が大きく見えることがあるので、グラフを読みとるときは値をしっかりと確認し、気をつけよう。

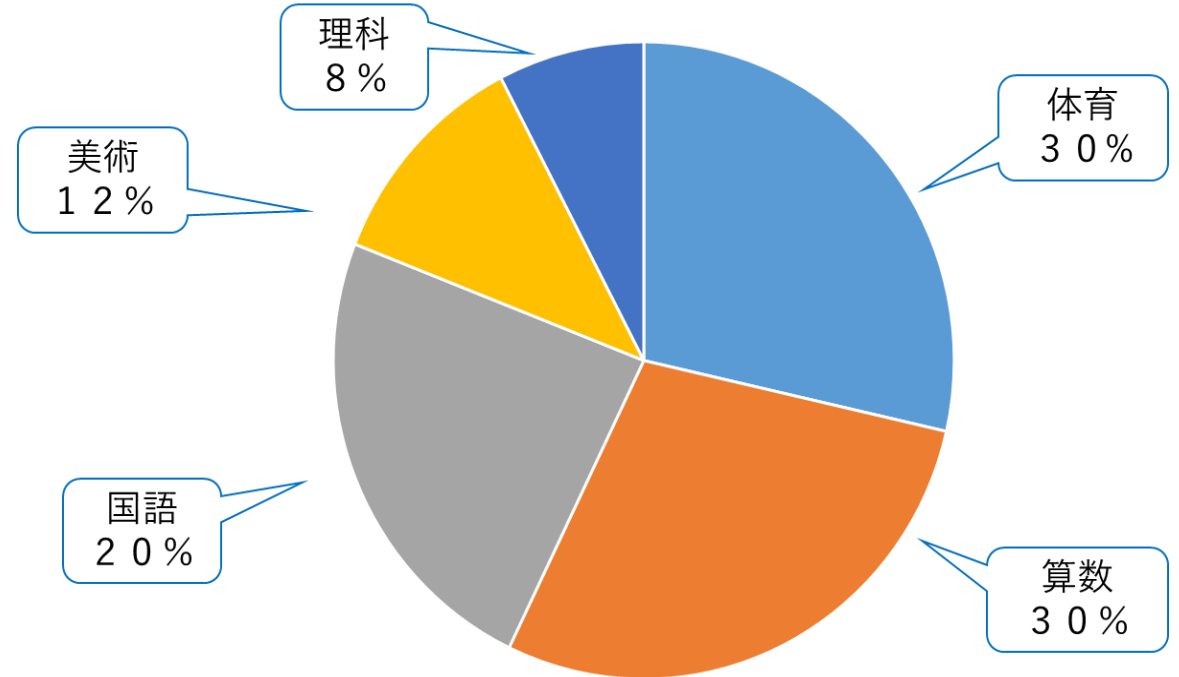


グラフに気をつけよう③

小学校4年生の好きな教科



小学校4年生の好きな教科



りったいてき

円グラフが立体的になっているとき、手前の割合が大きく見えてしまうので、注意しよう。



②岐阜県の「特ちょう」 や「じまん」を知ろう



データを見て、岐阜県
についてもっと知ろう





岐阜県のシンボル



問題 1

岐阜県の花は「れんげ」、木は「イチイ」、
鳥は「ライチョウ」です。
では、魚はなんでしょう？


- ① こい ② あゆ ③ さけ



岐阜県の特ちょうを表して
いるものばかりだよ。




岐阜県の「花」「木」「魚」「鳥」 ～シンボルは県の特徴を示しています～




県民からの公募により、「郷土の花」として選ばれました。春のやさしい風景によく似合う花として知られています。

県の花：れんげ




あゆは、美しい姿と良い香りで大切にされており、岐阜県のアユは長良川の鵜飼とともに全国的に有名です。

県の魚：あゆ



昔、この木で笏(しゃく)を作って天皇にさしあげたところ正一位という位を受けました。それ以来、イチイと呼ばれていると伝えられています。

県の木：イチイ



ライチョウは、日本アルプスのうちでも、2,400メートル以上の高い山に住み、羽毛は、夏は褐色、冬は白に変わります。国の特別天然記念物に指定されています。

県の鳥：ライチョウ

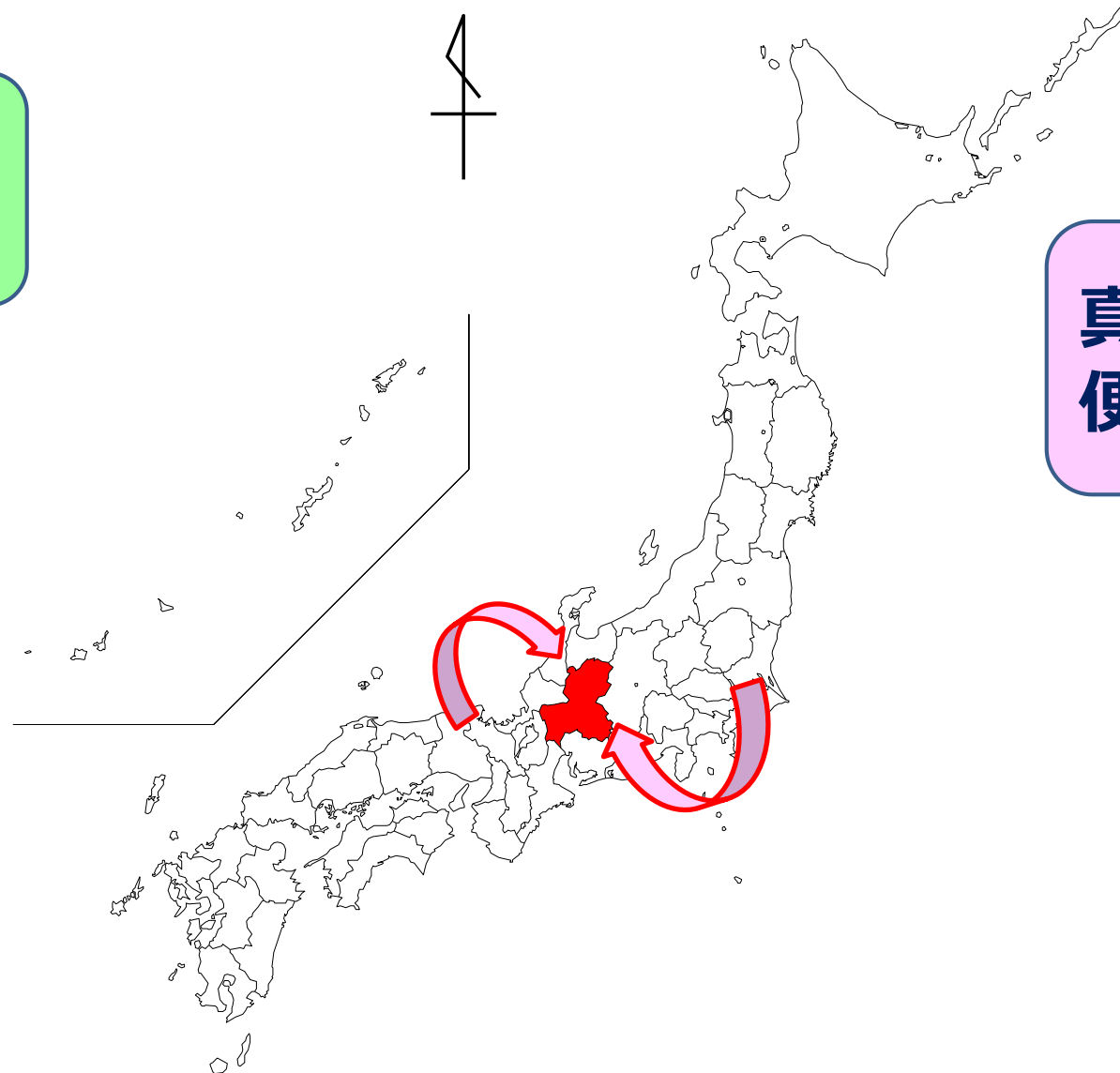


し ぜん き こう
自然と気候



岐阜県は日本の真ん中にある。
東京、大阪、名古屋に近く便利なところ。

日本の真ん中を表
す統計があるよ。

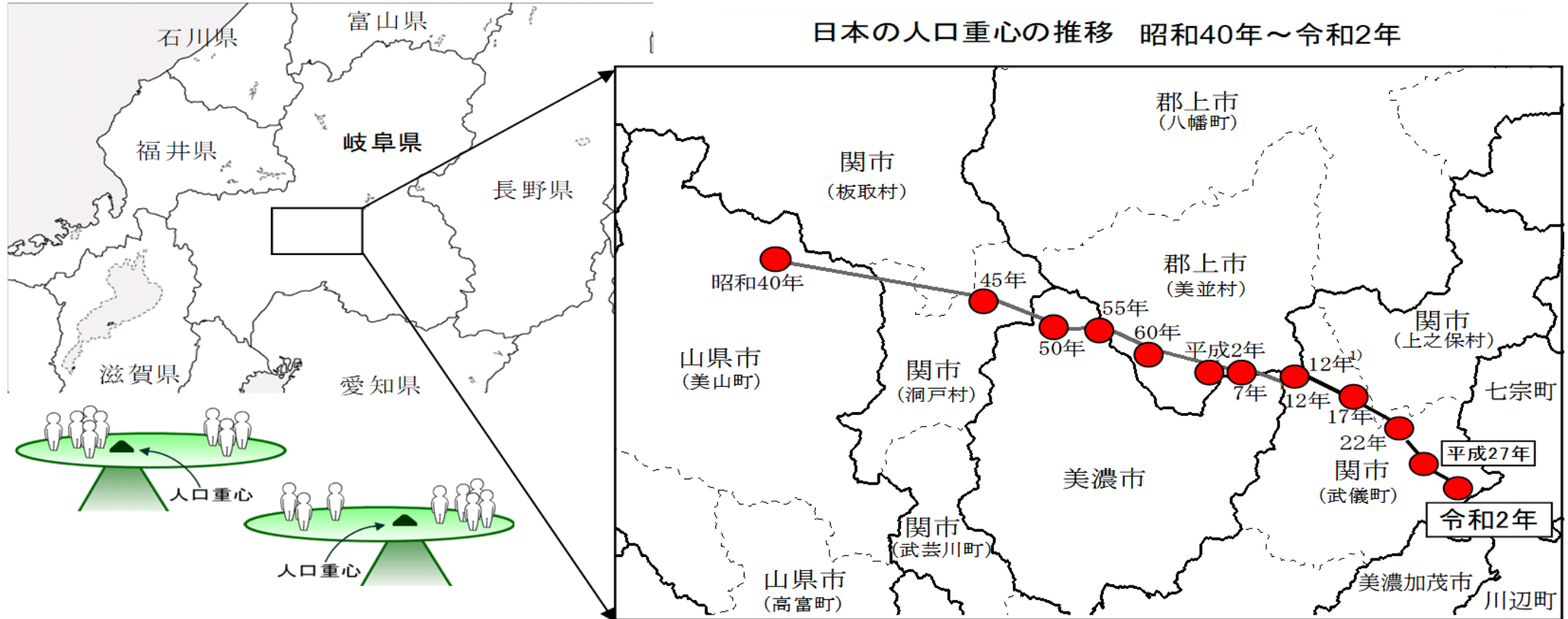


真ん中だから
便利だね。



日本の真ん中ぎふ ～日本のヘソ「人口重心」がある～

じんこうじゅうしん
 「人口重心」とは、人口の1人1人が同じ体重と仮定して、日本の人口が、全体として釣り合うことのできる点^つをいう。



- 1) 平成17年に人口重心の算出方法が変更されているため、平成12年は、平成17年からの推計方法により遡及適用したものと2地点を表示している。
- 2) () 内は、平成12年10月1日現在の市町村名。
 なお、人口は国勢調査人口によるため、5年毎の表示となる。

出典:総務省「我が国の人口重心ー令和2年国勢調査結果からー」

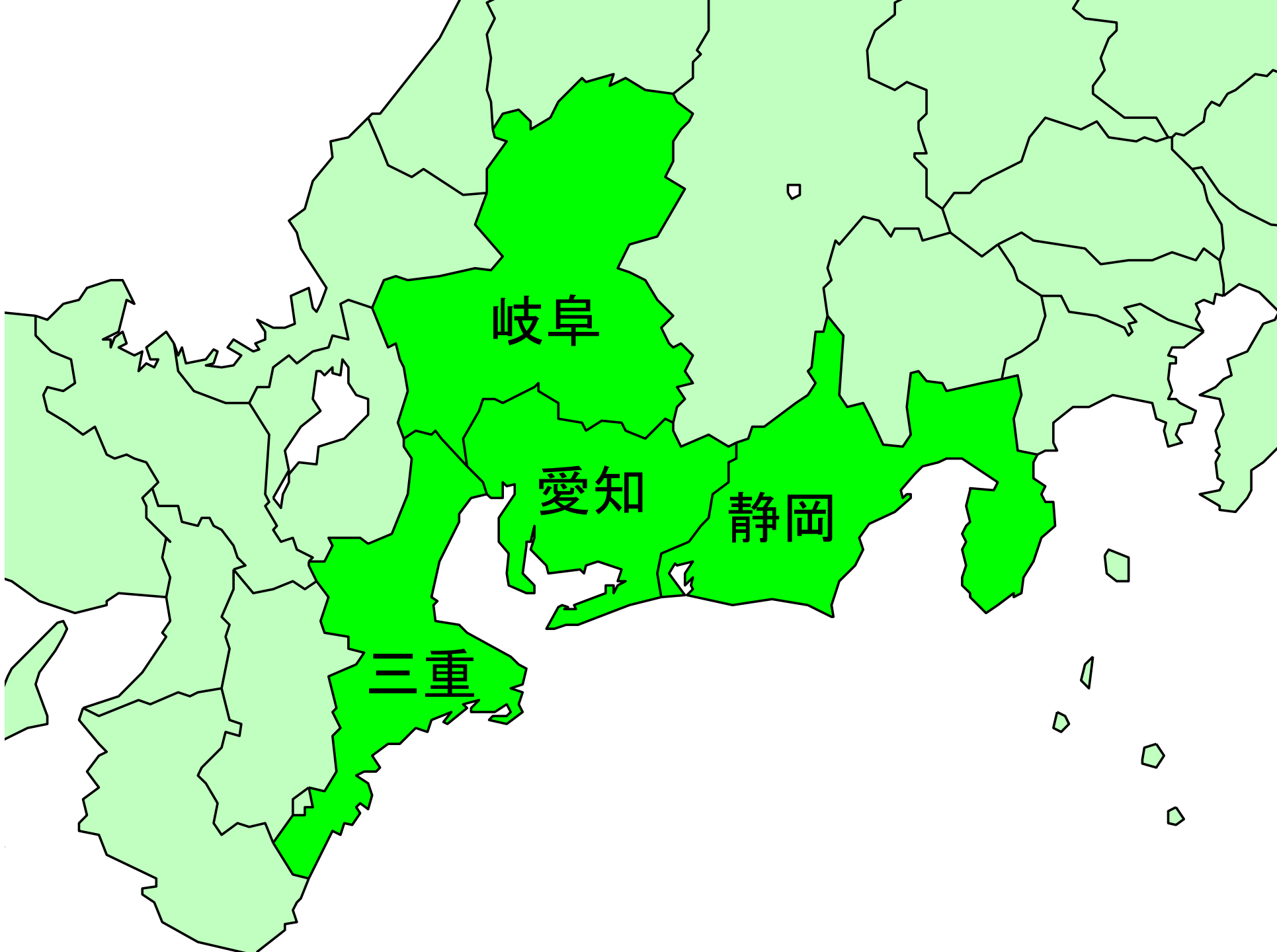
問題 2

**岐阜県、愛知県、三重県、
静岡県**の中で、一番面積
が広いのはどこ？



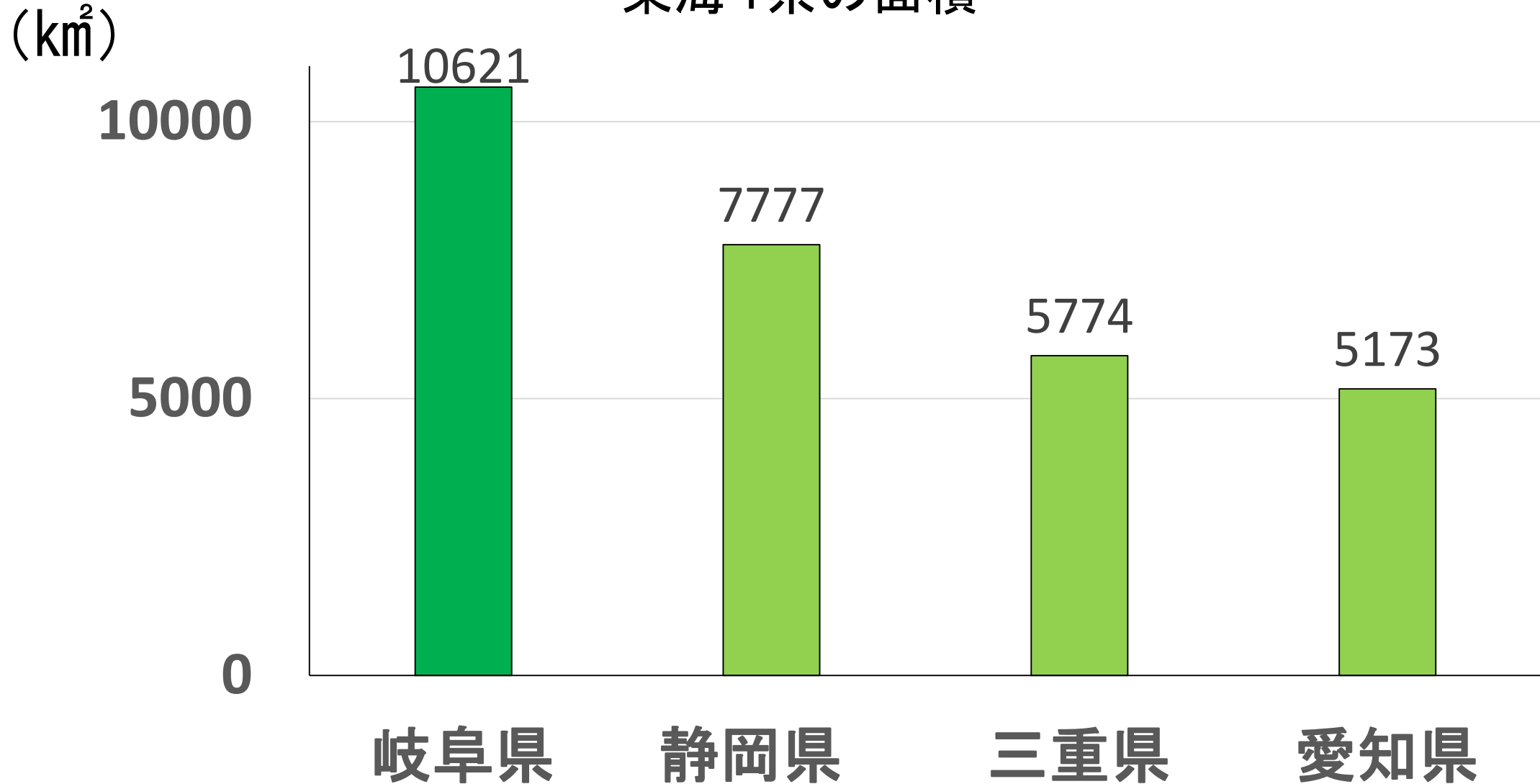
岐阜県の面積は、
約10621km²だよ！





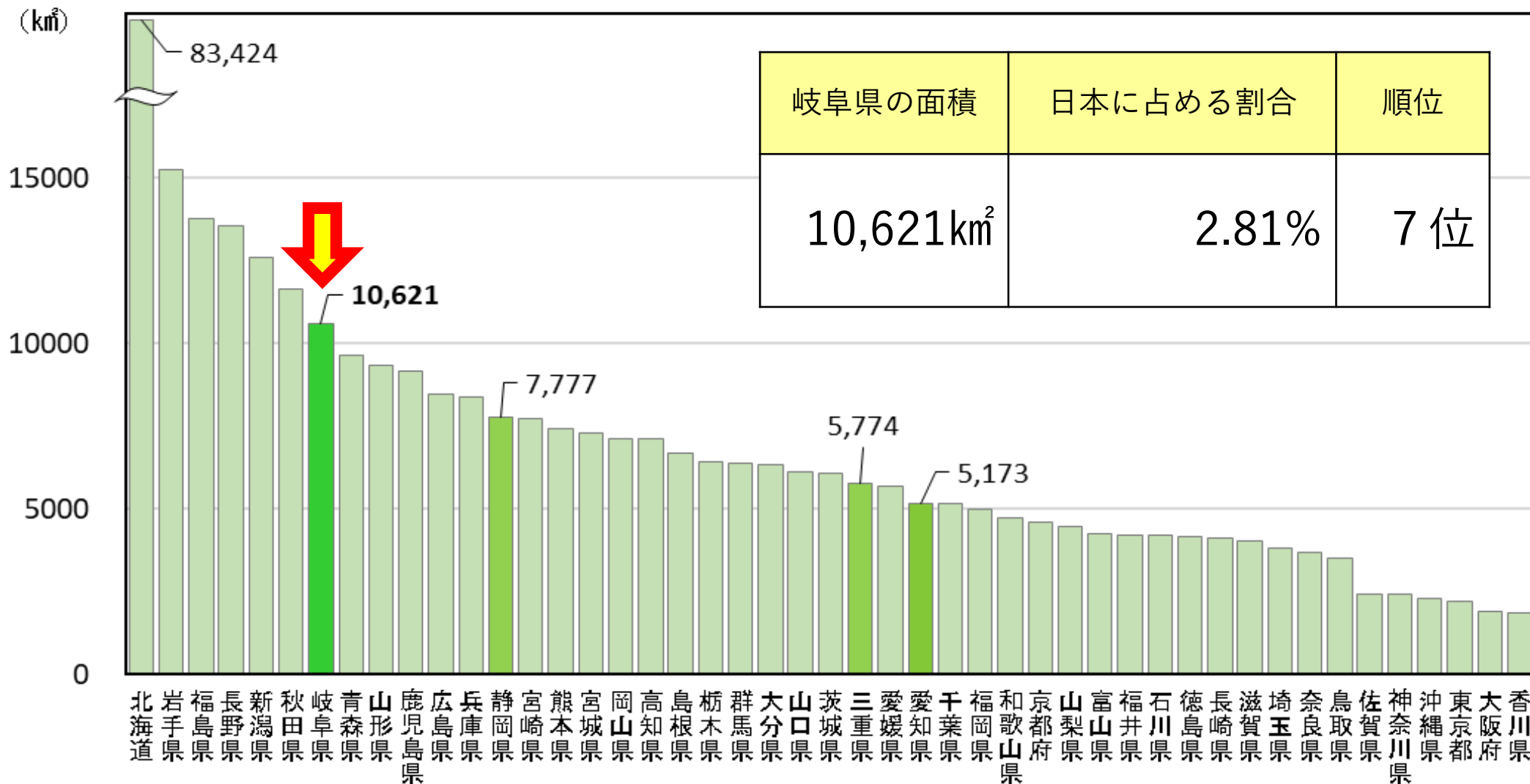
東海4県の中では、岐阜県が一番面積が広い！

東海4県の面積



岐阜県の面積は、全国でも7番目に広い！

都道府県別の面積



出典：国土地理院「全国都道府県市区町村別面積調（令和5年1月1日現在）」


問題 3

岐阜県の土地の使われ方のうち、
一番面積が広いのは、どんな土地？

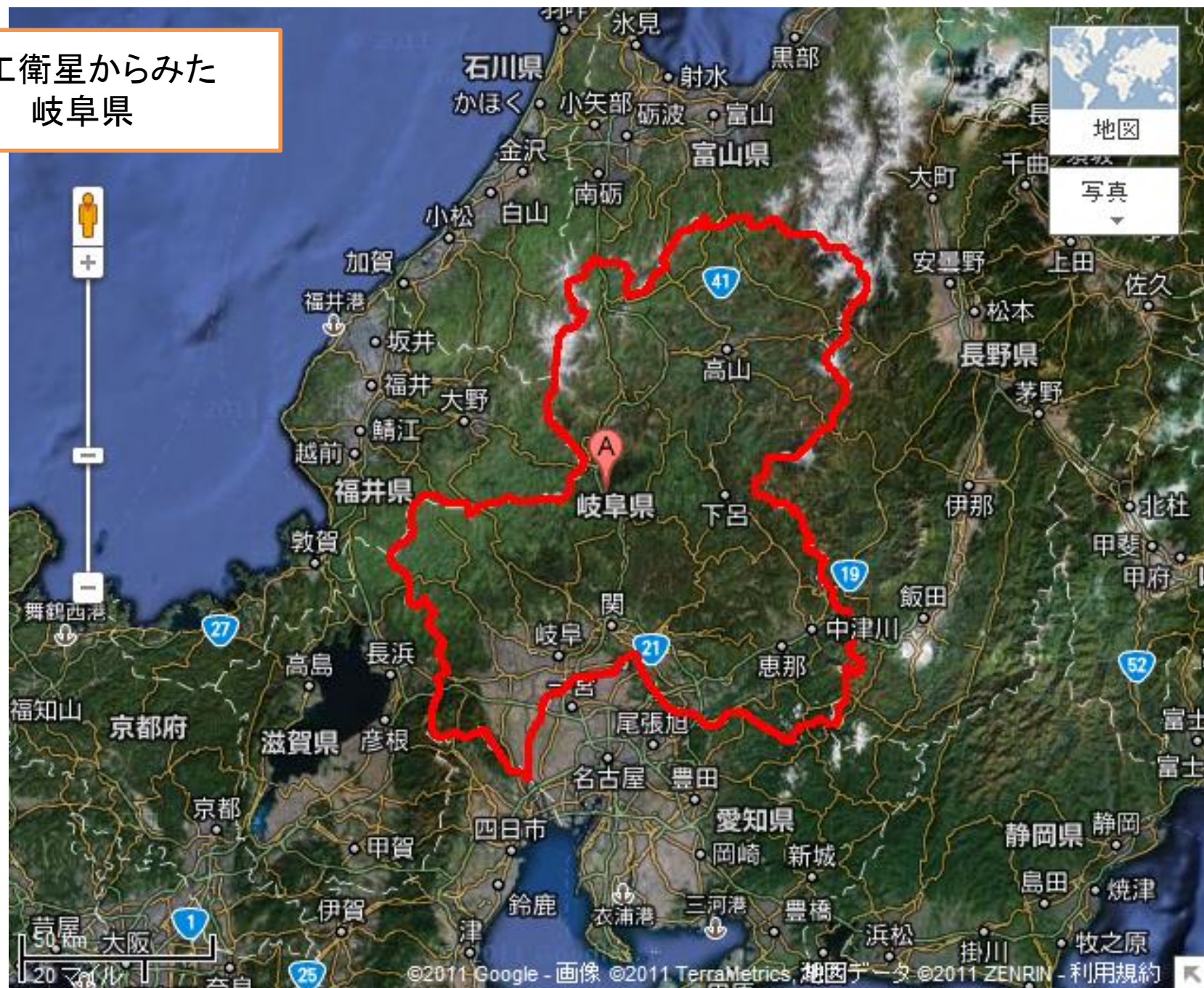
- ① 宅地 ② 森林 ③ 農地



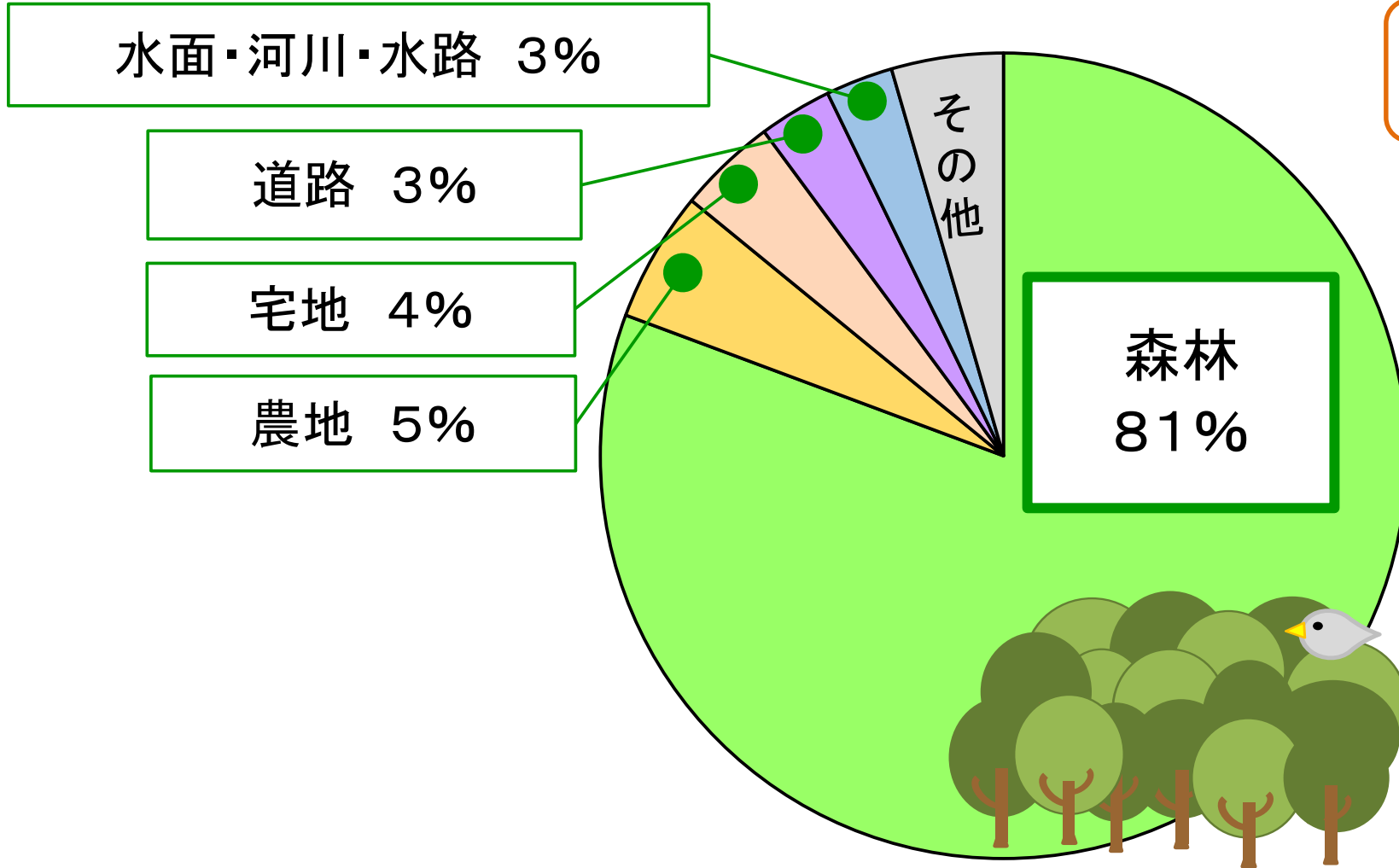
その土地の面積は、
約8566km²だよ！



人工衛星からみた
岐阜県



岐阜県の中で一番面積が広いのは森林！



森林率は
全国2位！



出典：岐阜県都市政策課「市町村別、地目別面積」(令和3年10月1日現在)

北部は3000メートル級の山々がそびえ



新穂高ロープウェイ

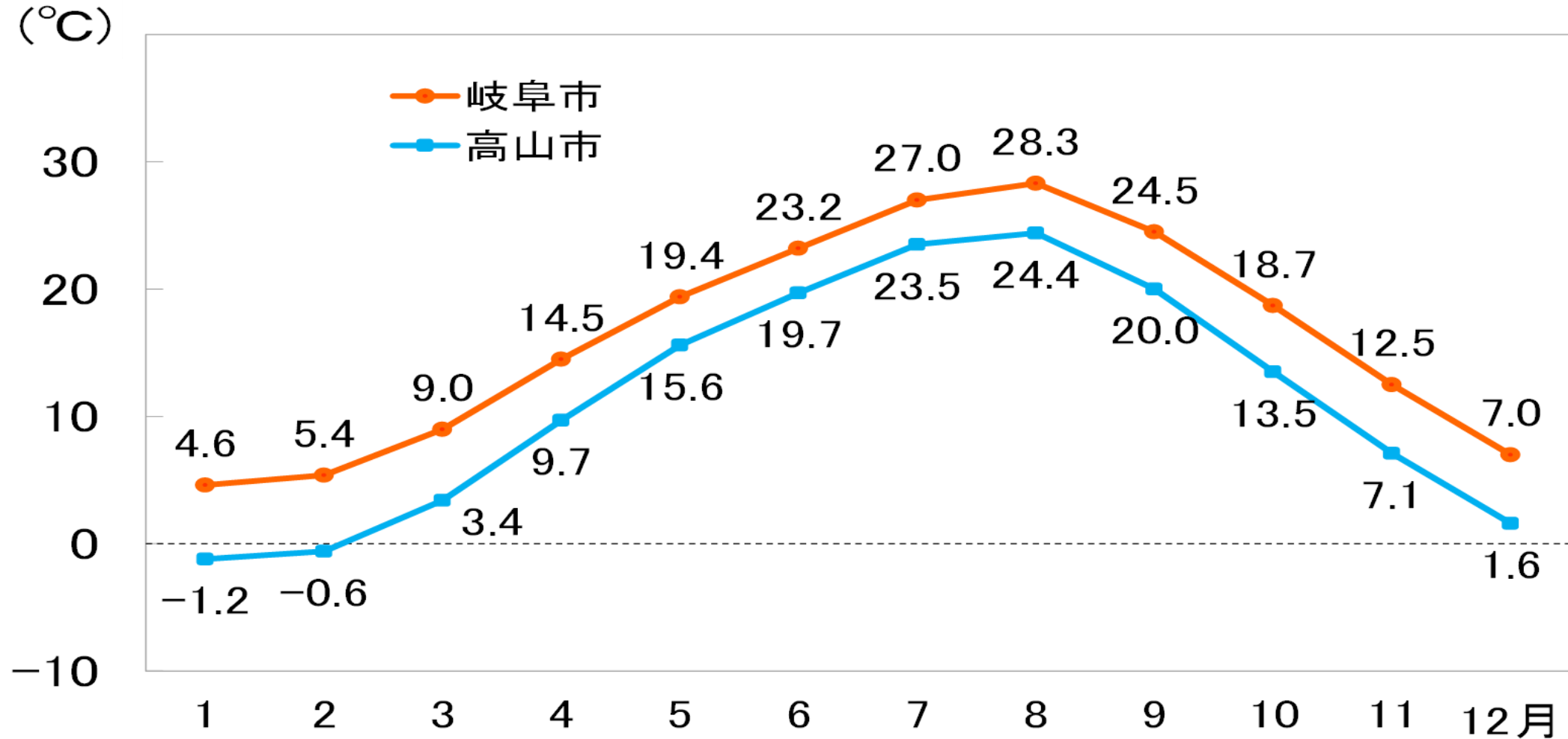
南部は平地が広がっている




岐阜城から見た長良川

岐阜県は南北で気候がちがう

月別平均気温(平年値)



出典: 気象庁(平年値とは、1991~2020年の累年平均値をいう)



じん

こう

人

口



問題 4

岐阜県の人口は、
全国 47 都道府県の中で、
「多い方」か**「少ない方」**か
どちらでしょうか？

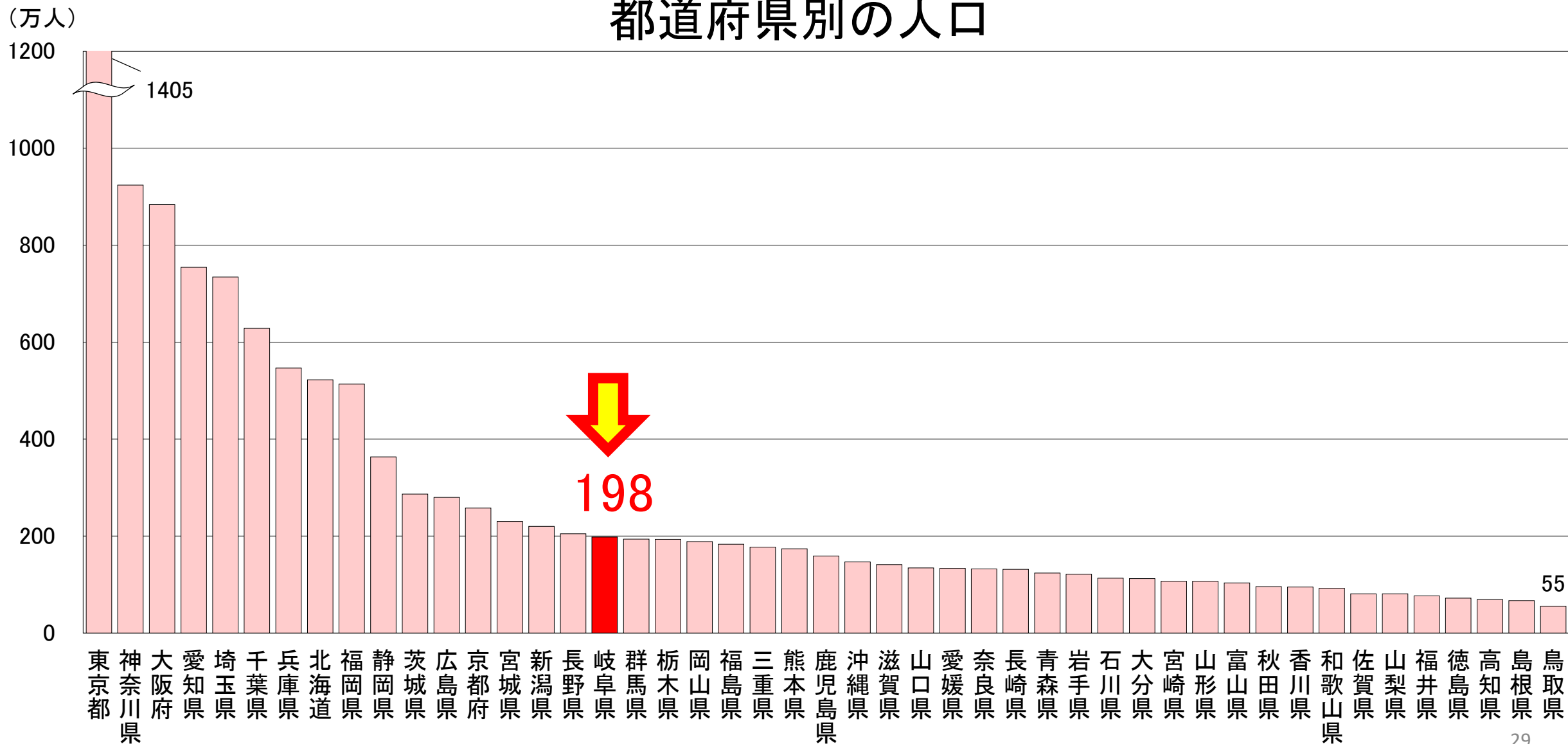


岐阜県の人口は、
約198万人だよ！



岐阜県の人口は、約198万人（多い方から17番目）

都道府県別の人口




問題 5

最近の岐阜県では、1年間で生まれた人の数と、死亡した人の数のどちらが多い？

- ① 生まれた人 ② 死亡した人

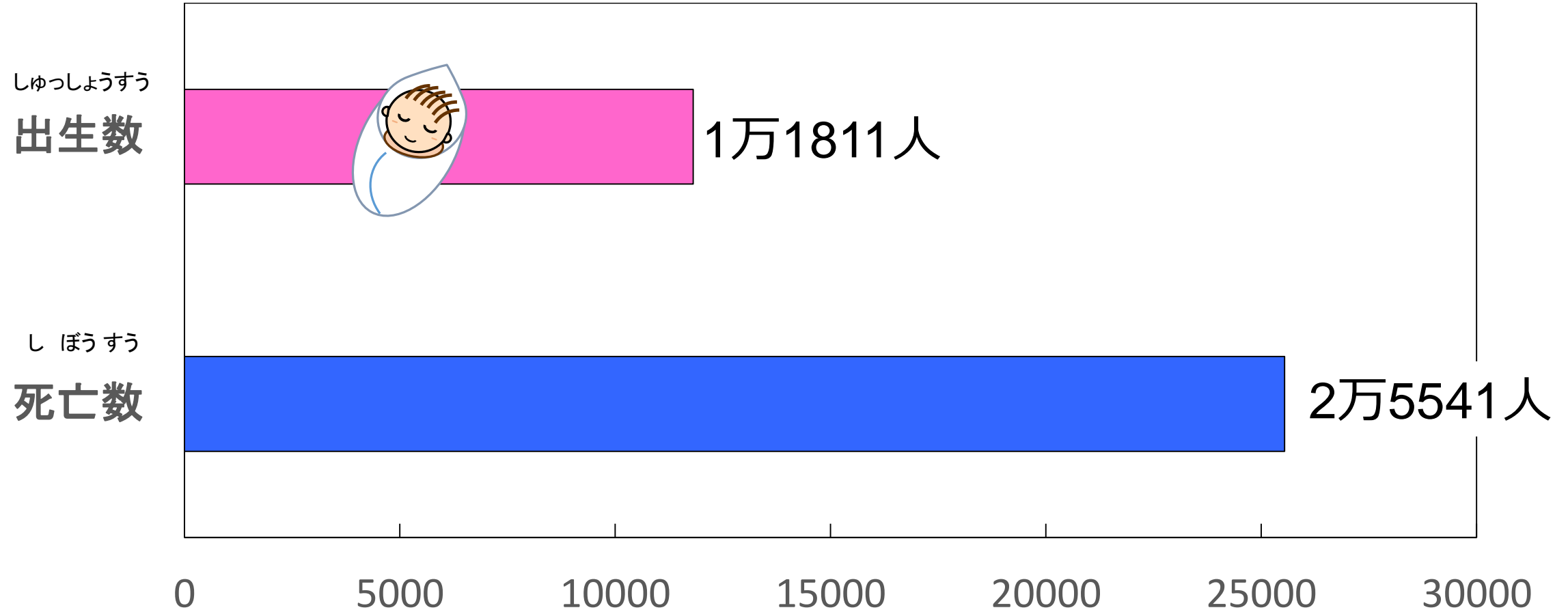


令和4年に生まれた人は、
11811人だよ！



最近の岐阜県では、死亡した人の数の方が多い

令和4年の出生数と死亡数の比較

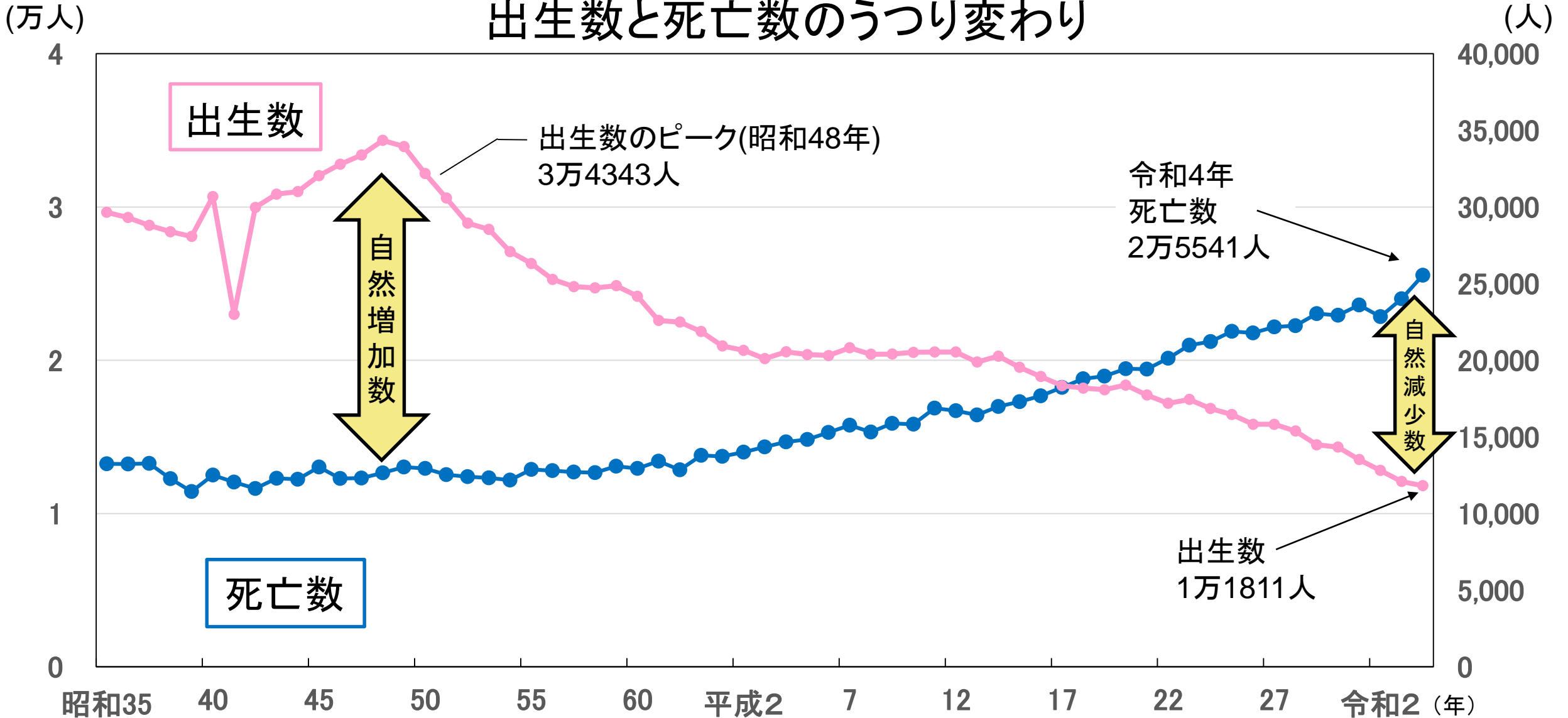


出典：岐阜県統計課「令和4年岐阜県人口動態統計調査」
(令和3年10月1日から令和4年9月30日までの1年間の数)

(人)

平成18年以降、自然減少の状態が続いている

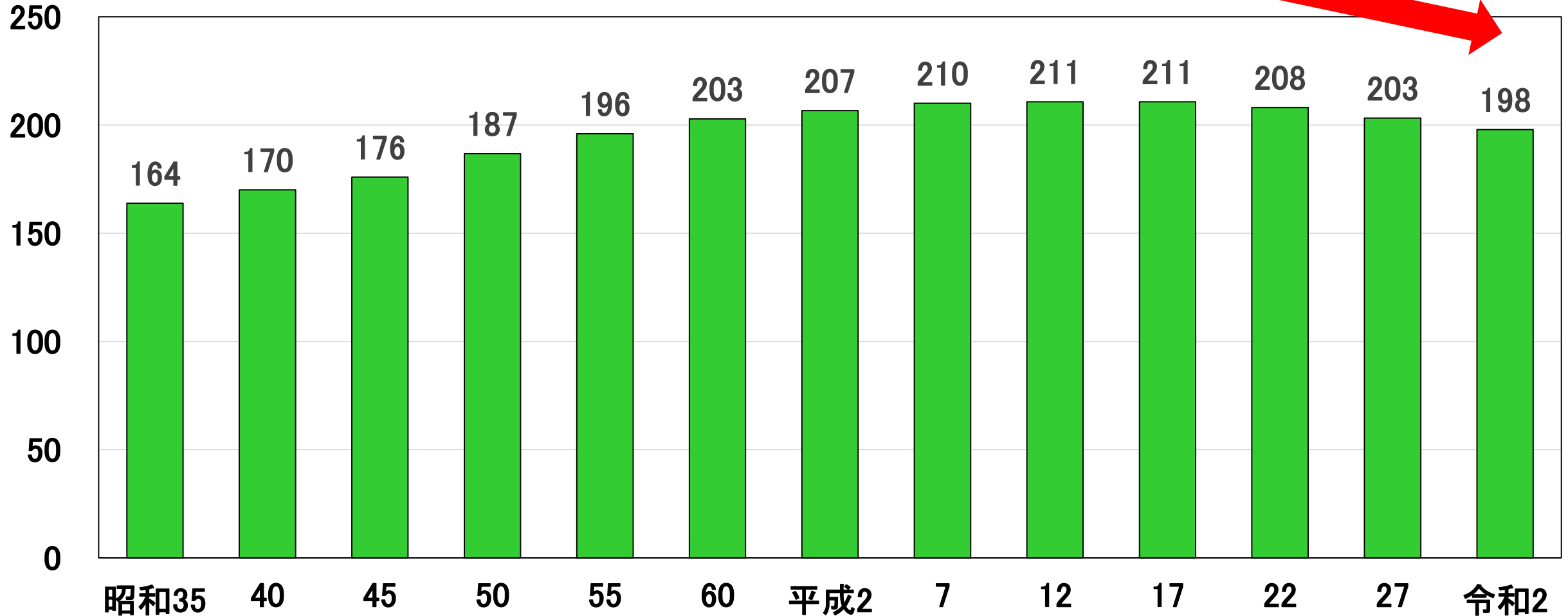
出生数と死亡数のうっすり変わり



平成27年から令和2年までの5年間で、約5万人の人口が減少

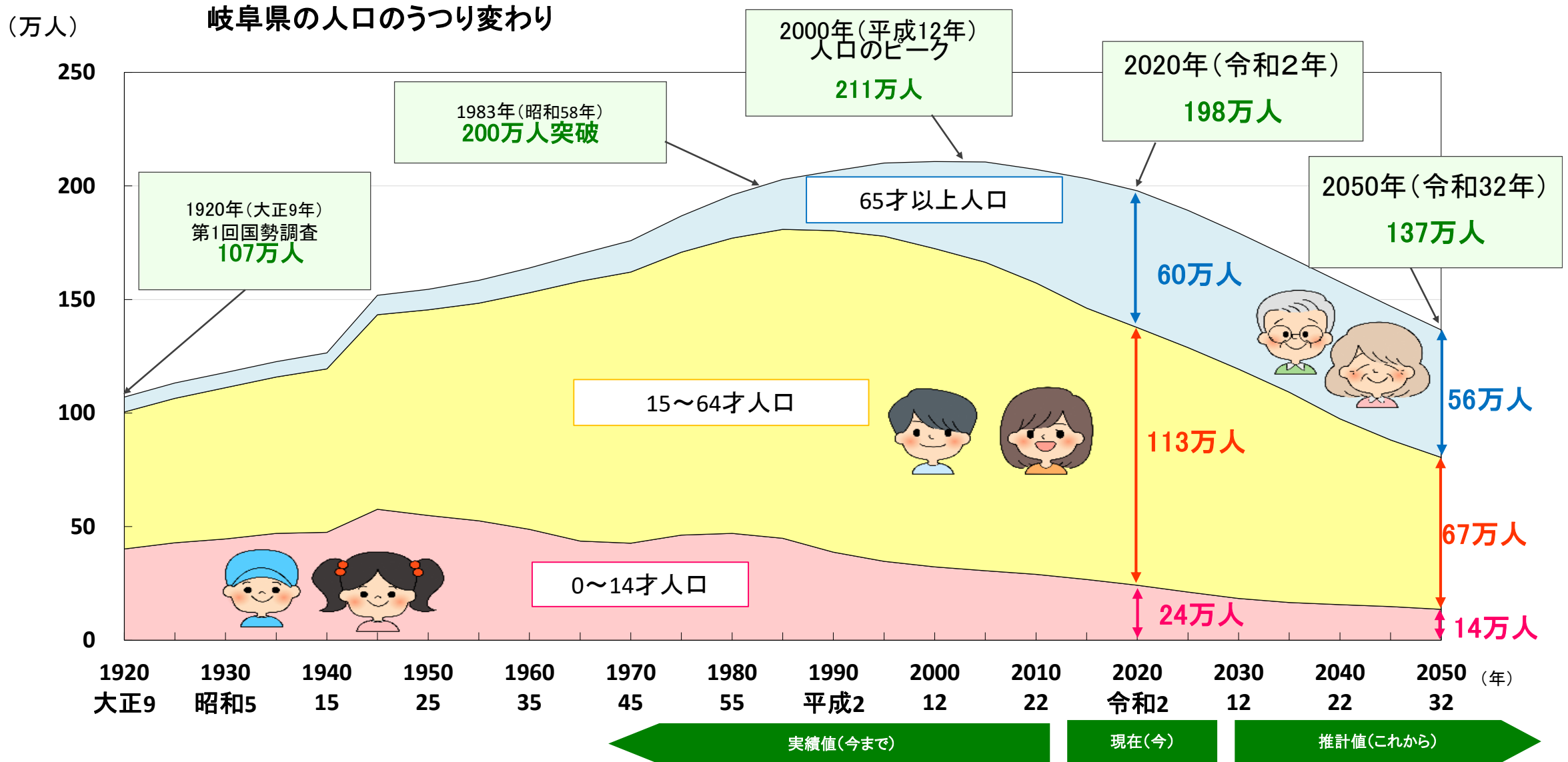
(万人)

岐阜県の人口のうつり変わり




出典:総務省「国勢調査」


岐阜県の人口は、今後も減っていくと予想されている



(出典)実績値(令和2年まで):総務省「国勢調査」 推計値(令和3年以降)は、岐阜県政策研究会人口動向研究部会「岐阜県の将来人口推計」



さん ぎょう
産 業



問題6

岐阜県で、働いている人が
一番多い産業は？

のう りん すい さん ぎょう

① 農林水産業

こう ぎょう


② 工業

しょう ぎょう

③ 商業

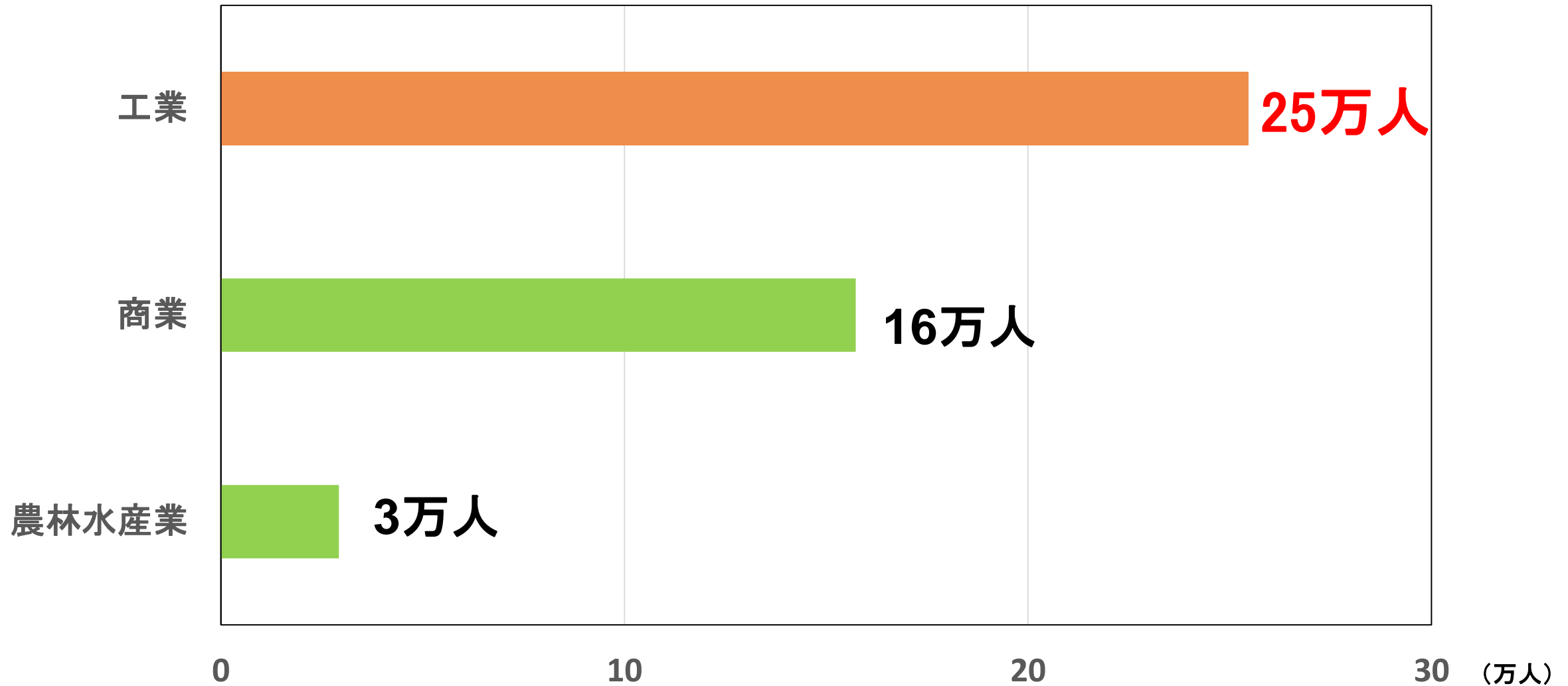


岐阜県は、どんな産業が
さかんかな？




岐阜県では工業がさかんであり、強みです

岐阜県で働いている人（1,031,928人）

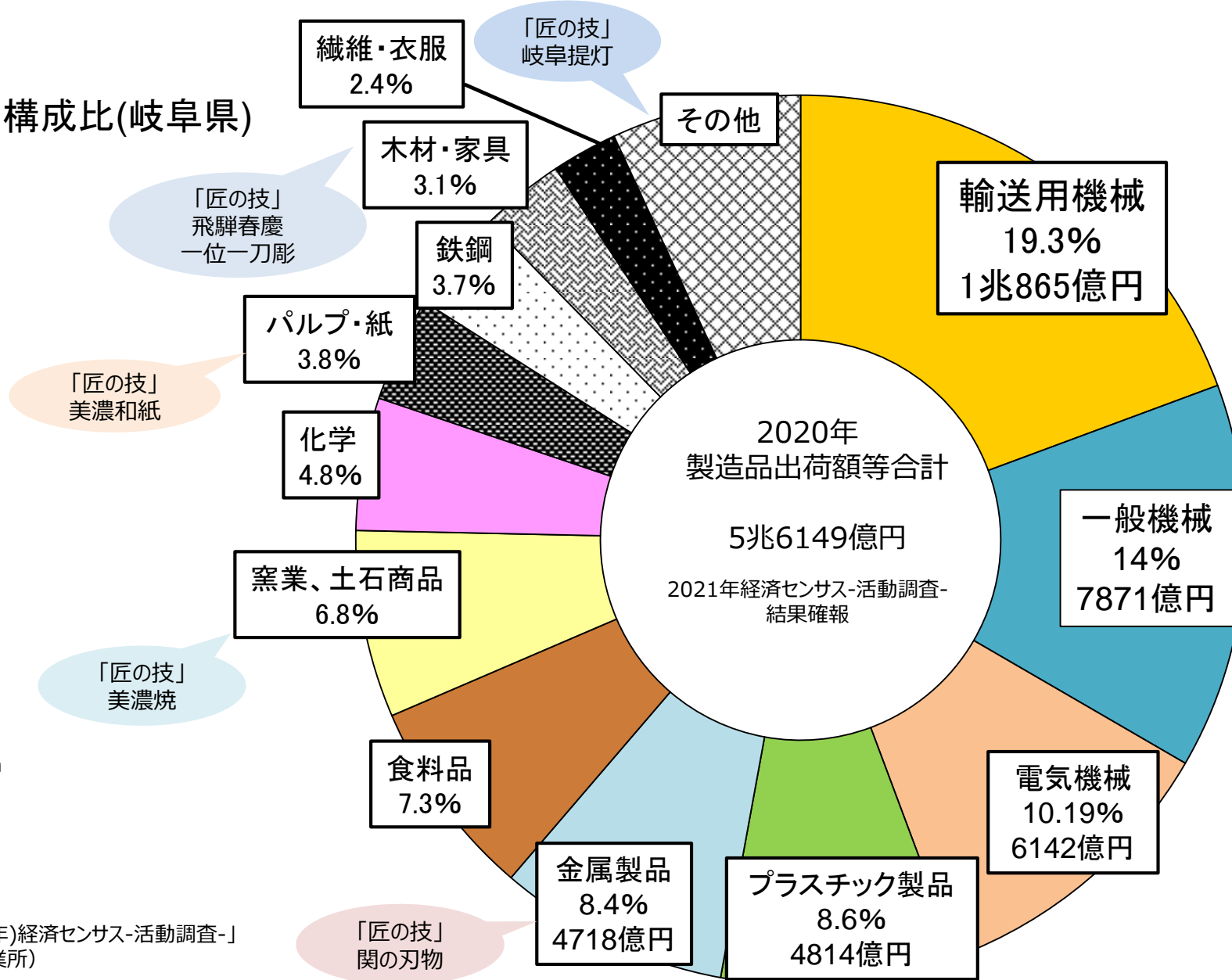


岐阜県では、機械を中心にさまざまなものが作られている

製造品出荷額の構成比(岐阜県)

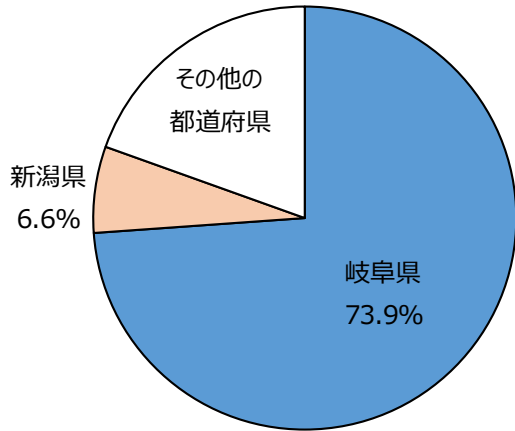


出典：総務省「令和3年(2021年)経済センサス-活動調査-」
(従業者規模4人以上事業所)

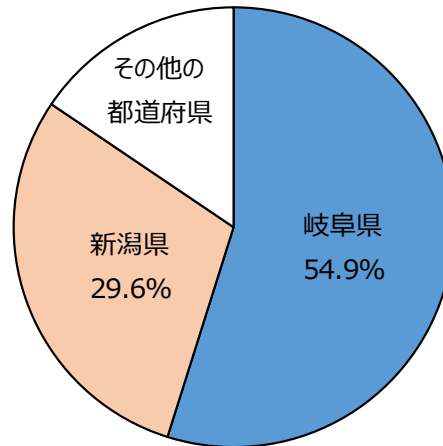


岐阜県がじまんでできる出荷額全国 1 位の主な製品

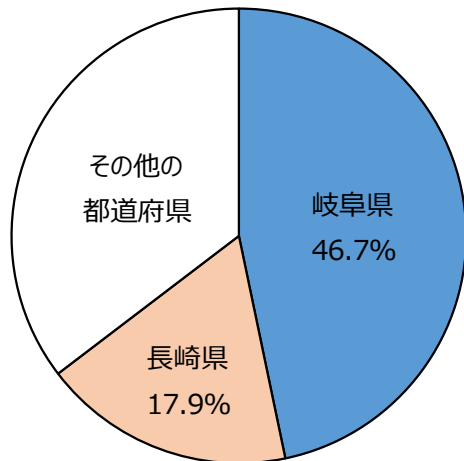
りはつようはもの
理髪用刃物



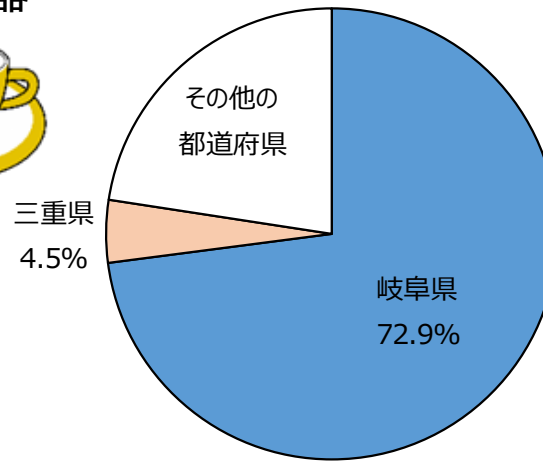
ほうちよう
包丁



わしよつき
和食器

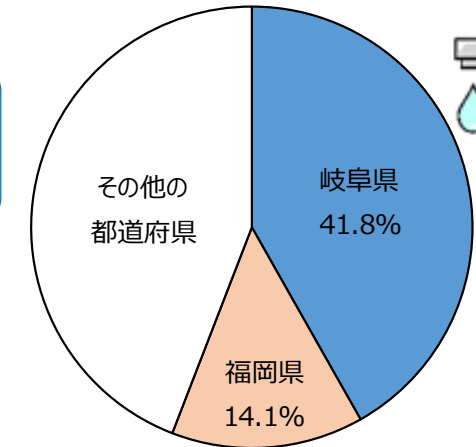


ようしよつき
洋食器



きゆうはいすいよう
給排水用バルブ・コック

給排水用
バルブ・コックは
岐阜県が発祥の地



出典:「令和3年(2021年)経済センサス-活動調査-」従業員4人以上の事業所が対象、なお、秘匿となっているものは除いたランキング。

地域の気候に合った、さまざまな農林水産物を生産！

大都市へ食料供給

名古屋市場

大阪市場

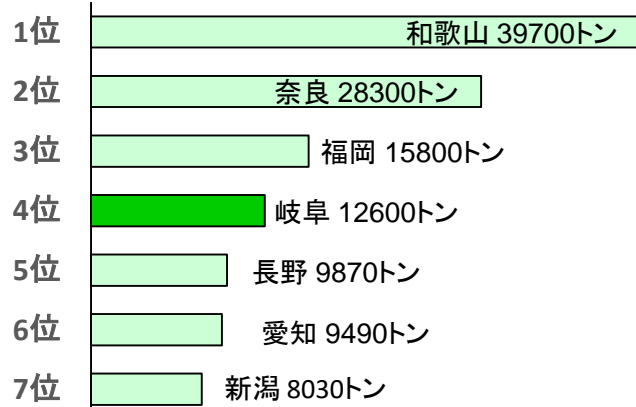


南北に長い自然を生かし、いろんな食材が作られている



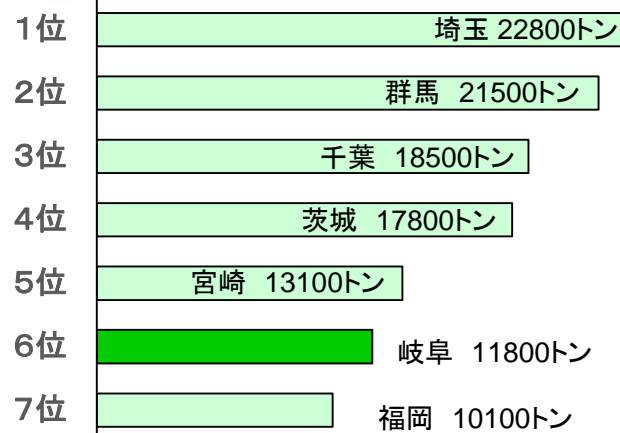
かき

全国収穫量 18万7900トン



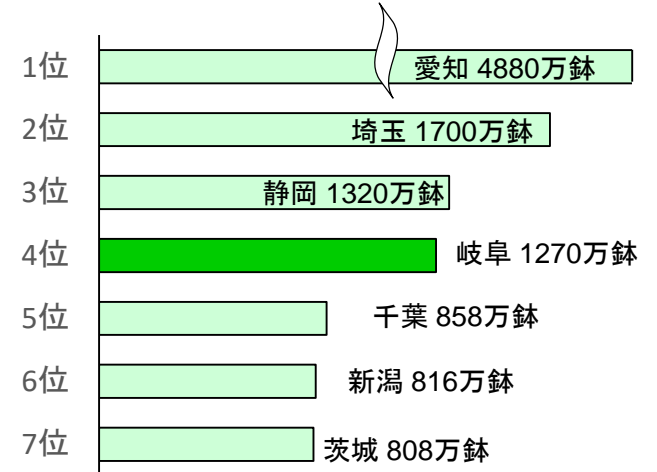
ほうれんそう

全国収穫量 21万500トン



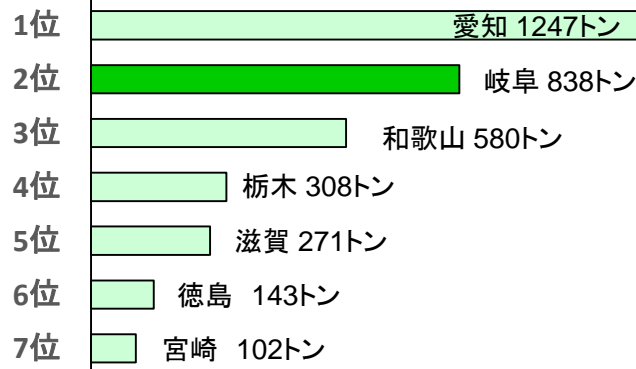
鉢ものの類

全国出荷量 1億8860万鉢



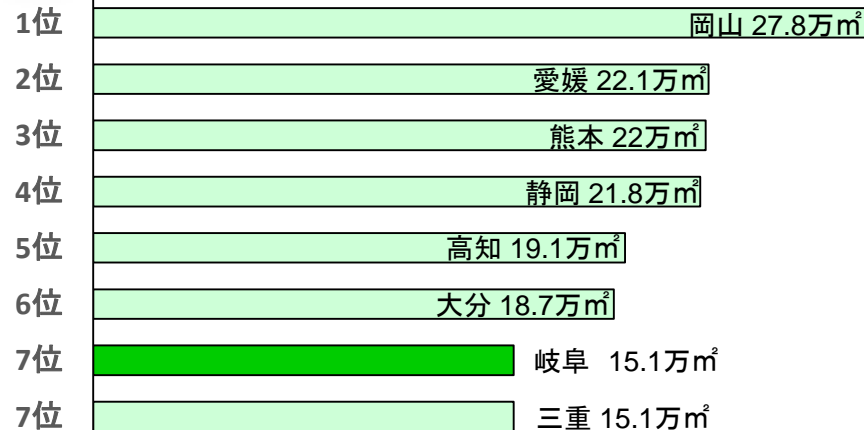
あゆ養しよく

全国収穫量 3909トン



ひのき

全国素材生産量 307.9万㎡



岐阜県は林業が
とってもさかんな県

- ひのき人工林面積 全国2位
- 林業経営体数 全国4位
- 製材工場数 全国1位

岐阜県には年間約3800万人の人々が観光で来訪

かんこういりこみきやくすう
 ◆**県の観光入込客数（実人数）**
3841万6千人

かんこうしょうひがく
 ◆**観光消費額 1721億円**

観光地点別の集客数

出典：令和3年(2021年)
 岐阜県観光入込客統計調査



千代保稲荷神社
 (ちよほいなりじんじゃ)
102万人

千本松原・国営木曾三川公園
 (せんぼんまつばら・こくえいきそさんせんこうえん)
120万人

世界遺産白川郷
 (せかいいさんしらかわごう)
38万人

奥飛騨温泉郷
 (おくひだおんせんごう)
22万人

高山地域
 (たかやまちいき)
138万人

下呂温泉
 (げろおんせん)
60万人



岐阜公園
 (ぎふこうえん)
64万人

伊奈波神社
 (いなばじんじゃ)
98万人

馬籠宿
 (まごめじゅく)
24万人

長良川鵜飼
 (ながらがわうかい)
1万人

土岐プレミアムアウトレット
 (と き)
502万人

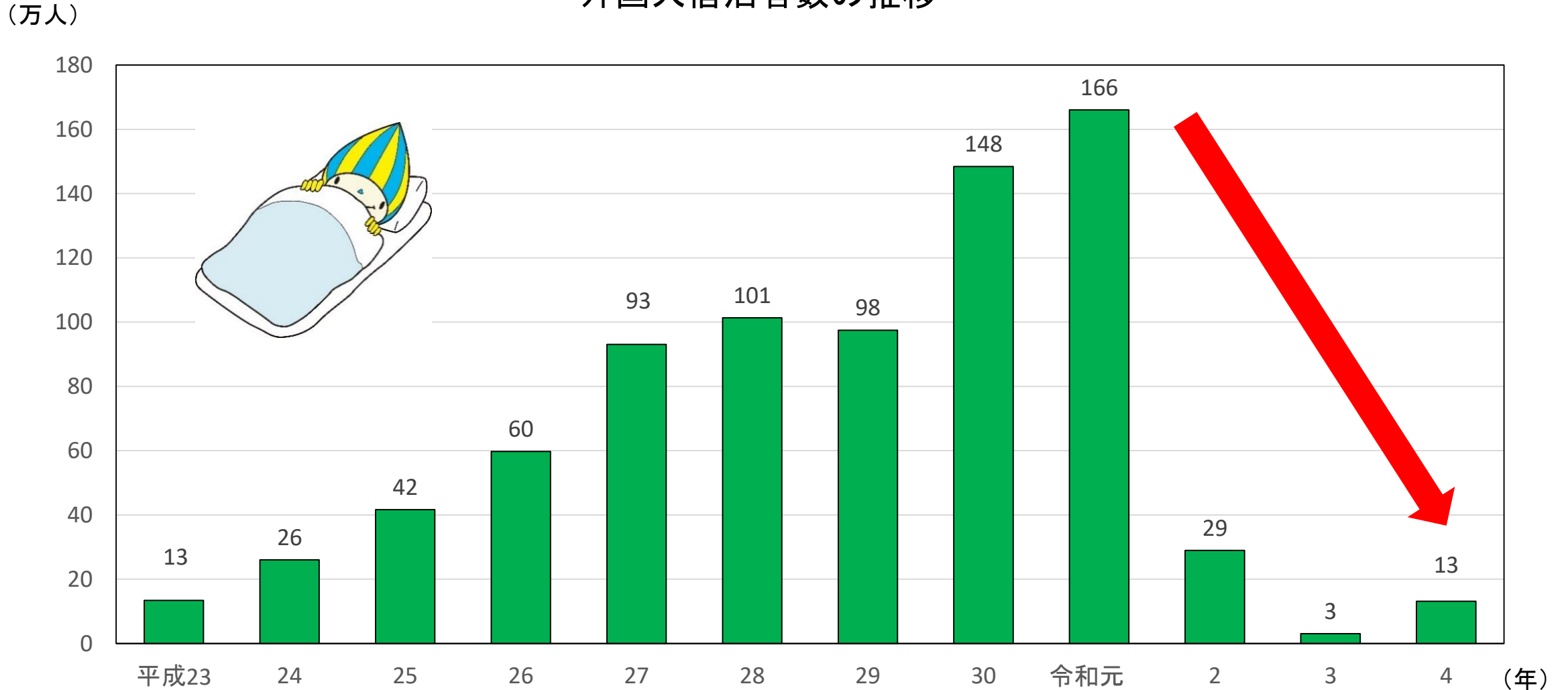



河川環境楽園
 (かせんかんきょうらくえん)
383万人



岐阜県内に宿泊する外国人は増えてはいたが…

外国人宿泊者数の推移






暮らし




岐阜市の人、こんなことが大好き

★柿とキャンデーが大好き



柿 (かき)

購入量 : 全国1位
購入金額 : 全国1位



キャンデー

購入金額 : 全国1位

その他こんなものの金額も
多いです

- ・他の穀類(米、パン類、麺類以外) 全国 2位
- ・和生菓子(ようかん、まんじゅう以外) 全国 2位
- ・チョコレート 全国 2位
- ・スナック菓子 全国 3位
- ・もち 全国 4位
- ・プリン 全国 5位
- ・にゆうさんきんいんりょう乳酸菌飲料 全国 5位
- ・そうざい材料セット 全国 5位

出典：総務省「家計調査」都道府県庁所在市別ランキング（2020～2022年平均）
（二人以上の世帯の1世帯あたり年間支出金額・購入数量）

岐阜市の人、外食も好き 家計調査では上位

★外食が大好き



和食（外食）

- ・年間 39,596円
- ・全国 1位



すし（外食）

- ・年間 19,047円
- ・全国 2位

★全国で一番、喫茶店が大好き



中華食（外食）

- ・年間 7,403円
- ・全国 1位



- ・1年間の喫茶代 13,589円
- ・全国 1位

今回紹介したデータのうち、人口などは、
統計調査の結果でわかったことです。

大人になったら
調査に協力してね！



統計グラフコンクールに参加しよう！！

身のまわりの出来事や社会の中で気になることを調べて、
グラフを使ってあらわした作品を募集！！

例えば・・・

学校で

○クラスや学校のみんなにアンケートをとって、グラフにしてみる
好きな給食、寝ている時間 など

家や近所で

○身の回りにあることを観察して、グラフや表にしてみる
毎日の天気や気温、道の交通量 など

学習で

○社会などの授業で習ったことを調べて、グラフにしてみる
ゴミの量、水の使用量、岐阜県や地元の特ちょう など



作品の大きさ: B2判(72.8cm×51.5cm)

提出先: 学校

応募の締切: 8月(学校ごとに違うので先生に
聞いてね)

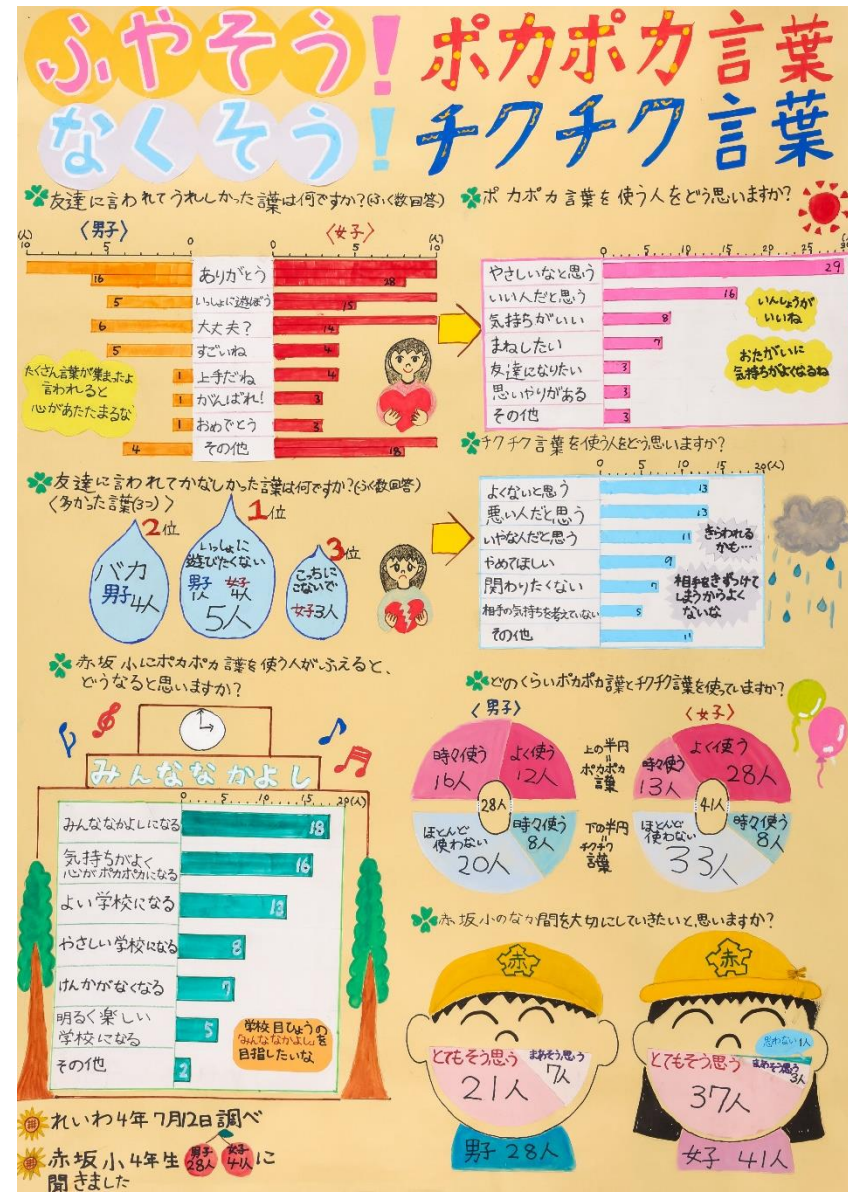
応募してくれたみんなに参加賞もあるよ
ぜひ応募してね



優秀作品は全国コンクールへ出品！



大垣市立墨俣小学校
小4 中野 柚希さんの作品
第70回全国統計グラフコンクール 佳作
令和4年度岐阜県統計グラフコンクール 入選



大垣市立赤坂小学校
小4 渡部 美響さんの作品
令和4年度岐阜県統計グラフコンクール
岐阜新聞社・岐阜放送賞

ちょうせん

クイズに挑戦!!

「ある食品」はなにかな？

「家計調査」の
岐阜市のデータだよ。



「ある食品」はなにかな？

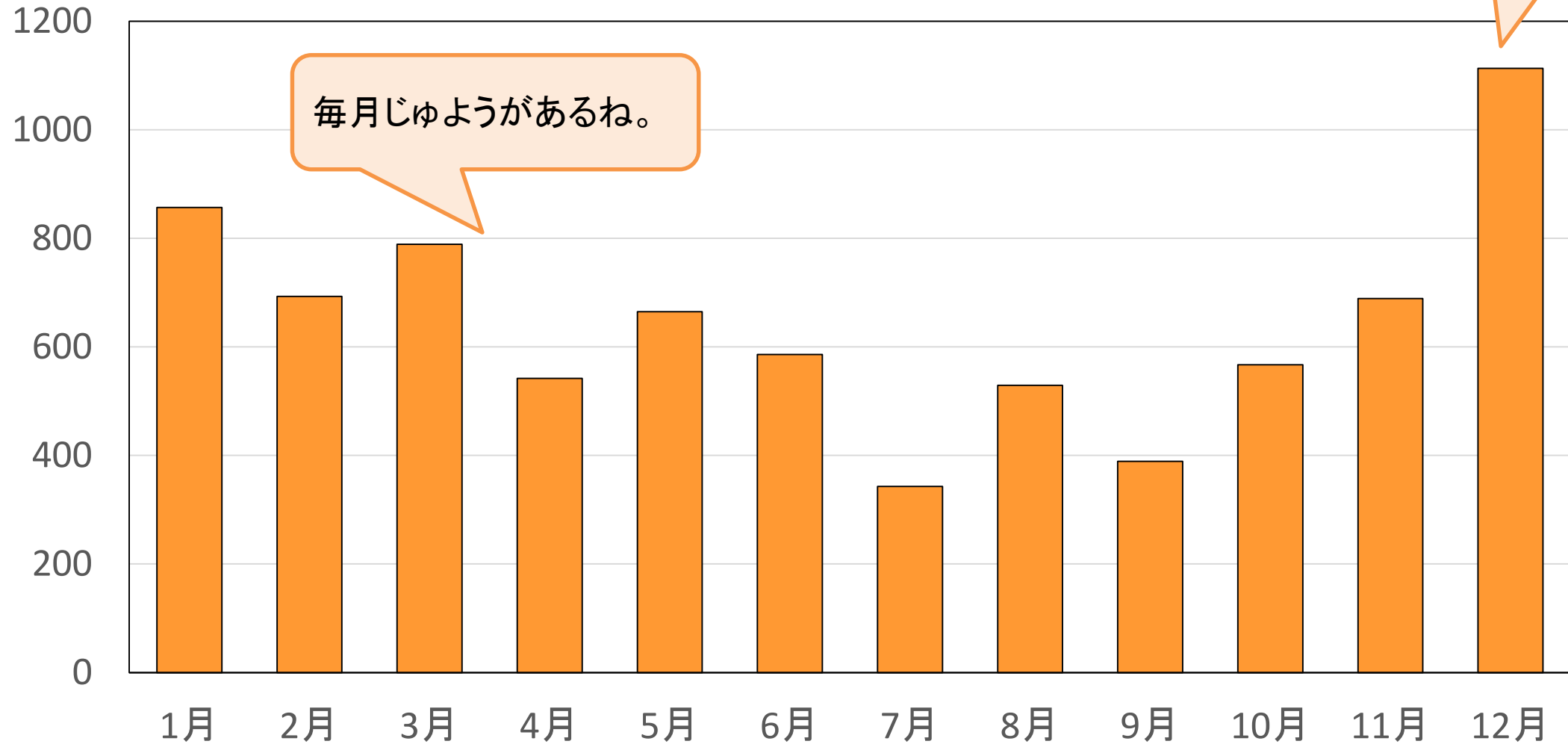
「ある食品」の月別の支出金額(岐阜市)

1月	857円	7月	343円
2月	693円	8月	529円
3月	789円	9月	389円
4月	542円	10月	567円
5月	665円	11月	689円
6月	586円	12月	1113円

「ある食品」はなにかな？

「ある食品」の月別の支出金額(岐阜市)

(円)



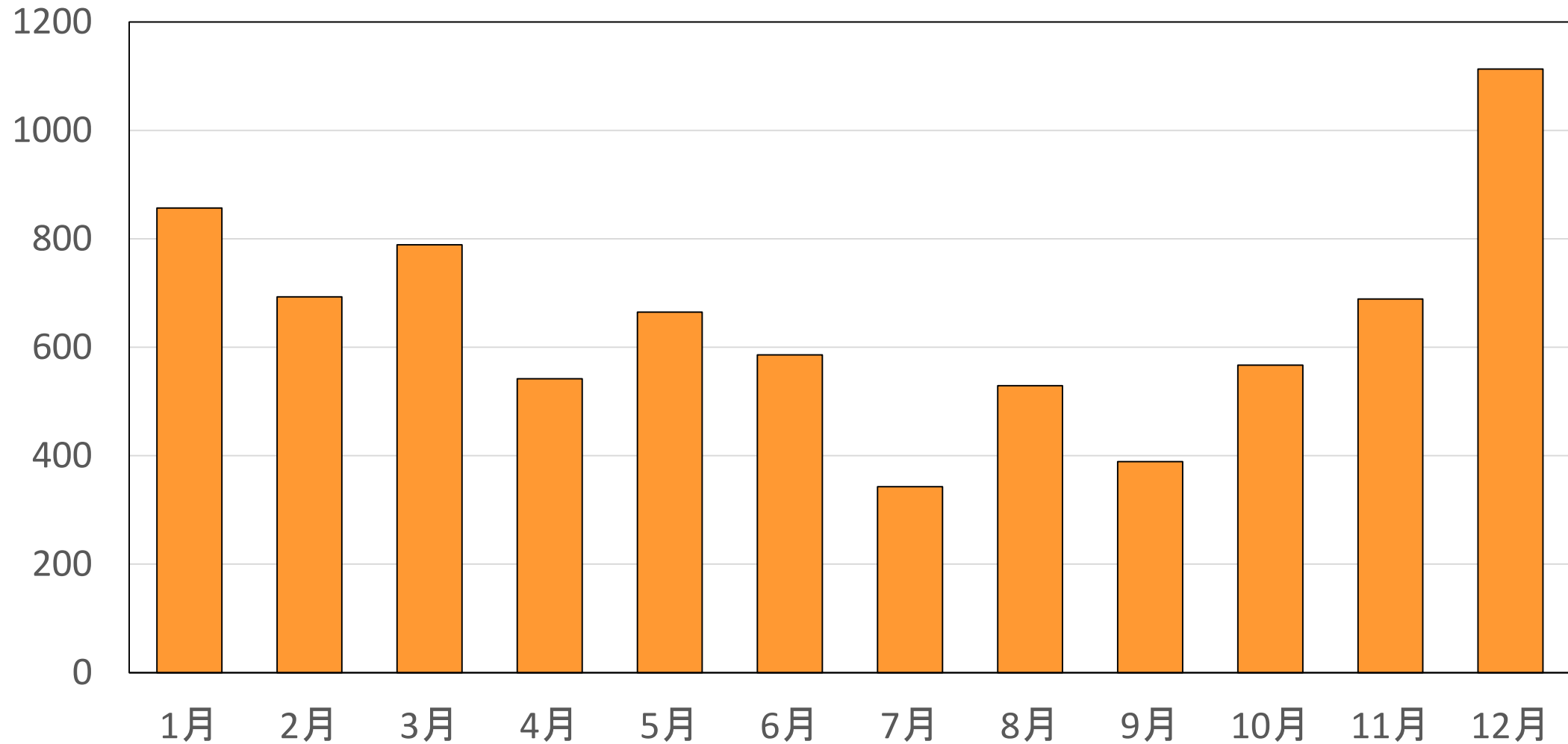
毎月じゅようがあるね。

12月の支出金額が一番多いね。

正解は「ケーキ」!

(円)

「ケーキ」の月別の支出金額(岐阜市)



資料:総務省「令和4年 家計調査」家計収支編二人以上の世帯

「ある食品」はなにかな？

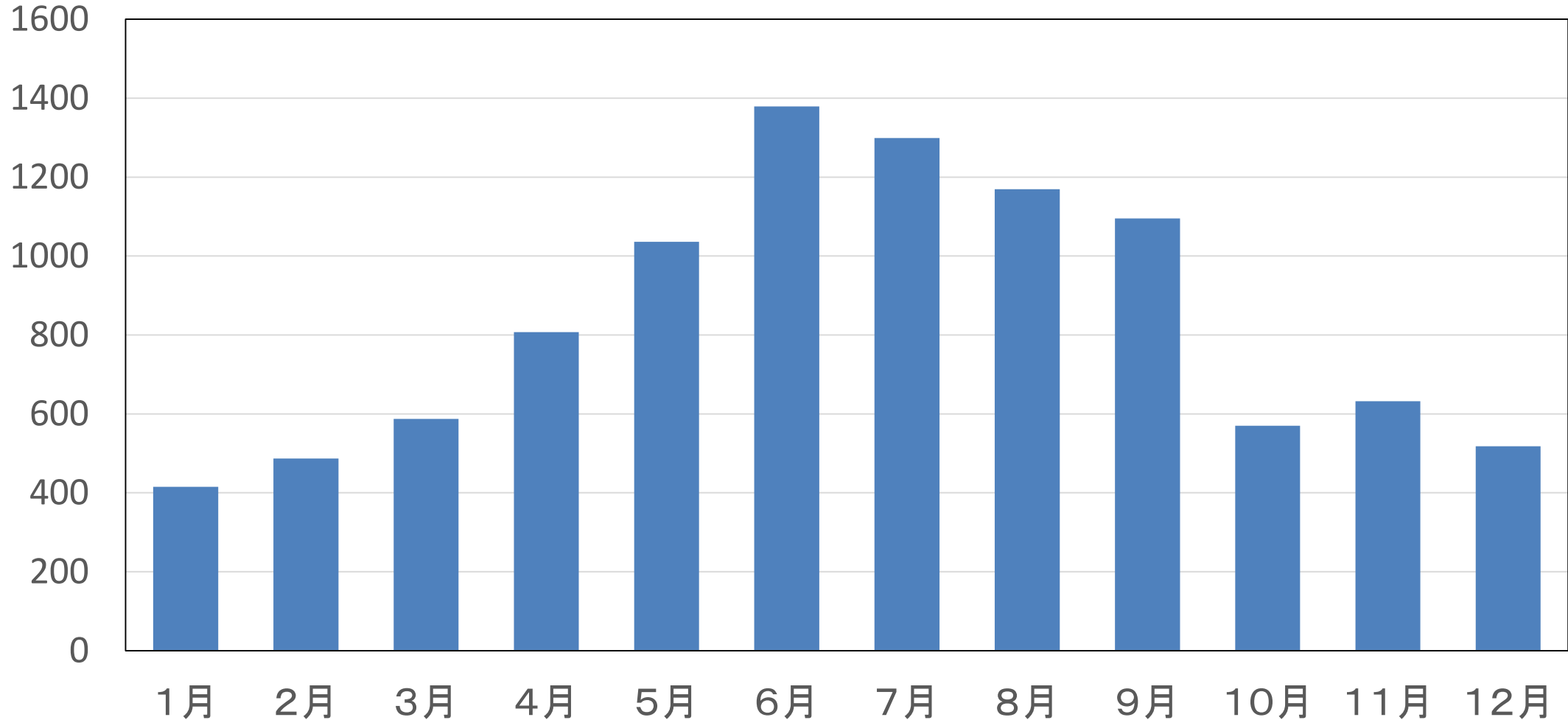
「ある食品」の月別の支出金額(岐阜市)

1月	415円	7月	1299円
2月	487円	8月	1169円
3月	587円	9月	1095円
4月	807円	10月	570円
5月	1036円	11月	632円
6月	1379円	12月	518円

「ある食品」はなにかな？

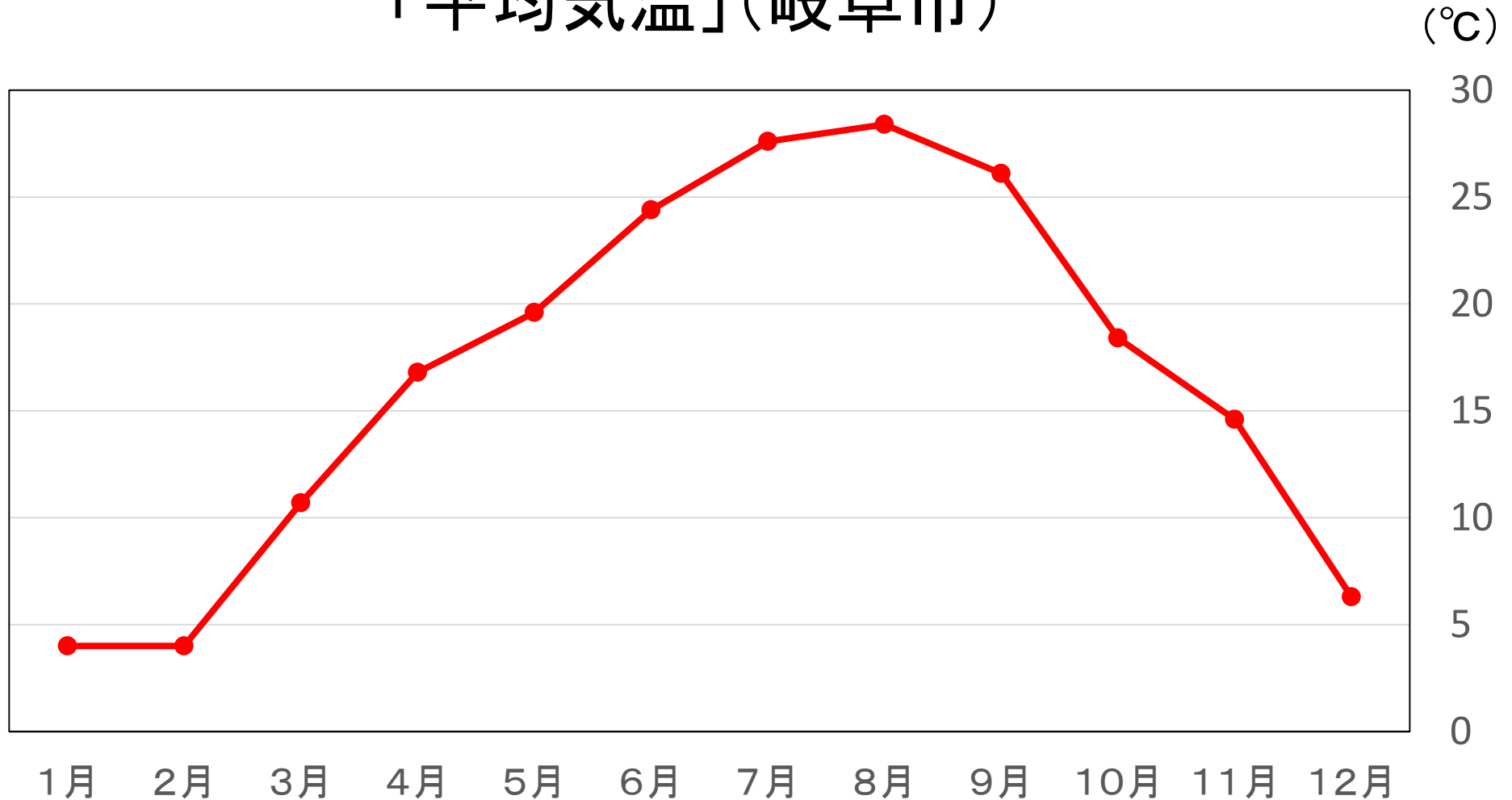
「ある食品」の月別の支出金額(岐阜市)

(円)



ヒント:平均気温

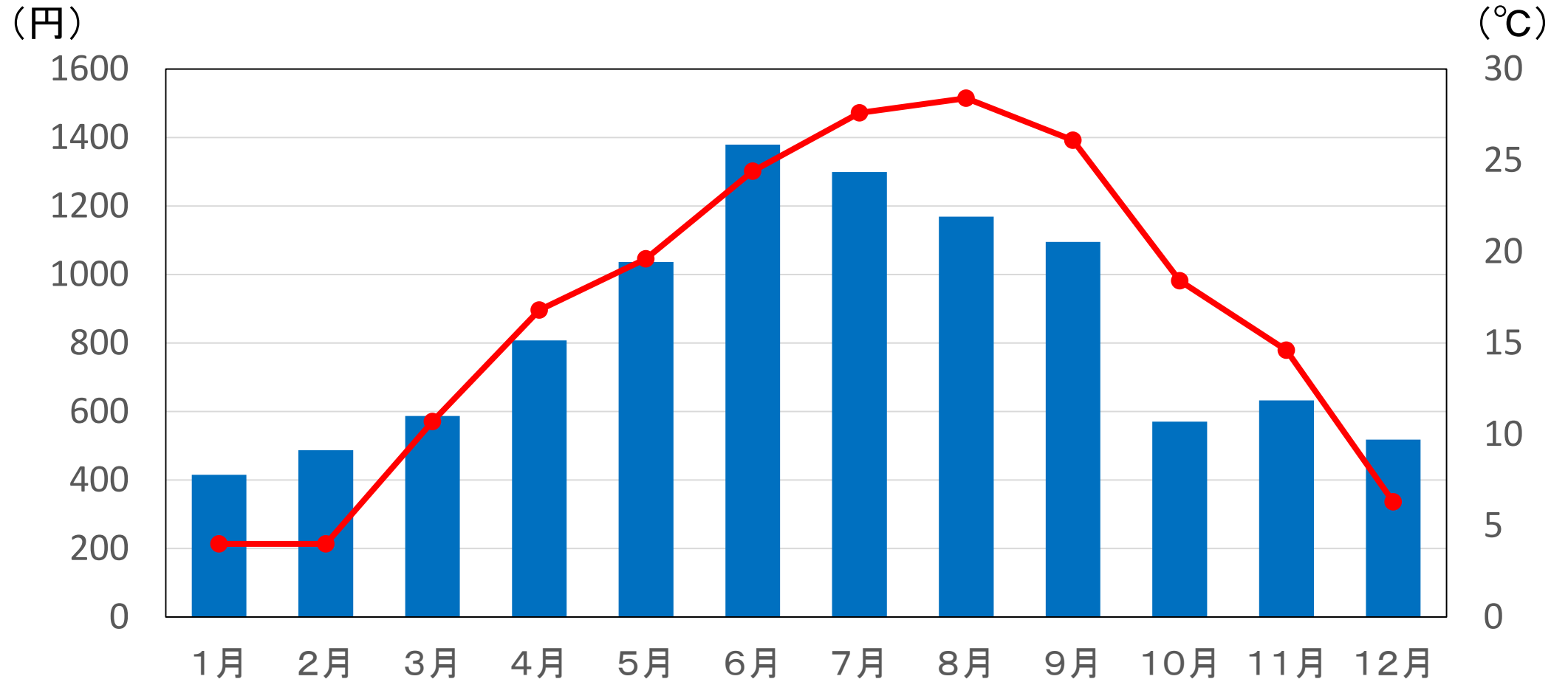
「平均気温」(岐阜市)



資料:気象庁「令和4年 気象データ」※岐阜市の月ごとの平均気温

ヒント:平均気温

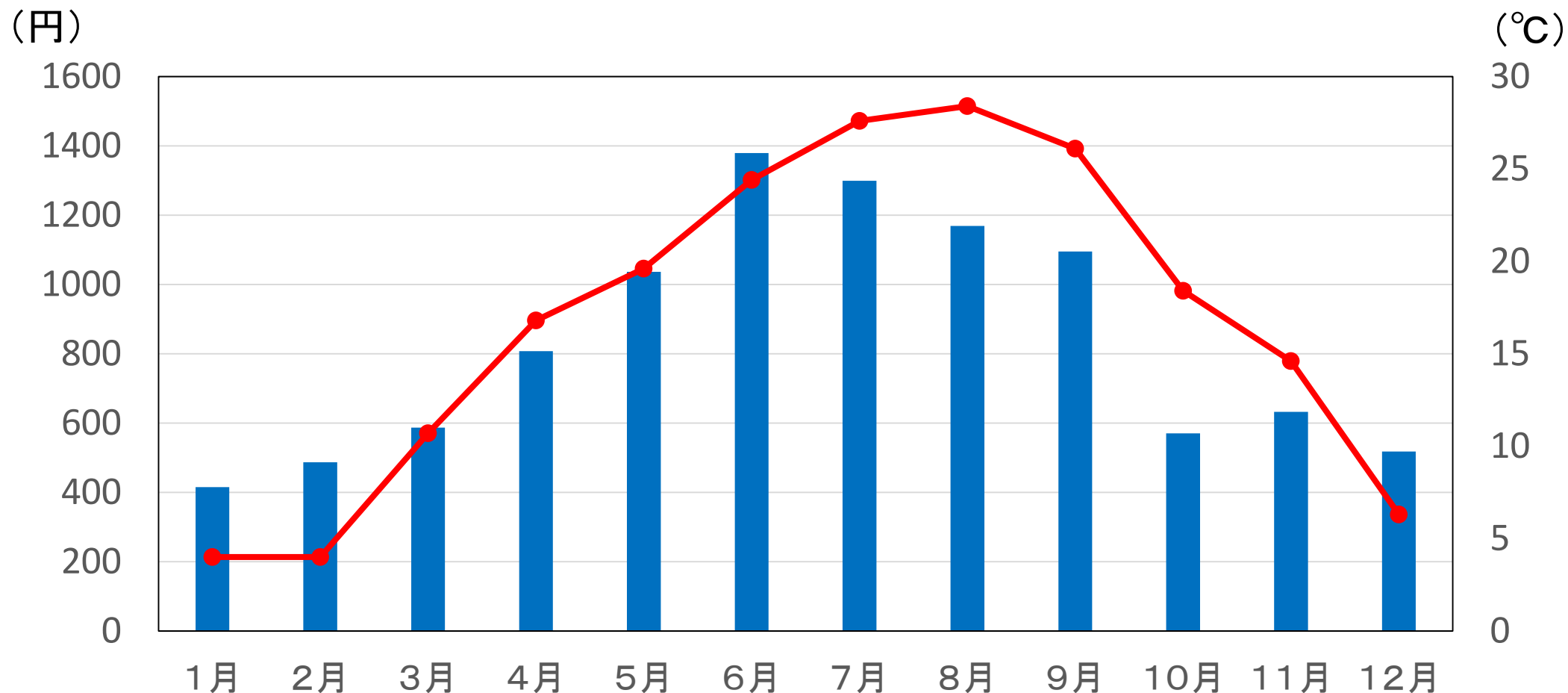
「ある食品」の月別の支出金額と平均気温(岐阜市)



資料:総務省「令和4年 家計調査」家計収支編二人以上の世帯 ※岐阜市
資料:気象庁「令和4年 気象データ」 ※岐阜市の月ごとの平均気温

正解は「アイスクリーム・シャーベット」!

「アイスクリーム・シャーベット」の月別の支出金額と平均気温(岐阜市)



資料:総務省「令和4年 家計調査」家計収支編二人以上の世帯 ※岐阜市
資料:気象庁「令和4年 気象データ」 ※岐阜市の月ごとの平均気温