

高山市の様子をグラフで表そう！①

年 組 名前 _____

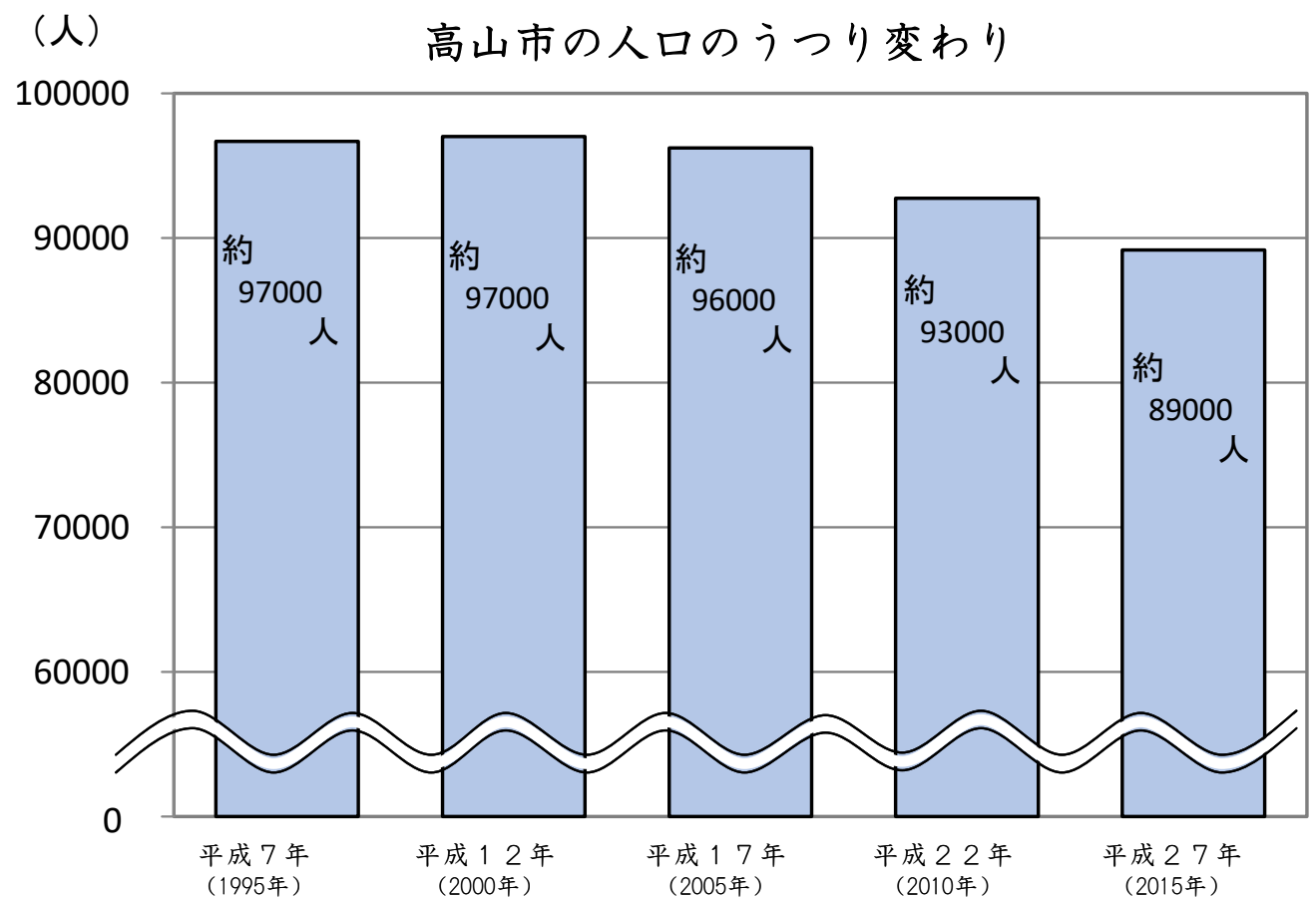
テーマその1：人口

高山市の人口は、減少している。

高山市の出生数と死亡数のうつつり変わり(がい数)

	平成7年 (1995年)	平成12年 (2000年)	平成17年 (2005年)	平成22年 (2010年)	平成27年 (2015年)
人口	97000人	97000人	96000人	93000人	89000人

出典：総務省「国勢調査」



高山市の出生数と死亡数のうつつり変わりを、グラフにして読み取ろう。

1. 高山市の出生数と死亡数をがい数にしてみよう。

高山市の出生数と死亡数のうつつり変わり

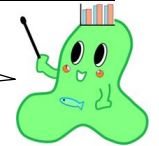
	平成8～12年 (1996～2000年)	平成13～17年 (2001～2005年)	平成18～22年 (2006～2010年)	平成23～27年 (2011～2015年)
出生数	4791 人	4667 人	4091 人	3689 人
死亡数	4031 人	4472 人	4814 人	5621 人

出典：岐阜県統計課「岐阜県人口動態統計調査」

上の表の数を、百の位までのがい数にしてみよう。

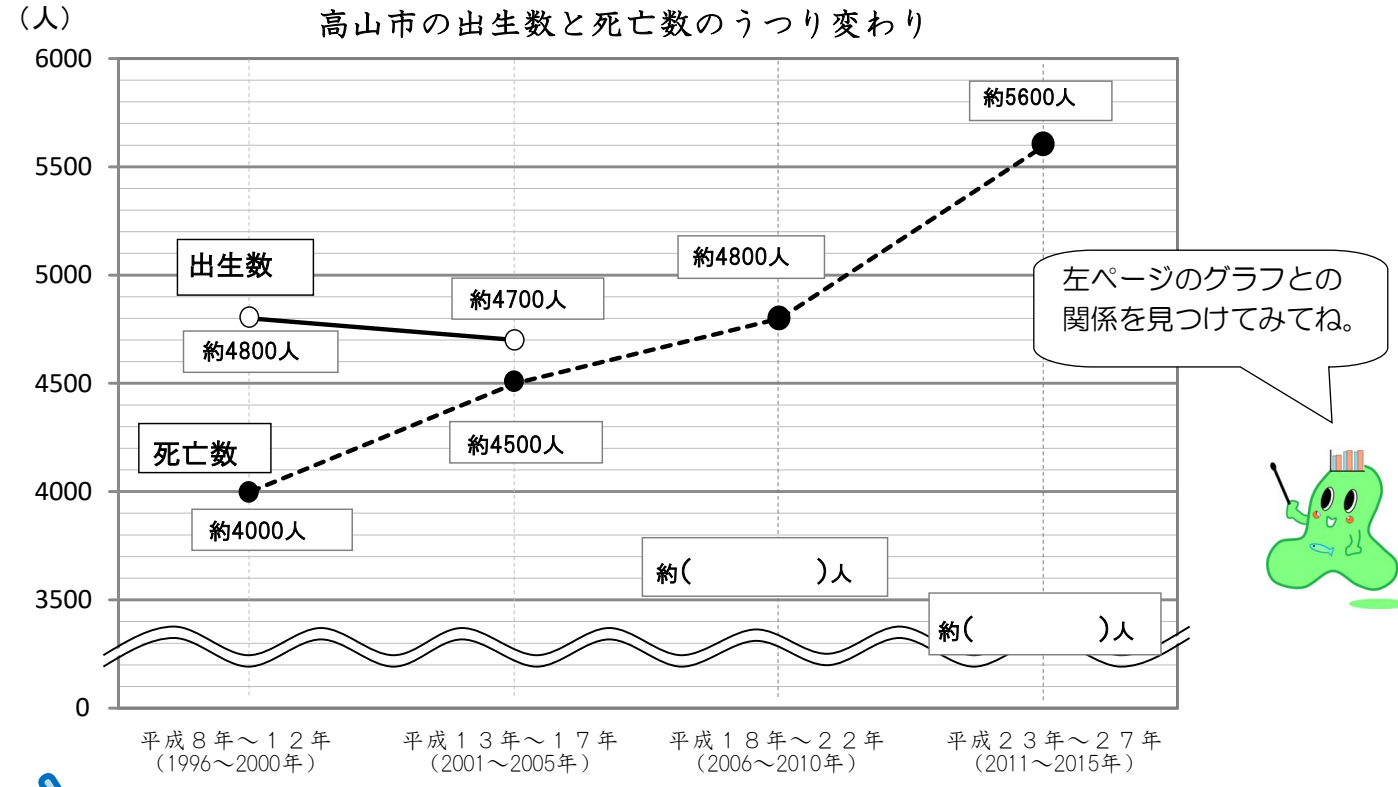
	平成8～12年 (1996～2000年)	平成13～17年 (2001～2005年)	平成18～22年 (2006～2010年)	平成23～27年 (2011～2015年)
出生数	4800 人	4700 人	人	人
死亡数	4000 人	4500 人	4800 人	5600 人

十の位の数字を見て、四捨五入しよう。



2. 折れ線グラフで、高山市の出生数と死亡数のうつつり変わりを表そう。

上の表をもとに、折れ線グラフを完成させよう。



左ページのグラフとの関係を見つけてみてね。



🔍 グラフを見て気付いたこと